

## المدرسة الليبية في فرنسا - تور

الاسم : .....

التاريخ: الاحد ( 2023\11\12 )

الواجب للصف:الثالث

الملاحظات	الواجب المطلوب والمرفقات	ما تم تدريسه	المادة
تسميع الخمس آيات الاولي	حفظ باقي السورة كتابة باقي الايات في الدفتر	شرح آيات سورة البينة	التربية الإسلامية
- يستمر درس اقسام الكلام والضمائر الي عدة اسابيع، لا تستعجلوا في الاستيعاب الكامل للموضوع بسرعة	- قراءة وكتابة جزء من الدرس - اجابة الاوراق المرفقة - الاستمرار علي التدريب علي حروف خط النسخ المرفقة.	- مراجعة درس أسرتي - مراجعة اقسام الكلام ) الاسم والفعل والحرف) - الضمائر	اللغة العربية
	- مراجعة الدرس - حل الاوراق المرفقة وتصويرها وارسالها علي الايميل	- جمع الاعداد - الجمع مع اعادة تجميع الاحاد والعشرات والمئات	الرياضيات
	حل الأوراق المرفقة وتصويرها وارسالها علي الايميل	- تعلم الكلمات المتداولة في الفصل - تعلم بعض الكلمات	اللغة الانجليزية
	حل الورقة المرفقة وتصويرها وارسالها علي الايميل	- التنوع - الكائنات الحية والاشياء غير الحية	العلوم

إرسال الواجبات على الإيميل التالي: [ecolelibyenfrance@gmail.com](mailto:ecolelibyenfrance@gmail.com)

بالتوفيق

معلم الفصل

# التَّدْرِيبَاتُ

أُسْرَتِي

1



أَنْتِ أُمِّي

أَنْتِ

أَنْتِ

أَنْتِ

أَنْتِ

أَنْتَ أَبِي

أَنْتَ

أَنْتَ

أَنْتَ

أَنْتَ



أَبِي مَا نَحْتَاجُ إِلَيْهِ مِنْ طَعَامٍ وَشَرَابٍ.

أَبِي نَهَارًا مِنْ السَّاعَةِ الثَّامِنَةِ صَبَاحًا إِلَى

السَّاعَةِ الثَّانِيَةِ ظَهْرًا.

أَبِي كُلَّ جُهِدِهِ لِلْعِنَايَةِ بِنَا، وَيَهْتَمُّ بِتَعْلِيمِنَا.



لِي جَدَّةٌ تَرَأْفُ بِي

وَكُلُّ شَيْءٍ سَرَّني

وَهِيَ تَقُولُ لِأَبِي

أَلَمْ تَكُنْ تَصْنَعُ مَا



لي أَخٌ وَاحِدٌ

أَخٌ - وَاحِدٌ - لِي

أَخْوَانٍ - اثْنَانِ - لِي

أَخْتٌ - وَاحِدَةٌ - لِي

لي ثَلَاثَةُ إِخْوَةٍ

إِخْوَةٌ - ثَلَاثَةٌ - لِي

إِخْوَةٌ - أَرْبَعَةٌ - لِي

## إِخْوَتِي



## أُكْمِلُ كَمَا فِي الْمَثَالِ:



عَلِيٌّ يُمَارِسُ الرِّيَاضَةَ.

أَنْسُ ————— يَدِيهِ.

مُحَمَّدٌ ————— تَفَاحَةً.

رِيْمٌ ————— اللَّبْنَ.

عَلِيٌّ مَارَسَ الرِّيَاضَةَ.

- أَنْسُ غَسَلَ يَدِيهِ.

- مُحَمَّدٌ أَكَلَ تَفَاحَةً.

- رِيْمٌ شَرَبَتْ اللَّبْنَ.

## عين الأسماء بوضع دائرة حولها:

يَكْتُبُ - يَخْرُجُ - مُحَمَّدٌ - مَكَّةُ - شَجَرَةٌ - تَذْهَبُ - حِصَانٌ - مَسْطَرَةٌ

الْمَدْرَسَةُ - الطَّبِيبُ - بَابٌ - خَدِيجَةٌ - وَقَفْتُ - فَلَسْطِينٌ - أُمِّي -

عَمَّتِي - يَلْعَبُ - مَاذَا - يَزْرَعُ

نَسْأَلُ اللَّهَ لِحُكْمِ التَّوْفِيقِ



ف ق ك ل

التاريخ: ..... الدرجة: ..... التوقيع: .....

م ن ه ه و

التاريخ: ..... الدرجة: ..... التوقيع: .....

لا ي ي

التاريخ: ..... الدرجة: ..... التوقيع: .....



هَيَّا نَعْمَلْ مَعًا!



$$6800 \quad \star 3$$

$$2 \quad \square \quad 00 +$$

---

---

$$2400 \quad \star 2$$

$$3 \quad \square \quad 00 +$$

---

---

$$5 \quad \square \quad 00 \quad \star 1$$

$$2600 +$$

---

---

استخدم جداول القيمة المكانية لمساعدتك في هذه التجميعات.

• مجموع 1693 و 5204 هو  ★ 2

• مجموع 4025 و 364 هو  ★ 3

• مجموع 7143 و 1602 هو  ★ 4

• مجموع 2700 و 3295 هو  ★ 5

اجمع الآحاد أولاً. ثم اجمع العشرات. بعد ذلك، اجمع المئات. أخيراً اجمع الآلاف.



حاول الآتي:

•  = 6308 + 2421 ★ 1

•  = 3020 + 5668 ★ 2



ب) اسْتَخْدِمِ جَدَاوِلَ الْقِيَمَةِ الْمَكَانِيَّةِ لِمُسَاعَدَتِكَ فِي إِجَادِ الْمَجْمُوعِ.

$$\begin{array}{r} 2800 \\ 1700+ \\ \hline \\ \hline \end{array}$$

2

$$\begin{array}{r} 5300 \\ 1900+ \\ \hline \\ \hline \end{array}$$

1

$$\begin{array}{r} 3500 \\ 5500+ \\ \hline \\ \hline \end{array}$$

4

$$\begin{array}{r} 4400 \\ 2700+ \\ \hline \\ \hline \end{array}$$

3

ج) اَجْمَعِ ثُمَّ اَعِدْ تَجْمِيعَ الْمِئَاتِ :

1

$$5 \text{ مِئَاتٍ} + 8 \text{ مِئَاتٍ} = \text{مِئَةٌ}$$

$$\text{مِئَاتٍ} \text{ وَ } \text{أَلْفٌ} =$$

2

$$9 \text{ مِئَاتٍ} + 7 \text{ مِئَاتٍ} = \text{مِئَةٌ}$$

$$\text{مِئَاتٍ} \text{ وَ } \text{أَلْفٌ} =$$

3

$$6 \text{ مِئَاتٍ} \text{ وَ } 4 \text{ عَشْرَاتٍ} + 5 \text{ مِئَاتٍ} \text{ وَ } 2 \text{ عَشْرَاتٍ}$$

$$= \text{مِئَةٌ} \text{ وَ } \text{عَشْرَاتٍ}$$

$$= \text{أَلْفٌ} \text{ وَ } \text{مِئَةٌ} \text{ وَ } \text{عَشْرَاتٍ}$$

4

$$8 \text{ مِئَاتٍ} \text{ وَ } 1 \text{ عَشْرَةٌ} + 4 \text{ مِئَاتٍ} \text{ وَ } 4 \text{ عَشْرَاتٍ}$$

$$= \text{مِئَةٌ} \text{ وَ } \text{عَشْرَاتٍ}$$



$$= \text{أَلْفٌ} \text{ وَ } \text{مِئَاتٍ} \text{ وَ } \text{عَشْرَاتٍ}$$







4 Read and tick (✓).



short hair





small mouth





big eyes



long hair



small ears





1 Write the letter.

a b c e f h m n



\_\_ ye



\_\_ rayon



\_\_ rm



\_\_ ook



\_\_ ead



\_\_ oot



\_\_ ose



\_\_ arker



2 Write the word.

my pencil on

1 It's a yellow \_\_\_\_\_.

2 Here's \_\_\_\_\_ picture.

3 My picture is \_\_\_\_\_ the wall.

Aa  
Bb  
Cc  
Dd  
Ee  
Ff  
Gg  
Hh  
Ii  
Jj  
Kk  
Ll  
Mm  
Nn  
Oo  
Pp  
Qq  
Rr  
Ss  
Tt  
Uu  
Vv  
Ww  
Xx  
Yy  
Zz



# التنوع

أنا أحب  
مادة العلوم



اختر الإجابة الصحيحة مما يأتي:

- 1- المخلوقات الحيّة ... ( تتكاثر ، لا تتكاثر).
- 2- الإختلاف الكبير في الأشياء يسمى: ( التنوع ، الخصائص)
- 3- المخلوقات الحيّة تحتاج إلى: ( هواء ، غاز )
- 4- المخلوقات الحيّة مثل: ( الإنسان ، الألعاب)
- 5- جميع الحيوانات... ( متشابهة ، مختلفة)

**أكمل الفراغات الآتية:**

- تَحْتَاج الكائنات الحيّة إلى ..... و..... و.....
- يَأْكُلُ الخَرُوف ..... و يَأْكُل النَّمِر .....
- تَخْتَلَف الحَيوانات فِي الحجم وَ ..... و .....