

المدرسة الليبية في فرنسا - تور

الاسم :

التاريخ: (2024\11\09)

الواجب للصف: الثاني

الملاحظات والمرفقات	الواجب المطلوب	ما تم تدريسه	المادة
	الاجابة شفويأ علي الاسئلة المرفقة	مولد الرسول صل الله عليه وسلم	التربية الإسلامية
التدرب علي قراءة الكلمات	قراءة وكتابة الدرس	- المدود وتدريبات - نشيد موطن الاجداد	اللغة العربية
	حل التدريبات المرفقة وتصويرها وارسالها علي الايميل	الجمع والطرح باعادة تجميع الاحاد والعشرات	الرياضيات
	حل الورقة المرفقة وتصويرها وارسالها علي الايميل	الوحدة الثانية الدرسان الرابع والسابع	اللغة الانجليزية

1- إرسال الواجبات على الإيميل التالي: ecolelibyenfrance@gmail.com

بالتوفيق

معلمة الفصل

تدريب



س 1

أ - اسْمُ وَالِدِ الرَّسُولِ هُوَ ..

ب - اسْمُ جَدِّهِ هُوَ ..

ج - اسْمُ عَمِّهِ هُوَ ..

النشاط التعليمي



متى وُلِدَ سَيِّدُنَا مُحَمَّدٌ - صَلَّى اللهُ عَلَيْهِ
وَسَلَّمَ؟

س1

مَنْ هَؤُلَاءِ :

س2


- عَبْدُ الْمُطَّلِبِ بْنِ هَاشِمٍ -
- عَبْدُ اللهِ بْنِ عَبْدِ الْمُطَّلِبِ - أَمِنَةٌ
- بِنْتُ وَهْبٍ - أَبُو طَالِبٍ؟



حروف المد

هَيَّا نَقْرًا الْفَقْرَةَ وَنَجِدُ أَرْبَعَ كَلِمَاتٍ تَحْتَوِي عَلَى مَدِّ بِالْأَلْفِ، الْوَاوِ وَالْيَا.

زَارَتْ نُورٌ حَدِيقَةَ الْحَيَوَانَاتِ. رَأَتْ هُنَاكَ الْفِيلَ الْكَبِيرَ
وَخُرْطُومَهُ الطَّوِيلَ. كَمَا شَاهَدَتْ الزَّرَافَةَ الْجَمِيلَةَ وَهِيَ
تَأْكُلُ أَوْرَاقَ الشَّجَرِ. رَاقَبَتِ الصُّوَصَ الصَّغِيرَ وَهُوَ يَصِيدُ
الدُّودَةَ الْمُخْتَبِئَةَ فِي التُّرَابِ. صَاحَتْ نُورٌ مَسْرُورَةً:
مَا أَجْمَلَ هَذَا الْمَكَانَ!



مد بالياء	مد بالواو	مد بالألف
-1	-1	-1
-2	-2	-2
-3	-3	-3
-4	-4	-4

تَدْرِيب 3

(1) أَوْجِدِ النَّاتِجَ.



_____ = 108 + 570 (ب)

_____ = 143 + 36 (أ)

_____ = 51 + 427 (د)

_____ = 24 + 355 (ج)

_____ = 84 + 103 (و)

_____ = 517 + 241 (هـ)



تدريب 4

(1) باع العم محمد 567 قطعة سمك يوم الإثنين.

وباع 412 قطعة سمك يوم الثلاثاء.


كم قطعة باعها في اليومين؟

باع _____ قطعة سمك في اليومين.

(2) سلم القلعة (أ) به 623 درجة.

وسلم القلعة (ب) به 245 درجة أكثر مما في سلم القلعة (أ).

كم درجة في سلم القلعة (ب)؟



يوجد _____ درجة في سلم القلعة (ب).

تَدْرِيب 5

(1) أُوْجِدِ النَّاتِجَ.

_____ = 101 - 206 (ب)

_____ = 65 - 475 (أ)

_____ = 420 - 524 (د)

_____ = 75 - 398 (ج)

_____ = 15 - 139 (و)

_____ = 224 - 579 (هـ)

تدريب 6

(1) يُوجدُ 175 شجرةً في مزرعةٍ عُمر.

أنتجت 152 منها فاكهةً.

كم شجرةً لا تُنتجُ فاكهةً؟

_____ شجرةً لا تُنتجُ فاكهةً.

(2) جِهانُ معها 436 خرزةً.

استعملت 123 في صنعِ سوارٍ وِعقدٍ.

كم خرزةً تَبَقَّتْ معها؟



تَبَقَّى معها _____ خرزةً.

Unit 2 About Me

Lesson 4



1 Read and circle.



1



hand

cat

head

2



mouth

eyes

egg

3




eyes

net

nose

4



lemon

moon

legs

5



hands

hair

legs

6



eyes

ears

elbow



1 Trace, match and write.

oo

ch

oo

ch

th

sh

th

sh

3 three




___ eese



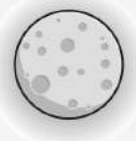
fi___



b___k



___ eep



m___n