



دَوْلَةُ لِيْبِيَا

وَزَارَةُ التَّعْلِيمِ

مَرْكَزُ الْمَنَاحِجِ التَّعْلِيمِيَّةِ وَالْبَحْثِ التَّرْبَوِيَّةِ

الرَّيَاضِيَّات

لِلصَّفِّ الثَّالِثِ

مِنْ مَرَحَلَةِ التَّعْلِيمِ الْأَسَاسِيِّ

الدَّرْسُ الْخَامِسُ






المدرسة الليبية في فرنسا - تور

العام الدراسي

1441 / 1442 هـ . 2020 / 2021 م

## (5) القِسْمَةُ: إيجاد عدد الأشياء في كل مجموعة... العَرَضُ!

أ قَسِّم 42 مُكْعَبًا عَلَى 6 مَجْمُوعَاتٍ مُتَسَاوِيَةٍ.  
كَمْ مُكْعَبًا يُوجَدُ فِي كُلِّ مَجْمُوعَةٍ؟



فَكَّرَ فِي الضَّرْبِ:

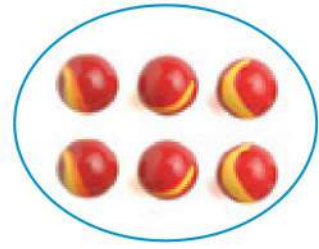
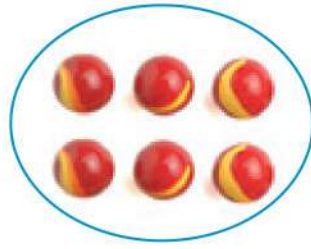
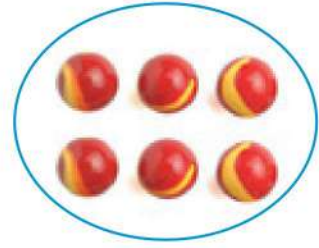
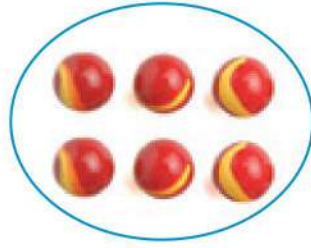
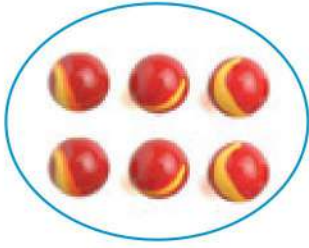
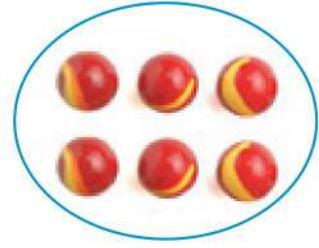
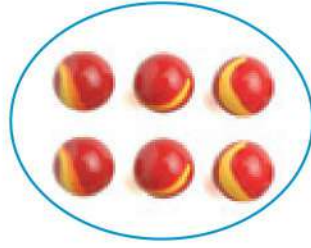
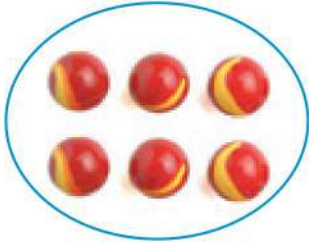
$$42 = 7 \times 6$$

$$7 = 6 \div 42$$

$$7 = 6 \div 42$$

يُوجَدُ 7 مُكْعَبَاتٍ فِي كُلِّ مَجْمُوعَةٍ.

ب قَسِّم 48 كُرَّةً عَلَى 8 مَجْمُوعَاتٍ مُتَسَاوِيَةٍ .  
كَمْ كُرَّةً تُوجَدُ فِي كُلِّ مَجْمُوعَةٍ؟



فَكِّرْ فِي الضَّرْبِ :

$$48 = 6 \times 8$$

إِذَا  $48 \div 8 =$

=  $8 \div 48$

يُوجَدُ  كُرَّاتٍ فِي كُلِّ مَجْمُوعَةٍ .

هَيَّا نَعْمَلْ مَعًا!



عَدَدُ اللَّاعِبِينَ:

مَجْمُوعَاتٌ مِنْ 4 أَوْ 5

تَلَامِيذٌ.

تَحْتَاجُ:

● بَطَاقَاتٌ تَحْمِلُ عَمَلِيَّاتٍ

ضَرْبِ جَدَاوِلَ 6، 7، 8، 9

هَيَّا نَكْتُبْ جُمْلَ قِسْمَةٍ!

أ

يَسْحَبُ لَاعِبٌ مِنَ الْمَجْمُوعَةِ الْأُولَى بَطَاقَةً.

تَكْتُبُ الْمَجْمُوعَةُ الْأُولَى مَسْأَلَتِي قِسْمَةٍ مِنْ بَطَاقَةِ الضَّرْبِ الْمَسْحُوبَةِ.

مِثَالٌ: إِذَا كَانَتِ الْبَطَاقَةُ الْمَسْحُوبَةُ هِيَ  $32 = 4 \times 8$  تَكْتُبُ الْمَجْمُوعَةُ:

تَتَأَكَّدُ الْمَجْمُوعَاتُ الْأُخْرَى مِنَ الْإِجَابَةِ.

$$8 = 4 \div 32$$

$$4 = 8 \div 32$$

اذْكُرْ مَسْأَلَةً عَنِ الْقِسْمَةِ!

ب

اذْكُرْ مَسْأَلَةً قِسْمَةٍ بِتَرْتِيبِ مُكْعَبَاتٍ فِي مَجْمُوعَاتٍ مِنْ 6 أَوْ 7 أَوْ 8 أَوْ 9 اطلُبْ مِنْ صَدِيقِكَ إِيجَادَ الْإِجَابَةِ لِهَذِهِ الْمَسْأَلَةِ.

مِثَالٌ:

اشْتَرَى بِلَالٌ 36 قِطْعَةً حَلْوِيَّاتٍ.

وَضَعَهَا بِالتَّسَاوِي فِي 9 عُلْبٍ.

$$4 = 9 \div 36$$

يُوجَدُ 4 قِطْعِ حَلْوِيَّاتٍ فِي كُلِّ عُلْبَةٍ.



## (6) القِسْمَةُ: تَكْوِينُ مَجْمُوعَاتٍ مُتَسَاوِيَةٍ . . . . . العَرَضُ!

أ قَسِّمَ 56 نَجْمَةً وَرَقِيَّةً عَلَى مَجْمُوعَاتٍ مُتَسَاوِيَةٍ.  
يُوجَدُ 8 نَجْمَاتٍ وَرَقِيَّةٍ فِي كُلِّ مَجْمُوعَةٍ.  
مَا عَدَدُ الْمَجْمُوعَاتِ؟



فَكَّرْ فِي الضَّرْبِ:

$$56 = 8 \times 7$$

$$7 = 8 \div 56$$



$$7 = 8 \div 56$$

يُوجَدُ 7 مَجْمُوعَاتٍ.



حاولِ الآتي:



1 اشترى هشام 72 كرة.  
كون دائرة من 9 كرات.  
كم دائرة يستطيع تكوينها من كل الكرات؟

2 صنعت رانيا 64 قطعة بسكويت.  
وضعت كل 8 قطع من البسكويت في علبة.  
ما عدد العلب التي استخدمتها؟



3 عند أحمد 72 كتابًا.  
وضعا بالتساوي في بعض الصناديق.  
يسع كل صندوق 8 كتب.  
كم صندوقًا يحتاجها أحمد؟

4 سيذهب 28 تلميذًا إلى حديقة الحيوان بالسيارات.  
كل سيارة تسع 7 تلاميذ.  
كم سيارة يحتاجها التلاميذ جميعًا؟