

المدرسة الليبية في فرنسا - تور

الاسم :

التاريخ: 2024 / 11 / 17

الواجب للصف الثامن الاسبوع الرابع

المادة	ما تم تدريسه	الواجب المطلوب	الملاحظات والمرفقات
التربية الإسلامية	- الصلاة تعريفها وحكمها وشروطها		
اللغة العربية	- النحو : نائب الفاعل - القراءة: اولوا الالباب	- اجب علي الورقة المرفقة وقم بتصويرها وارسالها علي الايميل	يقوم ولي الامر بإملاء جزء من اي نص من الكتاب، وفي حال وجود اخطاء كثيرة يطلب من الطالب اعادة كتابة الدرس
الرياضيات	- التناسب الطردي والتناسب العكسي	- اجب علي الورقة المرفقة وقم بتصويرها وارسالها علي الايميل	
اللغة الانجليزية	- الوحدة الثانية الدرس الاول	اجب علي الورقة المرفقة وقم بتصويرها وارسالها علي الايميل	
العلوم	- الاشعاع الحراري	اجب علي الورقة المرفقة وقم بتصويرها وارسالها علي الايميل	
التاريخ	- اثر الدعوة الاسلامية	اجب علي الورقة المرفقة وقم بتصويرها وارسالها علي الايميل	
الجغرافية	- النباتات الطبيعية	- حل الورقة المرفقة وتصويرها وارسالها علي الايميل	

-إرسال الواجبات على الإيميل التالي: ecolelibyenfrance@gmail.com

بالتوفيق

معلم الفصل

تَدْرِيبَاتُ

(1)

الرَّبِيعُ مَوْسِمُ الْجَمَالِ وَالْإِبْدَاعِ، فِيهِ يَعْتَدِلُ الْجَوْ، وَيَطِيبُ النَّسِيمُ، إِذَا أَقْبَلَ
كُسَيْتِ الْأَرْضِ عُشْبًا، وَأَلْبَسَتِ الْأَشْجَارُ أَوْرَاقًا وَأَزْهَارًا، وَهُوَ مُنَاسَبَةٌ جَمِيلَةٌ يُعْطَى
الْإِنْسَانُ فِيهَا فُرْصَةَ الْإِسْتِمْتَاعِ بِمَا خَلَقَ اللَّهُ تَعَالَى فِي هَذَا الْكَوْنِ مِنْ مَظَاهِرِ الزَّيْنَةِ.
وَفِي الرَّبِيعِ تُمْنَحُ الْحَيَاةُ نَشَاطًا يَسُرُّ الْقُلُوبَ وَيُنْعِشُ النُّفُوسَ.

أ. اقْرَأ الْقِطْعَةَ السَّابِقَةَ ثُمَّ أَخْرِجْ مَا فِيهَا مِنْ أَفْعَالٍ مُتَعَدِّيَةٍ إِلَى مَفْعُولَيْنِ وَبَيْنِ نَائِبِ
الْفَاعِلِ.

ب. عَيِّنْ فِي الْقِطْعَةِ كُلِّ فِعْلٍ مَبْنِيٍّ لِلْمَجْهُولِ وَاجْعَلْهُ مَبْنِيًّا لِلْمَعْلُومِ ثُمَّ بَيِّنْ
الْمَفْعُولَيْنِ.

(2)

قَالَ الشَّاعِرُ أَحْمَدُ شَوْقِي:

وَطَنِي لَوْ شَغَلْتُ بِالْخُلْدِ عَنْهُ * نَازَعْتَنِي إِلَيْهِ فِي الْخُلْدِ نَفْسِي

اشرح البيت ثم أعرب ما تحته خطًا.

(3)

اجْعَلِ الْأَفْعَالَ الْآتِيَةَ مَبْنِيَّةً لِلْمَجْهُولِ، وَبَيْنِ نَائِبِ الْفَاعِلِ.

(1) جَعَلَ اللَّهُ تَعَالَى الْقُرْآنَ الْكَرِيمَ شَرِيعَةً. (2) مَنَحَ الْمُوسِرُ الْمُحْتَاجَ مَعُونَةً.

الْمُنَاقَشَةُ

س3: مِنْ صِفَاتِ أَوْلِي الْأَلْبَابِ كَمَا أَوْضَحَتْ الْآيَاتُ:

- أ. التَّعَاوَنُ مَعَ أَهْلِ الذِّمَّةِ. ب. ذُكْرُ اللَّهِ - سُبْحَانَهُ وَتَعَالَى - فِي جَمِيعِ الْأَحْوَالِ.
ج. التَّدَبُّرُ فِي مَلَكُوتِ السَّمَوَاتِ وَالْأَرْضِ. د. الْفَقْرَتَانِ (ب، ج) صَحِيحَتَانِ.
س4: مَعْنَى ﴿بَطِلاً﴾:

- أ. عِبَاةٌ مِنْ دُونِ حِكْمَةٍ. ب. عِبَاةٌ بِحِكْمَةٍ.
ج. حَقًّا مَطْلُوبًا. د. حَقًّا عَلَى الْآخِرِينَ.

س5: اخْتَرِ الْمَعْنَى الْمُنَاسِبَ مِنْ بَيْنِ الْأَقْوَاسِ:

أ. أَخْرَبْتَهُ [أَهَنْتَهُ - قَوَيْتَهُ - شَجَعْتَهُ].

ب. الثَّوَابِ [الْبِاسِ - الْعَذَابِ - الْجَزَاءِ].

ج. الْأَلْبَبِ مُفْرَدًا [لُبَابٌ - لُبٌّ - لَبَبٌ].

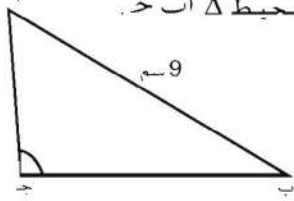
د. لَا كَفِرَنَّ [لَا زِيدَنَّ - لَا قُتِلَنَّ - لَا مَحُونًا].

س6: زَاوِجٌ بَيْنَ الْمَجْمُوعَةِ (أ) بِمَا يُنَاسِبُهَا مِنَ الْمَجْمُوعَةِ (ب):

(ب)	(أ)
1 تَنْزِيهِ اللَّهِ مِنَ الشُّوْءِ	1 خَلَقَ السَّمَوَاتِ وَالْأَرْضِ وَمَا بَيْنَهُمَا
2 رَبَّنَا مَا خَلَقْتَ هَذَا بَطِلاً	2 الْمُؤْمِنُونَ الصَّادِقُونَ يُبْهِمُ اللَّهُ - تَعَالَى - أَفْضَلُ الثَّوَابِ، وَيَكُونُ جَزَاؤُهُمْ
3 الْجَنَّةُ وَمَا فِيهَا مِنْ نَعِيمٍ	3 نُبْرَتِكَ يَا رَبَّنَا مِنَ الْعَبَثِ
4 أَصْحَابُ الْعُقُولِ النَّيْرَةِ	4 سُبْحَانَكَ
5 عَلَامَاتٌ وَاضِحَةٌ عَلَى قُدْرَةِ الْخَالِقِ	5 الدَّاعِيَةُ لِلإِيمَانِ بِاللَّهِ وَحْدَهُ
6 هُوَ النَّبِيُّ مُحَمَّدٌ ﷺ	6 لِأَوْلَى الْأَلْبَبِ

- 6- نسبة ثمن كتاب بغلاف ورق إلى ثمن كتاب بغلاف مقوى تساوي 1 : 3، فإذا كان ثمن الكتاب الثاني 18 ديناراً فما ثمن الكتاب الأول؟

- 8- إذا كانت النسبة بين أطوال أضلاع Δ أ ب ح كالآتي:
أ ب : ب ح : ح أ = 3 : 5 : 6 وإذا كان أ ب = 9 كم
احسب محيط Δ أ ب ح.



- 1- أوجد قيمة س في كل ما يلي:

(أ) س : 2 = 3 : 1 (ب) س : 2 = 6 : 3
(ج) 4 : 5 = س : 12 (د) 4 : 7 = س : 28

- 3- النسبة بين ثمن سيارتين تساوي 7 : 11، وثمان السيارة الأعلى 6600 دينار. ما ثمن السيارة الأرخص؟



- 5- إذا كانت نسبة سرعة دراجة بخارية إلى سرعة دراجة عادية تساوي 8 : 3، وإذا كانت الدراجة البخارية تتحرك بسرعة 60 كم/س فما سرعة الدراجة العادية؟

تمرين 2- ز

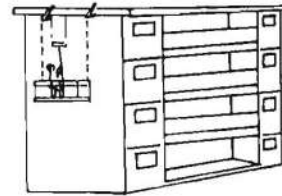
- 3- يستطيع 9 عمال إقامة حائط خلال 10 أيام. إذا كان عدد العمال 6 ففي كم يوماً يتم إقامة هذا الحائط؟

- 5- عند فلاح كمية من العلف تكفي 60 يوماً لإطعام 90 من الخراف، كم خروفاً يجب بيعها حتى يكفي العلف لمدة 100 يوم؟

- 6- إذا كان 6 عمال يستطيعون تنظيف شبابيك مبنى خلال 10 ساعات، كم عاملاً يلزم لكي ينتهي التنظيف خلال 4 ساعات؟

- 1- يستطيع 30 رجلاً إنجاز عمل خلال 32 يوماً، في كم يوماً يستطيع 40 رجلاً إنجاز نفس العمل؟

- 2- يحتاج طلاء جانب إحدى العمارات 6 عمال لإنجازه خلال 4 أيام، كم عاملاً يلزم لإنجاز نفس العمل خلال 3 أيام؟

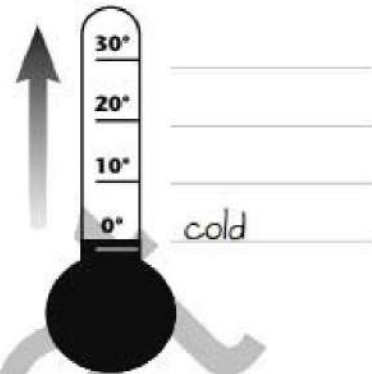


Lesson 1: The Seasons of the Year

C21
SKILLS

A Write these words in the correct places.

cool hot warm



B What's the weather like in each season? Write the weather words next to the seasons.

cold cool hot rains snows sunny warm windy

winter _____ summer _____

spring _____ autumn _____

C21
SKILLS

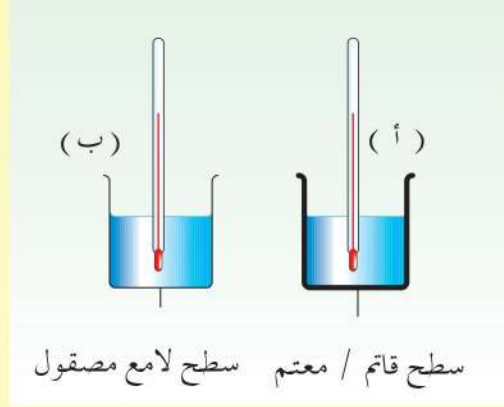
C Word-building. Complete this table.

noun	verb	adjective
_____	snow	snowy
_____	rain	_____
_____	_____	_____

أسئلة للمراجعة



1- تم صب حجمين متساويين من ماء مغلي في وعاءين أ، ب، وثُبَّت مقياسا حرارة (ترمومتران) متشابهان فيهما كما هو مبين بالشكل . أي من العبارات التالية صحيح؟



- (أ) ترتفع درجة الحرارة في الوعاء «أ» إلى حوالي 100 س قبل درجة الحرارة في الوعاء «ب» .
 (ب) تظل درجة الحرارة في الوعاء «ب» مرتفعة لفترة زمنية أطول منها في الوعاء «أ» .
 (ج) تهبط درجة الحرارة في الوعاء «ب» أسرع منها في الوعاء «أ» بعد بعض الوقت .
 (د) تهبط درجة الحرارة في الوعاء «أ» أسرع منها في الوعاء «ب» بعد بعض الوقت .

2- عند خبز كعكة في الفرن، أي من عمليات انتقال الحرارة التالية تكون متضمنة؟

- (أ) توصيل، وحمل، وإشعاع حراري .
 (ب) توصيل، وحمل حراري فقط .
 (ج) توصيل حراري فقط .
 (د) إشعاع، وحمل حراري فقط .

3- لماذا تحفظ الملابس الصوفية أجسامنا دافئة أثناء فصل الشتاء؟

- (أ) الصوف مشع حراري رديء .
 (ب) الهواء المحبوس في الملابس الصوفية موصل رديء للحرارة .
 (ج) لا يمكن تجميد الصوف .
 (د) الملابس الصوفية سميكة .

4- تُنشأ جدران المنازل في بعض الدول بطبقتين من الطوب توضع بينهما طبقة من مادة الزجاج الليفية . لماذا يتم ذلك؟

- (أ) لحفظ المنزل بارداً خلال الصيف، ودافئاً خلال الشتاء .
 (ب) لتقليل تكلفة الإنشاء .
 (ج) لجعل الجدران أسمك .
 (د) لعزل الصوت بحيث تدخل ضوضاء أقل إلى البيت .

5- عند الوقوف تحت سقف من الزنك، كيف تنتقل الحرارة إليك؟

(أ) بالتوصيل الحراري والحمل الحراري عن طريق الهواء .

(ب) بالحمل الحراري للهواء .

(ج) بالإشعاع الحراري من السقف الزنك .

(د) بالإشعاع الحراري والتوصيل الحراري عن طريق الهواء .

6- يمنحك لمس سطح فلزي عند درجة حرارة معينة للغرفة شعورًا بالبرودة أكثر من لمسك لسطح

خشبي . لماذا يحدث ذلك؟

(أ) الفلزات مشع أفضل للحرارة من الخشب .

(ب) الفلزات موصل أفضل للحرارة من الخشب .

(ج) يكون دائمًا الفلز عند درجة حرارة أدنى من درجة حرارة الغرفة .

(د) يستغرق الخشب وقتًا أطول ليصل إلى نفس درجة حرارة الغرفة .

أسئلة الباب الأول

1- ضع علامة (✓) أمام العبارة الصحيحة، وعلامة (×) أمام العبارة الخاطئة:

- (أ) انتصر المسلمون في غزوة بدر. ()
(ب) كان أبو بكر أول من أسلم من الرجال. ()
(ج) عارض أهل الطائف الدعوة الإسلامية عندما لجأ الرسول ﷺ إليهم. ()
(د) نزل أبو طالب ابن أخيه محمداً ﷺ. ()
(هـ) أمر الرسول ﷺ المسلمين بالهجرة إلى الحبشة عندما اشتد إيذاء المشركين لهم. ()

2- أذكر أسباب كل مما يأتي :

(أ) معارضة قريش للدعوة الإسلامية .

(ب) هجرة الرسول ﷺ إلى يثرب .

4- أكمل العبارات الآتية :

(أ) كانت أهم عبادة عند العرب قبل الإسلام بينما انتشرت

الديانة المسيحية في والديانة في اليمن .

(ب) كانت هجرة المسلمين الأولى إلى وهاجر الرسول ﷺ

من إلى التي سميت بعد الهجرة

باسم..... .

(ج) رافق الرسول ﷺ في الهجرة، وقد اتخذ المسلمون

الهجرة مبدأ في عهد الخليفة

الناتق وامناتق

- س1 : يتأثر النبات الطبعي في الوطن العربي بعدة عوامل . اشرح ذلك ؟
- س2: قارن بين الغابات شبه الأستوائية والغابات المعتدلة من حيث توزيعها ونوع المناخ الملائم لكل منها وأنواع أشجارها .
- س4 : قارن بين الحشائش الحارة والحشائش المعتدلة من حيث توزيعها الجغرافي وخصائصها المناخية والنباتية .
- س5 : علل لما يأتي :

- أ- تقلص مساحة النباتات الطبيعية في الوطن العربي .
- ب- تنمو وتزدهر الحشائش المعتدلة في فصل الشتاء.