

المدرسة الليبية في فرنسا - تور

الاسم :

التاريخ: 2024 / 11 / 17

واجبات للصف الثاني ثانوي الاسبوع الرابع

| المادة | ما تم تدريسه | الواجب المطلوب | الملاحظات والمرفقات |
|-------------------|--|--|---------------------|
| التربية الإسلامية | التسامح مع الديانات الإسلامية المساواة والعدالة الاجتماعية في الإسلام | - الاجابة علي الاسئلة المرفقة وتصويرها وارسالها علي الايميل | |
| اللغة العربية | - البلاغة :اغراض الخبر البلاغية - النحو: انواع الخبر | - الاجابة علي الاسئلة المرفقة وتصويرها وارسالها علي الايميل | |
| الرياضيات | - قواعد الجيب وجيب التمام | - الاجابة علي الاسئلة المرفقة وتصويرها وارسالها علي الايميل | |
| اللغة الانجليزية | - الوحدة الثانية الدرس الاول - الوحدة الاولى الدرس السادس | - اجابة التدريبات وتصويرها وارسالها علي الايميل | |
| الكيمياء | - التحليل الكهربائي لبروميد الرصاص | | |
| الفيزياء | - السرعة والعجلة | - اجابة التدريبات وتصويرها وارسالها علي الايميل | |
| الاحياء | - التنفس | | |
| حاسوب | - لغة البرمجة | | |
| الاحصاء | - العرض البياني للبيانات الاحصائية | | |

-إرسال الواجبات على الإيميل التالي: ecolelibyenfrance@gmail.com

بالتوفيق

معلم الفصل

المناقشة

1. من الذي يكون النبي ﷺ خصمه يوم القيامة؟ وَعَلَامَ يَدُلُّ ذَلِكَ؟
2. ما واجب المسلم نحو من استجاره من المشركين؟
3. ماذا أحل الله لنا من أهل الكتاب؟

المناقشة

1. ما المزايا التي اختص الله بها الإسلام؟
2. ما معيار المفاضلة بين الناس؟ وما أساس التفاضل بينهم في القرآن الكريم؟
3. أي العبادات التي تظهر فيها مظاهر المساواة؟

تدريبات

- 1 -

الهواء في بلادنا نقيّ، والشمس ساطعة، والمطر يسقط في الشتاء غزيراً، والأرض تضحك لمقدميه، الثّبات يرقص طرباً لنزوله. والريبع واسطة العقد بين فصول السنة، فالزهور تفتتح، والطيور تُغرّد. بلادي جنّة الدنيا، سماؤها صافية، وأرضها خيرة، وناسها بررة.

- اقرأ القطعة السابقة ثم أجب عن الأسئلة :

- أ - استخرج من القطعة الجمل الاسمية، وعيّن ركني كل جملة .
- ب - اجعل كل كلمة من الكلمات التي فوق الخط ركناً في جملة اسمية .

- 2 -

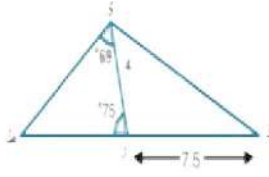
- ضع مبتدأ مناسباً مكان النقط في الجمل الآتية:

- (أ) يدافع عن الوطن.
- (ب) يُحَيُّون العلم كل صباح.
- (ج) أغلى من الحياة.
- (د) مخلصان.

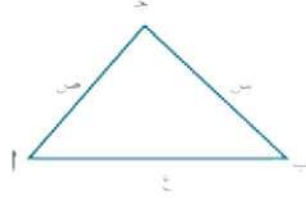
تمرين 2 - ب:

1 إذا كانت الإجابة ليست صحيحة قرب الإجابة بالدرجات لأقرب رقم عشري.

3 في الشكل ط ر د ، خط مستقيم ، قياس ط و ر = 69° ، قياس \triangle و ر ط = 75° ، و ر = 4 سم
رذ 7.5 سم ، أوجد
(أ) و ط (ب) و ذ



اذكر الخطأ في كل من المعادلات الآتية
حيث تطبق قاعدة جيب التمام لحل المثلث
أ ب ح



1 $س^2 = ص^2 + ع^2 - 2صع$

ب $س^2 = ص^2 - ع^2 + 2صع$ جتا P

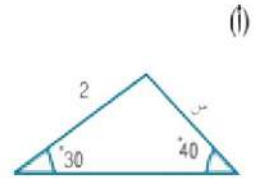
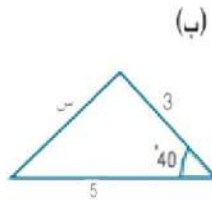
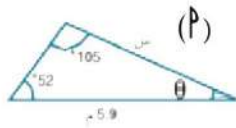
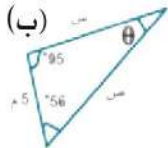
ج $س^2 = ص^2 + ع^2 - 2صع$ جتا P

د جتا ب = $\frac{س^2 + ع^2 - ص^2}{2صع}$

هـ جتا ب = $\frac{س^2 + ع^2 - ص^2}{ع}$


تمرين 2 - أ:

2 في المثلثات الآتية . استخدم قاعدة الجيب لإيجاد القيم غير المعلومة والزوايا . أعط إجابتك مقربة لثلاثة أرقام معنوية وقيم الزوايا مقربة ارقم عشري واحد



1 حدد في المثلثات الآتية إمكانية استخدام قاعدة الجيب الأيجاد أطوال الأضلاع غير المعلومة وقياسات الزوايا المشار إليها

Lesson 1: Keeping in Touch

A Here are some of the things people said about communication. Use verbs from the box in the past simple to fill the gaps.  **14** Listen and check your answers.

be buy call get give go not like receive
say send start take tell think

Example: "My parents gave me a mobile phone for my birthday."

- 1 "Yesterday, for example, I _____¹ to my friend's house after school. I _____² my mother from the bus and _____³ her I'd be late."
- 2 "I _____⁴ a mobile from my father when I _____⁵ secondary school."
- 3 "Yesterday I _____⁶ this really nice photo of my brother Adel. He _____⁷ it much. He _____⁸ it was too close."
- 4 "I _____⁹ my mobile with my own pocket money."
- 5 "They _____¹⁰ it would be really useful. And they _____¹¹ right."
- 6 "Some of my friends _____¹² me birthday cards in the post, but I also _____¹³ a few e-cards."

B Match the words and write compound nouns.

- | | |
|------------------|-------------|
| 1 gaming _____ | computer |
| 2 laptop _____ | application |
| 3 mobile _____ | message |
| 4 camera _____ | card |
| 5 text _____ | money |
| 6 pocket _____ | message |
| 7 birthday _____ | phone |
| 8 picture _____ | phone |

1. أوجد الزمن الذي يستغرقه عداء ليقطع مسافة (1500 m) بسرعة (7.5 m/s)؟
2. يتحرك قطار بسرعة منتظمة (60 m/s) جنوباً لمدة 20 min. أوجد الإزاحة بـ km .
3. أوجد الزمن الذي تستغرقه سفينة لتقطع مسافة (630 km) ، إذا كانت سرعتها (70 km/hr)
4. تطلق بارجة حربية على بعد 120 km من الشاطئ نيران مدافعها، أوجد الزمن المستغرق ليصل صوت المدافع إلى الشاطئ إذا علمت أن سرعة الصوت في الهواء (344 m/s).