



دَوْلَاتُ لِيْبِيَا

وَزَارَةَ التَّعْلِيمِ

مَرْكَزُ الْمَنَاحِجِ التَّعْلِيمِيَّةِ وَالْبَحْثِ وَالتَّرْبُويَّةِ

الرِّيَاضِيَّاتِ

لِلصَّفِّ الأوَّلِ

مِنْ مَرَحَلَةِ التَّعْلِيمِ الأَسَاسِيِّ


## الدرس السادس

المدرسة الليبية في فرنسا - تور

العام الدراسي:

1441 / 1442 هـ . 2020 / 2021 م

# الجمع حتى 10



(1) العدّ ..... العرّض!

$$? = 2 + 6$$



أ

عدّ بدءاً من العدد الأكبر: 6، 7، 8.



(+) تعني  
زائداً!

$$8 = 2 + 6$$

إذا،

الكلُّ      جزء      جزء



$$? = 5 + 2$$

ب



ابدأ العدّ من العدد الأكبر .  
اذكّر الأجزاء والكلّ .



## (2) المُقارَنَةُ بِالْمُمَاثِلَةِ . . . . . العَرَضُ !

أ



عَدَدُ الْأَطْفَالِ أَكْثَرُ مِنْ عَدَدِ الْبَسْكَوَيْتِ .  
عَدَدُ قِطْعِ الْبَسْكَوَيْتِ أَقَلُّ مِنْ عَدَدِ الْأَطْفَالِ .

ب



هَلْ كُلُّ جَوْرِبٍ لَهُ حِذَاءٌ؟  
أَيُّهُمَا أَكْثَرُ: عَدَدُ الْأَحْذِيَةِ أَمْ عَدَدُ الْجَوَارِبِ؟


هَيَّا نَعْمَلُ مَعًا!




أ . أمامك قطار أعداد.




كُونِ قِطَارَ أَعْدَادٍ بِأَكْثَرِ مِنْ 3 .

كَمْ  يُوجَدُ فِي قِطَارِ الأَعْدَادِ الَّذِي كَوَّنْتَهُ؟


كُونِ قِطَارَ أَعْدَادٍ بِأَقَلِّ مِنْ 3 .

كَمْ  يُوجَدُ فِي قِطَارِكَ؟

ب . كُونِ قِطَارَ أَعْدَادٍ بِأَكْثَرِ مِنْ 7 .

كَمْ  يُوجَدُ فِي قِطَارِكَ؟

كُونِ قِطَارَ أَعْدَادٍ بِأَقَلِّ مِنْ 7 .

كَمْ  يُوجَدُ فِي قِطَارِكَ؟



### (3) الجَمْعُ بِاسْتِخْدَامِ مُكَوِّنَاتِ العَدَدِ ..... العَرَضُ!

أ. يُمَكِّنُكَ الاسْتِعَانَةُ بِمُكَوِّنَاتِ العَدَدِ فِي عَمَلِيَّةِ الجَمْعِ.



ما عَدَدُ طَيُورِ البَطْرِيقِ؟

$$? = 5 + 3$$

$$8 = 5 + 3$$

الكُلُّ

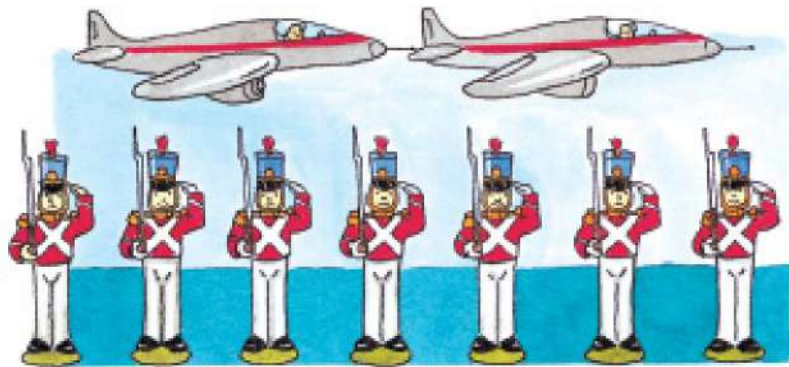
8

3

جُزْءٌ

5

جُزْءٌ



ب. ما عَدَدُ اللُّعْبِ؟


$$? = 7 + 2$$

هَيَّا نَعْمَلُ مَعًا!





أ

ما عَدَدُ أَشْبَالِ النُّمُورِ الذَّاهِبَةِ إِلَى المَسْرَحِ؟




ب ما عَدَدُ الحَشْرَاتِ الذَّاهِبَةِ لِلتَّسْوُوقِ؟



مُرَاسَةُ التَّدْرِيبَاتِ : تَدْرِيب 3

# (4) جَمْعُ الأَعْدَادِ ..... العَرَضُ !

أ اجمَع هَذِهِ الصُّورَ.



$$8 = 2 + 6$$

8

6

2

3 أَضِفْ



4



$$7 = 3 + 4$$

7

4

3

4 أَضِفْ



5



$$\underline{\quad} = \underline{\quad} + \underline{\quad}$$




ب




هَيَّا نَعْمَلُ مَعًا!



اجْمَع.



وَأَ 4



3

أ




وَأَ 3



6

ب




وَأَ 1




9

ج



وَأَ 5



3

د



وَأَ 2



5

هـ

# ضِعْ قُبَّعَةَ التَّفْكِيرِ !



حاول الآتي:

إذا كانت 7 تساوي فكم تساوي ؟

إذا كانت 6 تساوي فكم تساوي ؟

إذا كانت 9 تساوي فكم تساوي ؟

$$\text{🌿} = 3 + \text{🌻}$$

إذا كانت 5 تساوي

فكم تساوي ؟

$$\text{🌿} = 3 + 5$$

إذا 8 تساوي