

## المدرسة الليبية في فرنسا - تور

الاسم : .....

التاريخ: (2024\11\24)

الواجب للصف: الثالث

الملاحظات	الواجب المطلوب والمرفقات	ما تم تدريسه	المادة
	- حل الورقة المرفقة وتصويرها وارسالها علي الايميل	- درس الامانة	التربية الإسلامية
	- اجابة الاوراق المرفقة - الاستمرار علي التدريب علي حروف خط النسخ المرفقة.	- درس لغتي الجميلة - مراجعة الازمنة	اللغة العربية
	حل الأوراق المرفقة وتصويرها وارسالها علي الايميل	- الضرب بدون اعادة تجميع - الضرب مع اعادة التجميع	الرياضيات
	حل الأوراق المرفقة وتصويرها وارسالها علي الايميل	- الوحدة الثانية الدرس الثالث	اللغة الانجلي
	حل الأوراق المرفقة وتصويرها وارسالها علي الايميل	تصنيف الحيوانات	العلوم

إرسال الواجبات على الإيميل التالي: [ecolelibyenfrance@gmail.com](mailto:ecolelibyenfrance@gmail.com)

بالتوفيق

معلمة الفصل



## النشاط التعليمي :

1. املأ الفراغات بكلمات مناسبة :
- أ. الأمانة هي ..... على كل شيء .....  
أو ..... عنه .
- ب. المحافظة على ..... الناس  
وعدم ..... أمانة .
- ج. النصيحة لأخيك ..... أمانة .
- د. جزاء الأمين هو دخول ..... وجزاء  
الكذّاب ..... النار .
2. ضع علامة (✓) أمام الصواب وعلامة (x) أمام الخطأ :
- أ. ارجع الأمانة إلى أصحابها سلوك قبيح ( ) .
- ب. من أنواع الأمانة عدم الغش في الامتحانات ( ) .
- ج. جزاء الخائن الجنة ( ) .
- د. يحب الناس الخائنين ( ) .

د دينار مدينة مجتهد ورد

التاريخ: ..... الدرجة: ..... التوقيع: .....

ذ ذئب مذياع لذيد

التاريخ: ..... الدرجة: ..... التوقيع: .....





# مراجعة أزمنة الفعل

أضغ الفعل المضارع في الفراغ المناسب:

أتذكر أن الفعل المضارع يدل على عمل يحدث في الحاضر أو المستقبل وحركة آخره الضمة

يقرأ ، تشرح ، يسير

- ..... خالِدُ القِصصِ المُفيدِةِ .
- ..... المُعلِّمَةُ الدَّرْسِ .
- ..... النَّملُ في صُفوفٍ مُنظمةِ .

أضغ الفعل الماضي في الفراغ المناسب:

أتذكر أن الفعل الماضي يدل على عمل يحدث قبل زمن وحركة آخره الفتحة

أكل ، رجع ، جعل

- ..... الطِّفْلُ تُفاحِةِ .
- ..... الجنودِ مِنَ المَعركةِ .
- ..... اللهُ العِسلِ شفاءً للناسِ .

أضغ فعل الأمر في الفراغ المناسب:

أتذكر أن الفعل الأمر بأن تطلب من شخص أمراً من الأمور وحركة آخره السكون

نظف ، أكمل ، اشرب

- ..... أسنانك بِالفُرشاةِ .
- ..... طَعامُكَ .
- ..... الحَلِيبُ الطَّازِجِ .

# التَّدْرِيبَاتُ

1 أَفْرَأُ، وَأَتَذَوِّقُ

أَنَا الْبَحْرُ فِي أَحْسَائِهِ الدَّرُّ كَامِنٌ  
فَهَلْ سَاءَ لُؤَا الْغَوَاصِّ عَنْ صَدَفَاتِي

لُغْتُنَا الْعَرَبِيَّةُ بَحْرٌ فِي أَلْفَظِهَا وَمَعَانِيهَا، وَصُورِهَا  
الْأَدَبِيَّةِ، وَالَّذِي يُفْتَشُّ فِي أَعْمَاقِهَا بَحْثًا وَدِرَاسَةً  
يَكْتَشِفُ بِهِاءَ أَلْفَظِهَا، وَجَمَالَ مَعَانِيهَا، وَقُوَّةَ تَأْثِيرِهَا  
وَمَقْدِرَتِهَا عَلَى التَّعْبِيرِ أَدَبًا وَعِلْمًا.



هُوَ • هِيَ

أَنْتَ • أَنْتُمْ

أَنَا • نَحْنُ

أَنَا أَرْغَبُ فِي أَنْ أَتَعَلَّمَ اللُّغَةَ الْعَرَبِيَّةَ الْفُصْحَى.

• نَحْنُ \_\_\_\_\_

• أَنْتَ \_\_\_\_\_

• أَنْتُمْ \_\_\_\_\_

• هُوَ \_\_\_\_\_

• هِيَ \_\_\_\_\_

لُغَاتٌ سُلُوكٌ وَسِيْلَةٌ

إِنْدَاعٌ تَقْوِيْمٌ حَضَارَةٌ

جَدِيْدٌ مَحْفُوْظَةٌ خُلُوْدٌ



## 4 أختارُ الكَلِمَةَ المُناسِبَةَ مِنَ المُستَطيْلِ، وَأُكْمِلُ بِهَا الجُمْلَةَ

الأَكْلُ • الشُّرْبُ • الفِكرُ

• اللُّغَةُ العَرَبِيَّةُ هِيَ وَعَاءٌ \_\_\_\_\_ .

الإنسانِ • القرآنِ • الزَّمانِ

• اللُّغَةُ العَرَبِيَّةُ مَحْفُوظَةٌ بِحِفْظِ \_\_\_\_\_ .

أفراحِها • أخبارِها • إنتاجِها

• إِنَّ الأُمَّمَ تُقَاسُ بِقُوَّةِ لُغَتِهَا، وَغَزَاةِ \_\_\_\_\_ .

## 5 أَنْقُلْ وَأُحْسِنُ الْخَطَّ

• اللُّغَةُ الْعَرَبِيَّةُ جَمِيلَةٌ بَدِيعَةٌ شَاعِرَةٌ.

• الْعَرَبِيَّةُ لُغَتِي الْجَمِيلَةُ.

• أَعْتَنِي بَلُغَةَ الْقُرْآنِ الْكَرِيمِ.

• أُنَمِّي رَصِيدِي اللُّغَوِيَّ.

ج حَاولِ الآتي:

2 4

1

2 ×

\_\_\_\_\_

\_\_\_\_\_

4 0

2

2 ×

\_\_\_\_\_

\_\_\_\_\_

2 3 2

3

3 ×

\_\_\_\_\_

\_\_\_\_\_

1 1 2

4

4 ×

\_\_\_\_\_

\_\_\_\_\_



تُزاسَةُ التُّدْرِيبَاتِ : تَدْرِيبِ 1، 2، 3

آحادٍ  = آحادٍ  × 2

عَشْرَاتٍ  = عَشْرَاتٍ  × 2

آحادٍ  = آحادٍ  × 2

عَشْرَاتٍ  = عَشْرَاتٍ  × 2

آحادٍ  = آحادٍ  × 3

عَشْرَاتٍ  = عَشْرَاتٍ  × 3

مِائَاتٍ  = مِائَاتٍ  × 3

آحادٍ  = آحادٍ  × 4

عَشْرَاتٍ  = عَشْرَاتٍ  × 4

مِائَاتٍ  = مِائَاتٍ  × 4

ب حَاولِ الآتي:

$$\begin{array}{r} 974 \\ 4 \times \\ \hline \\ \hline \end{array}$$

اضرب أولاً الآحاد في 4  
 $4 \times 4 = 16$  آحاداً

أعد تجميع الآحاد

آحاد  عشرة و  = آحاد

ثم اضرب العشرات في 4  
 $4 \times 7 = 28$  عشرة

اجمع العشرات:  عشرة +  عشرة =  عشرات

أعد تجميع العشرات:  عشرة =  مِئات و  عشرات

أخيراً، اضرب المِئات في 4  
 $4 \times 9 = 36$  مِئة

اجمع المِئات:  مِئة +  مِئة =  مِئات

أعد تجميع المِئات:  مِئات

=  آلاف و  مِئة

إذا،  $4 \times 974 =$



$$\begin{array}{r} 654 \\ 5 \times \\ \hline \\ \hline \end{array}$$

$$\begin{array}{r} 785 \\ 3 \times \\ \hline \\ \hline \end{array}$$





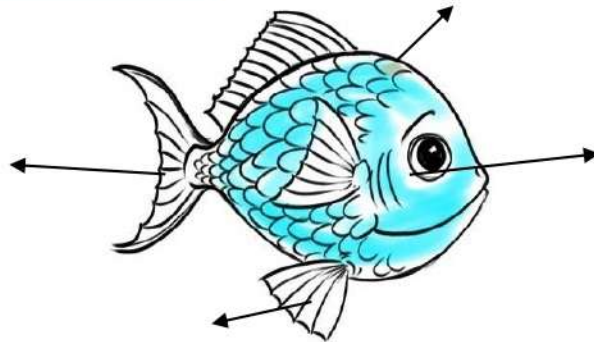
أختارُ الإجابة مما بين القوسين:

- . يغطي جسم الأسماك ... ( الجلد - القشور )
- . تتنفس الأسماك عن طريق ... ( الخياشيم - الأنف )
- . الحوت الأزرق من ... ( الأسماك - الثدييات )
- . خلد الماء ... ( يلد - يبيض )
- . يغطي جسم الطيور... ( الوبر - الريش )
- . تسبح الأسماك بواسطة . ( الخياشيم - الزعانف )

أضع علامة ( ✓ ) أو ( ✗ ) أمام العبارات التالية


- ا - تعيش الأسماك في الماء المالح فقط. -----
- ب - تتنفس الأسماك الأكسجين الذائب في الهواء. -----
- ج - جميع الحيوانات تتغذى على نفس الطعام. -----
- د- الأسماك تعيش في الماء العذب والمالح. -----
- و - الطيور لها جناحان ومنقار ورجلان ويكسوها ريش. -----
- هـ -الثدييات الوحيدة التي تُرضع صغارها. -----
- ي - كل الحيوانات تأكل نفس الغذاء. -----

أكتب أسماء أجزاء السمكة في المكان الصحيح: خياشيم ، قشور ، زعانف ، ذيل



3- ضع أجزاء وبيانات الحشرة في مكانها الصحيح:

بطن - رأس - أرجل - قرنا استشعار - صدر



2- ضع علامة حول الصورة التي تعتبر من الحشرات؟

4- ضع علامة صح أو خطأ:



- 1) جميع الزواحف تُعتبر من حشرات. ( )
- 2) الحشرات هي المخلوقات الوحيدة التي لها ستة أرجل. ( )
- 3) كل الحشرات لها زوج واحد من الأجنحة. ( )
- 4) تتكاثر الحشرات بوضع البيض. ( )
- 5) العناكب تصنف من الحشرات. ( )
- 6) بعض الحشرات ليس لها أجنحة. ( )

5- أكمل الفراغ:







- ينقسم جسم الحشرة إلى ثلاث أجزاء هي -----،-----،-----

- يوجد فوق رأس الحشرة قرون تسمى -----

الاسم.....

## الحشرات

الطيور، الزواحف، الثدييات، الحشرات، البرمائيات.

اسم الحيوان	الفئة التي ينتمي إليها
 ضفدع	
 بطريق	
 خفاش	
 دولفين	
 تمساح	
 فراشة	

1. اكتب في الجدول بجانب كل حيوان اسم الفئة التي ينتمي إليها  
اختر من الفئات التالية:



مستقبل مشرق أتمناه لكم.....

## ورقة عمل الطيور

1. أي من الحيوانات التالية هو من الطيور؟



- أ. الماعز
- ب. البقرة
- ت. النسر
- ث. الدجاجة

2. ما هي صفة الطيور؟



- أ. جميعها تطير
- ب. لها منقار وريش
- ت. جلدها رطب
- ث. جلدها خشن

3. وجد حسن ريشًا لأي مجموعة يتبع الحيوان؟



- أ. الثدييات
- ب. الطيور
- ت. البرمائيات

4. ضع علامة ✓ أو ✗ أمام العبارات التالية؟



1. يغطي جسم الطيور الريش. ( )
2. جميع الطيور تستطيع أن تطير. ( )
3. جميع الطيور لها زوج من الأرجل. ( )
4. كل كائن يستطيع أن يطير هو من الطيور. ( )
5. تتكاثر جميع الطيور بواسطة البيض. ( )
6. يوجد في مقدمة فم الطيور منقار يساعده في إنقاص طعامه. ( )

5. اختر الكلمة المناسبة؟



- يغطي جسم الطيور ( الريش - الشعر )
- جميع الطيور . ( تلد - تبيض )
- أكبر الطيور . ( العصفور - النعامة )
- الإيمو من الطيور التي . ( تطير - لا تطير )
- يكون لكل الطيور : منقار - جناحان - رجلان ( صح - خطأ )