



دَوْلَاتُ لِيْبِيَا

وَزَارَةَ التَّعْلِيمِ

مَرْكَزُ الْمَنَاحِجِ التَّعْلِيمِيَّةِ وَالْبَحْثِ وَالتَّرْبُويَّةِ

الرِّيَاضِيَّاتِ

لِلصَّفِّ الأوَّلِ

مِنْ مَرَحَلَةِ التَّعْلِيمِ الأَسَاسِيِّ


## الدرس السابع

المدرسة الليبية في فرنسا - تور

العام الدراسي:

1441 / 1442 هـ . 2020 / 2021 م

# الطَّرْحُ حَتَّى 10




(1) العَدُّ لِلْأَمَامِ ..... العَرَضُ!

1 إمامك 9 من العناكب تتناول طعام الإفطار، اشطب على 6 منها.



يَتَبَقَّى لَدَيْنَا 3 عَنَّاكِبَ.



الْعَلَامَةُ (-)  
تَعْنِي نَاقِصًا!

$$\begin{array}{r} 9 - 6 = 3 \\ \text{الكُل} \quad \text{جُزْء} \quad \text{جُزْء} \end{array}$$

تَسْتَطِيعُ أَيْضًا الْعَدُّ إِلَى الْأَمَامِ:  
أَبْدَأُ مِنْ عَدَدِ الْعَنَاكِبِ الْمَحذُوفَةِ.  
ثُمَّ عُدُّ حَتَّى تَصِلَ إِلَى الْمَجْمُوعِ.



قَفَزَ الْعَنْكَبُوتُ 3  
خُطُواتٍ لِيَصِلَ إِلَى الْعَدَدِ 9  
الإجابة هي 3

$$3 = 9 - 6$$

ب في الصُّورة 8 قوارب، أبحر منها ثلاثة قوارب .

كم قاربًا بقي على الشاطئ؟



هيا نعمل معًا!



أ اطرخ بالعد إلى الأمام .

يُمكنك الاستعانة بخط الأعداد التالي :



1 يوجد في الصُّورة 5 أطفال . ما عدد البنات بالصُّورة؟




$$\underline{\quad} = \underline{\quad} - 5$$

2 يُوجد في الصورة 8 ضفادع. كم ضفدعة نائمة؟




$$\underline{\quad} = \underline{\quad} - 8$$

3 يُوجد في الصورة 10 كرات من الصوف. كم كرة منها حمراء اللون؟



$$\underline{\quad} = \underline{\quad} - 10$$

4 في الصورة 9 عصافير. كم عصفورا بقي في العش؟



$$\underline{\quad} = \underline{\quad} - 9$$

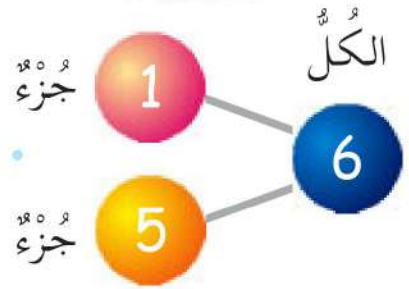
## (2) الطَّرْحُ بِاسْتِخْدَامِ مُكَوَّنَاتِ الْعَدَدِ . . . . . العَرَضُ !

أ تَسَاعِدُكَ مُكَوَّنَاتُ الْعَدَدِ فِي الطَّرْحِ .

كَمْ كَعْكَةً بَقِيَتْ فِي الطَّبَقِ؟

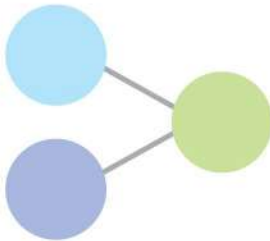


$$5 = 1 - 6$$



ب ما عَدَدُ حَيَوَانَاتِ فَرَسِ الْبَحْرِ الَّتِي لَمْ تَذْهَبْ إِلَى الْحَفْلَةِ؟

$$? = 3 - 10$$

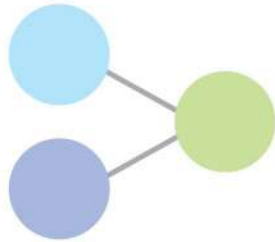


هَيَّا نَعْمَلْ مَعًا!



اطْرَحْ.

كَمْ كَيْسًا مِنَ الْحُبُوبِ مَوْجُودٌ عَلَى  
الْأَرْضِ؟



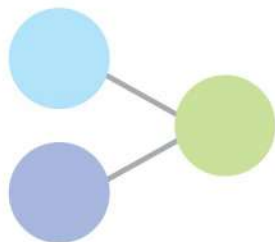
\_\_\_\_\_ = \_\_\_\_\_ - \_\_\_\_\_



أ

كَمْ وَرَقَةً خَضْرَاءَ لَمْ تَأْكُلْهَا الدُّودَةُ؟

ب



\_\_\_\_\_ = \_\_\_\_\_ - \_\_\_\_\_



### (3) تَكْوِينُ قِصَصٍ عَنِ الطَّرْحِ . . . . . العَرَضُ!

أ

مُحَمَّدٌ مَعَهُ 10 شَرَائِحَ مِنَ البَطَاطِسِ .

أَخَذَ وَلِيدٌ شَرِيحَتَيْنِ مِنَ البَطَاطِسِ .

$$8 = 10 - 2$$

بَقِيَ مَعَ مُحَمَّدٍ 8 شَرَائِحَ مِنَ البَطَاطِسِ .




فِي الصُّورَةِ 7 سَنَاجِبَ .

4 مِنْهَا كَبِيرَةٌ .

$$3 = 7 - 4$$

يُوجَدُ 3 سَنَاجِبَ صَغِيرَةٌ .







رَأَتْ أَمِينَةً 8 عَصَافِيرَ عَلَى السُّورِ.

طَارَتْ الْعَصَافِيرُ كُلُّهَا.

كَمْ عُصْفُورًا بَقِيَ عَلَى السُّورِ؟

\_\_\_\_\_ = \_\_\_\_\_ - \_\_\_\_\_




أَمَامَكَ 6 سَحَالِي تَلْعَبُ كُرَةَ الْقَدَمِ.



3 مِنْهَا بَدُونِ ذَيْلٍ.

كَمْ مِنْهَا لَهُ ذَيْلٌ؟

\_\_\_\_\_ = \_\_\_\_\_ - \_\_\_\_\_


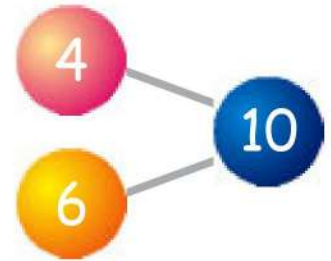


# (4) طَرَحُ الأَعْدَادِ . . . . . العَرَضُ !



تَذَكَّرُ مُكَوَّنَاتِ العَدَدِ .

$$6 = 4 - 10$$



$$\underline{\quad} = 1 - 6$$

