

المدرسة الليبية في فرنسا - تور

الاسم :

التاريخ: (01\12\2024)

الواجب للصف: الاول

المادة	ما تم تدريسه	الواجب المطلوب
التربية الإسلامية	حديث يا غلام ودرس من آداب الأكل	تسميع سورة الفلق
اللغة العربية	حرف الجيم شكله وكيفية كتابته في بداية الكلمة ووسطها وآخرها مع بعض الكلمات	- اعادة كتابة حرف الجيم في بداية الكلمة ومنتصفها وآخرها خمسة مرات في الكراسة - حل الورق المرفق، وتصويره وارساله علي الايميل
الرياضيات	طرح الاعداد حتي 10	- حل الورق المرفق، وتصويره وارساله علي الايميل
اللغة الانجليزية	الوحدة الرابعة الدرس الثالث والرابع	

ملاحظات مهمة:

1- الرجاء الألتزام بحل الواجبات وارسالها علي الايميل ecolelibyenfrance@gmail.com

بالتوفيق

معلمة الفصل

ألاحظ حرف الجيم في الكلمة ثم أعيد كتابتها :

دَجَاجٌ	ثَلْجٌ	أَشْجَارٌ	نُجُومٌ	جَبَلٌ
.....
.....
.....

حرف الجيم مع المدود:


اقرأ وأكتب

جَا	جِي	جُو	جَامِعٌ	جِيرَانٌ	جُوعٌ
.....
.....
.....

قصة حرف الجيم:

ذهب جلال و جميلة لزيارة الجد والجدة، حمل جلال جوزاً وجزراً للجدة وحملت جميلة جبناً لذيذاً للجد ، قال الجد والجدة أهلاً جلال وجميلة.

وصل الصورة التي تحتوي على حرف الجيم بالحرف ج :




ج




ضع خطأ تحت الكلمة التي بها حرف ج :


كوب - طبيب - جدار - نجوم - ثوم - محراث - رجال.


أكمل الناقص بالحرف المناسب:


	جـ
	جـ
... عمل	جـ

	ج
	ج
بر...	جـ

	جـ
	جـ
... ندي	جـ

	جـ
	جـ
ثل...	جـ


	ج
	جـ
... زر	جـ

	جـ
	ج
ش...رة	جـ


اقراء و ألون


ج

جزر



جمل





(ج)

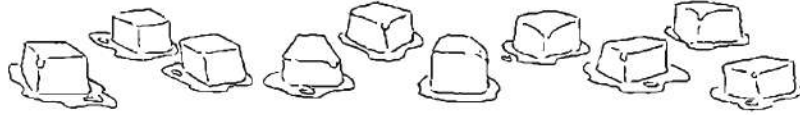
ضع **ح** على حرف **ج** وادخرا مديبالألف والياء وتنوين بالضم

جَبَلٌ بَرَجٌ حِصَانٌ حَرُوفٌ دَجَاجٌ

انطقوا وكتبوا

حَ حِ حٍ حٌ جَ جِ جٍ جٌ

(هـ)




6 3 0 ? = 4 - 10

(و)



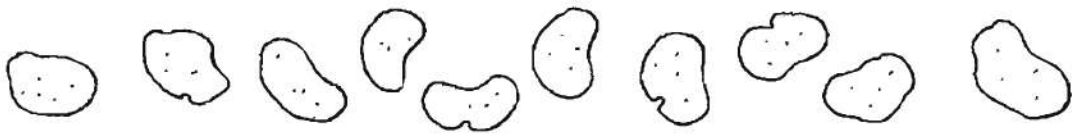
1 4 0 ? = 5 - 6

(ز)



3 4 6 ? = 3 - 7

(ح)



3 2 1 ? = 7 - 10

(ط)



0 8 9 ? = 0 - 8



10

8

3

5

الطَّرْحُ حَتَّى 10

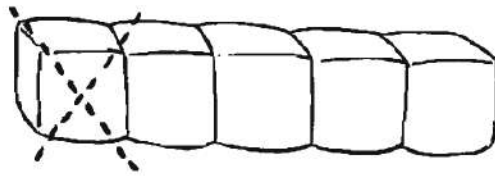


تَدْرِيب 1

6

1


(1) اِخْذِ الْعِدَدَ الْمُنَاسِبَ مِنَ الْأَشْيَاءِ الْآتِيَةِ.
ثُمَّ أَحِطِ الْإِجَابَةَ الصَّحِيحَةَ.



(أ)

5 4 3

..... ؟ = 1 - 5



(ب)

7 8 9

..... ؟ = 1 - 10



(ج)

8 6 2

..... ؟ = 2 - 8



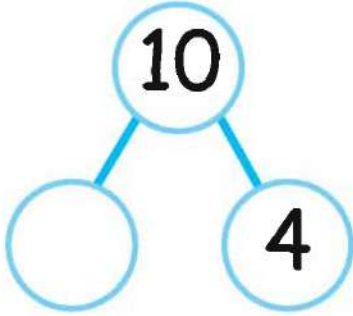
(د)

7 5 2

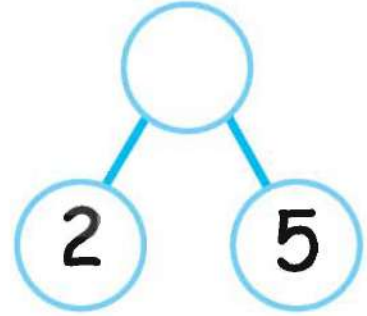
..... ؟ = 3 - 5

(4) املِ الفراغاتِ .

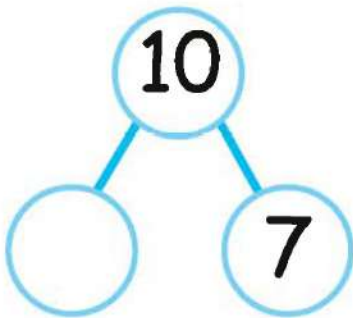
$$4 = \underline{\quad} - 10 \quad (\text{د})$$



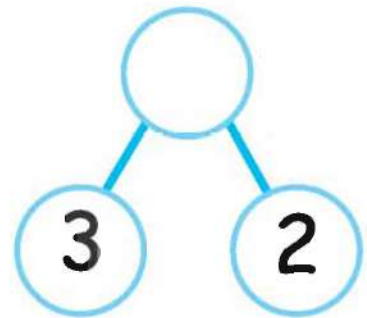
$$5 = 2 - \underline{\quad} \quad (\text{أ})$$



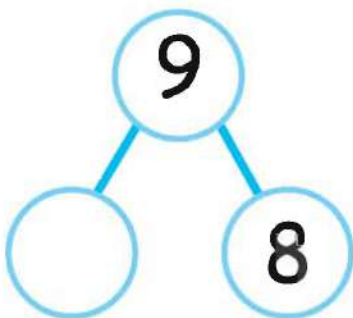
$$7 = \underline{\quad} - 10 \quad (\text{هـ})$$



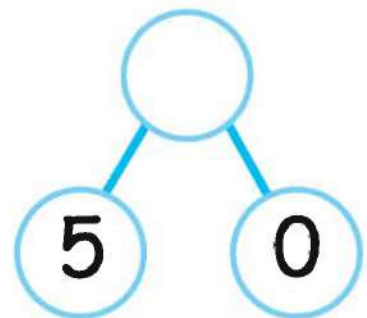
$$2 = 3 - \underline{\quad} \quad (\text{ب})$$



$$8 = \underline{\quad} - 9 \quad (\text{و})$$



$$0 = 5 - \underline{\quad} \quad (\text{جـ})$$



(2) عُدُّ ثُمَّ اكْمِلِ الْفَرَاقَاتِ .

ابْدَأْ مِنْ هُنَا

3 = 2 - 5

5 4 3 2 1

3 2 1

عُدُّ لِلْأَمَامِ

8 7 6 5 4 3 2 1

_____ = 4 - 8 (أ)

9 8 7 6 5 4 3 2 1

_____ = 6 - 9 (ب)

10 9 8 7 6 5 4 3 2 1

_____ = 7 - 10 (ج)

6 5 4 3 2 1

_____ = 3 - 6 (د)

7 6 5 4 3 2 1

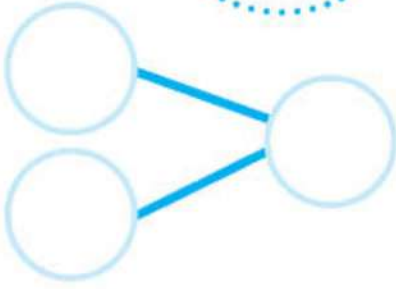
_____ = 2 - 7 (هـ)

8 7 6 5 4 3 2 1

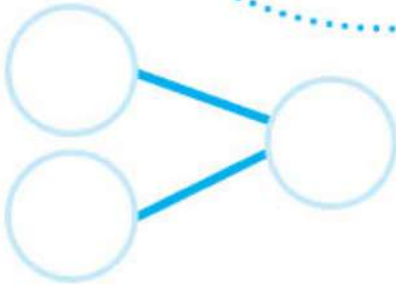

_____ = 3 - 8 (و)

تدريب 2

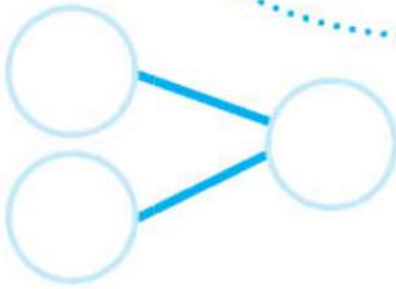
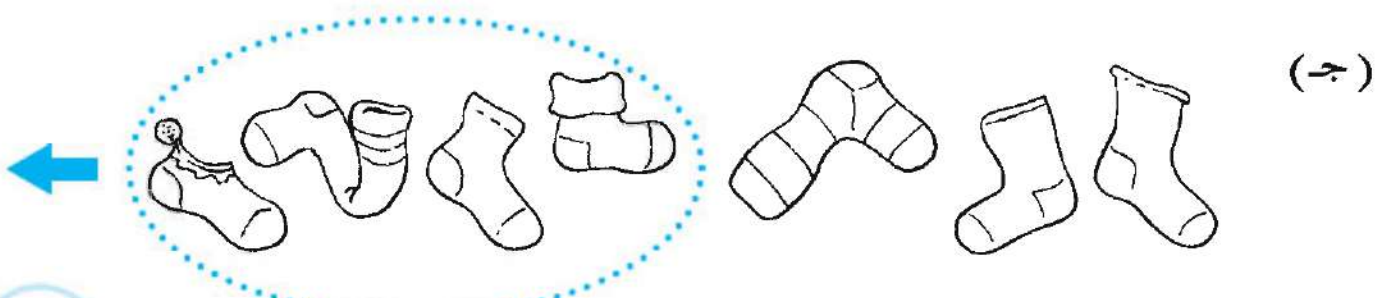
(1) أكمل كل رابطة عدديّة لتوضّح المُكوّنات والمجموع ثمّ أكمل الفراغات.



___ = 1 - 5



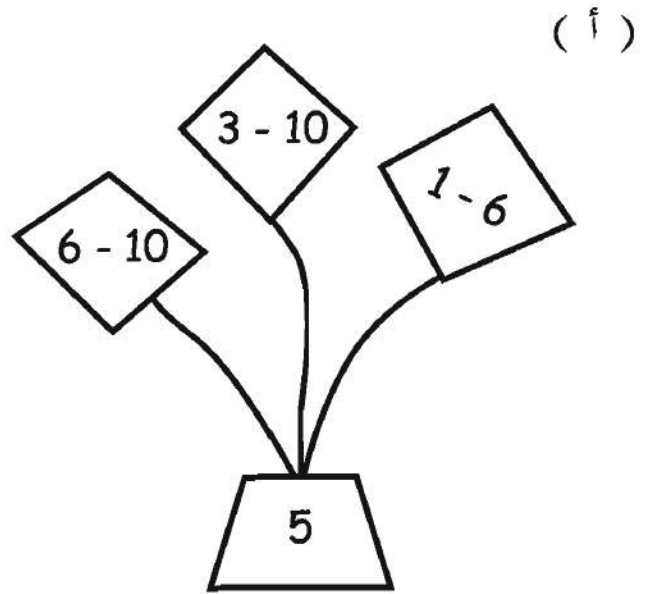
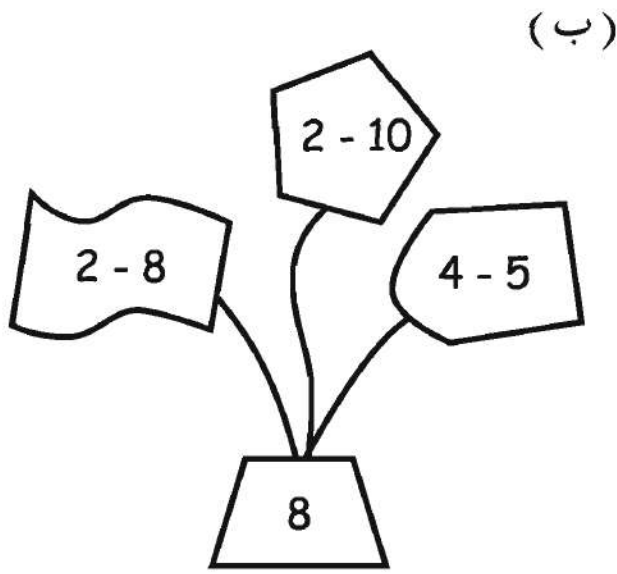
___ = 3 - 6



___ = 4 - 7



(2) لَوِّنِ الطَّائِرَةَ الْوَرَقِيَّةَ ذَاتَ الْإِجَابَةِ الصَّحِيحَةِ.



(3) اطْرَحْ.

0 = 5 - _____ (هـ)

5 = 2 - _____ (أ)

2 = 6 - _____ (و)

1 = 4 - _____ (ب)

7 = _____ - 10 (ز)

4 = _____ - 10 (ج)

2 = _____ - 8 (ح)

3 = _____ - 9 (د)