

المدرسة الليبية في فرنسا - تور

الاسم :

التاريخ: 2024 / 12 / 01

الواجب للصف الثامن الاسبوع السادس

المادة	ما تم تدريسه	الواجب المطلوب	الملاحظات والمرفقات
التربية الإسلامية	- اختيار الاصدقاء	- اجب علي الورقة المرفقة وقم بتصويرها وارسالها علي الايميل	
اللغة العربية	- النصوص : من ارادة الحياة القراءة : من اداب الاستندان	- اجب علي الورقة المرفقة وقم بتصويرها وارسالها علي الايميل	
الرياضيات	- مقياس الرسم ومسائل علي الحائط - كتابة النسب المئوية ككسور عادية واعداد عشرية	- اجب علي الورقة المرفقة وقم بتصويرها وارسالها علي الايميل	
اللغة الانجليزية	- الوحدة الثانية الدرس الثالث	اجب علي الورقة المرفقة وقم بتصويرها وارسالها علي الايميل	
العلوم	- عزم القوة	اجب علي الورقة المرفقة وقم بتصويرها وارسالها علي الايميل	
التاريخ	- اتساع الدولة الاسلامية		
الجغرافية	- السكان في الوطن العربي	- حل الورقة المرفقة وتصويرها وارسالها علي الايميل	

-إرسال الواجبات على الإيميل التالي: ecolelibyenfrance@gmail.com

بالتوفيق

معلم الفصل

أَسْئَلَةٌ تَقْوِيمِيَّةٌ :

1. لِمَاذَا يَحْتَاجُ الْإِنْسَانُ إِلَى الصِّدَاقَةِ ؟
3. يَقُولُ رَسُولُ اللَّهِ ﷺ : (الْمُؤْمِنُ إِفٌّ مَأْلُوفٌ إِنْخِ) .
 - أ. مَا مَعْنَى : إِفٌّ مَأْلُوفٌ ؟
 - ب. لِأَمِّ يَدْعُو هَذَا الْحَدِيثُ الشَّرِيفُ ؟
5. يَقُولُ رَسُولُ اللَّهِ ﷺ : (الْمَرْءُ عَلَى دِينِ خَلِيلِهِ ، فَلْيَنْظُرْ أَحَدُكُمْ مَنْ يُخَالِلُ) .
 - أ. مَا الْمُرَادُ بِالْخَلِيلِ ؟ وَكَيْفَ تَجْمَعُ هَذِهِ الْكَلِمَةَ ؟
 - ب. مَا الَّذِي يَدْعُو إِلَيْهِ الْحَدِيثُ الشَّرِيفُ ؟
6. أَكْمَلْ مَكَانَ النُّقْطِ بِكَلِمَاتٍ مُنَاسِبَةٍ فِيمَا يَلِي :
 - أ. إِنَّمَا مَثَلُ الْجَلِيسِ وَجَلِيسِ
 - كَحَامِلٍ وَنَافِخٍ
 - ب. أَصْحَابُ مَنْ إِذَا سَأَلْتَهُ وَإِنْ سَكَتَ
 - وَإِنْ نَزَلَتْ بِكَ وَأَسَاكَ
 - ج. الْمَرْءُ بِنَفْسِهِ ، كَثِيرٌ
 - د. لَا يَكُونُ الصَّدِيقُ حَتَّى
 - أَخَاهُ فِي فِي : ، ،

المناقشة

س1: مَنْ قَائِلُ هَذِهِ الْأَبْيَاتِ؟ وَالْأَمَّ يَدْعُو؟

س2: قَالَ الشَّاعِرُ:

إِذَا مَا طَمَحْتُ إِلَى غَايَةٍ * لَبِسْتُ الْمُنَى وَخَلَعْتُ الْحَدْرَ

(أ) مَا مَعْنَى: طَمَحْتُ. غَايَةٍ؟ وَمَا مُفْرَدُ مُنَى؟ وَضَعَهَا فِي جُمْلَةٍ مِنْ إِنْشَائِكَ تُبَيِّنُ مَعْنَاهَا.

(ب) فِي الْبَيْتِ كَلِمَتَانِ مُتَضَادَتَانِ. بَيْنَهُمَا، مَوْضِحًا سِرَّ الْجَمَالِ فِيهِمَا .

س3: (الْجِبَالُ - الْحُفْرُ) مَا مُفْرَدُ كُلِّ مِنْهُمَا؟ وَمَاذَا يُقْصَدُ بِهِمَا فِي النَّصِّ؟

س5: مَا الْفَرْقُ بَيْنَ الطُّمُوحِ وَالطَّمَعِ؟ وَآيُهُمَا تَفْضُلُ؟

س7: (أ) هَاتِ مِنَ النَّصِّ فِعْلًا مِنْ الْأَفْعَالِ الْخَمْسَةِ وَبَيِّنْ عِلْمًا إِعْرَابِيَهُ.

(ب) اجْمَعْ كَلِمَةَ (الْأَفُقِ)، وَضَعَهَا فِي جُمْلَةٍ تُبَيِّنُ مَعْنَاهَا.

الْمُنَاقَشَةُ

- س1: اختر الإجابة الصحيحة من بين الأقواس:
 أ- معنى الاستئذان [أذان للصلاة - طلب الأذن بالدخول - الدخول على الناس بلا إذن].
 ب- تستأنسوا [تدخلون بغتة - تتحابون - تستأذنون].
 ج- التسليم عند الاستئذان [مرة واحدة - مرتان - ثلاث مرات].
 س4: زاوج بين المجموعة (أ) بما يناسبها من المجموعة (ب):


(ب)	(أ)
1 يُنَغِّصُ عَلَيْهِ أَمْنَهُ	1 الاستئذان
2 يُحَقِّقُ لِلْبُيُوتِ حُرْمَتَهَا	2 حث الإسلام على الاستئذان قبل دخول البيت
3 يعرض نفسه للمهانة	3 دخول البيت بلا إذن صاحبه
4 وذلك في الفنادق العامة والصالات وبيوت الضيافة	4 الاستئذان على البيوت
5 لا يصح دخولها بلا إذن	5 يجيز الإسلام الدخول بلا استئذان دون حرج
6 لأن فيه إيناس لأهلها وإزالة الوحشة من نفوسهم	6 البيوت عورات
7 أدب رفيع من آداب الإسلام	7 الذي يطلع على أحوال الناس بلا إذن

تمرين 2- ي

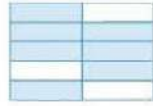
4- لكل من الأشكال الآتية.

(i) ضع الكسر المظلل في صورة نسبة مئوية.

(ii) أوجد النسبة المئوية للجزء غير المظلل.



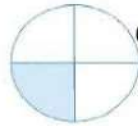
(أ)



(ب)



(د)



(ج)

1- ضع الكسور العادية الآتية في صورة نسب مئوية:

(أ) $\frac{1}{2}$ (ب) $1\frac{1}{4}$ (ج) $1\frac{3}{10}$

2- ضع الأعداد العشرية الآتية في صورة نسب مئوية:

(أ) 0.1 (ب) 0.2

(ج) 0.34 (د) 0.45

3- عبر عن 0.6

(أ) كنسبة مئوية

(ب) ككسر عادي في أبسط صورة.

تمرين 2- ك

1- أوجد النسبة المئوية للكمية الأولى بالنسبة للكمية الثانية.

(أ) 24, 60 (ب) 39, 75

(ج) 21 سم, 30 سم (د) 20 كجم, 80 كجم

(هـ) 15 د, 1 س (و) 300 جم, 1 كجم

2- حصل كرم على النتائج الآتية في امتحاناته. أوجد

النسبة المئوية لدرجاته في كل مادة.

(أ) اللغة الإنجليزية : 90 من 100

(ب) الرياضيات : 64 من 80

3- في أحد سباقات العدو بالمدرسة أكمل 72 من 80 تلميذًا السباق، ما النسبة المئوية للتلاميذ الذين أكملوا السباق؟ ما النسبة المئوية لمن لم يكملوا السباق؟

4- يعمل سامي بأعمال عرضية مؤقتة ويتقاضى 25

دينارًا يوميًا، منها 20 دينارًا لتسليم الأوراق، 5

دينارًا لحصد عشب الحديقة.

(أ) ما النسبة المئوية من إيراده التي مصدرها تسليم الأوراق؟

تمرين 2- ل

1- احسب ما يأتي:

(أ) 10% من 200 (ب) 40% من 500

(ج) 25% من 80 (د) 50% من 144 سم

2- أوجد 30% من 1170

3- مدرسة بها 500 طالب، 45% منهم أولاد:

(أ) ما النسبة المئوية للبنات؟

(ب) كم عدد الأولاد بالمدرسة؟

4- إذا كان 4% من عدد أكياس صنف من الحبوب أقل من الوزن المطلوب، وكان 450 من الأكياس قد اختبرت، فكم كيسًا كانت أقل من الوزن المطلوب؟

5- يسع خزان مياه 5800 لتر. فإذا كان الخزان به 55% من سعته، فكم لترًا من الماء في الخزان؟


Lesson 3: What's the date?

A Look at page 22 of your Course Book and answer these questions.

Writing tip: Using commas

Commas are used when listing things that belong to the same group.

I go to school on Saturday, Sunday, Monday, Tuesday and Wednesday.



- 1 Which month has the shortest name? _____
- 2 Which month has the longest name? _____
- 3 When does it rain in England? _____

- 4 When is it sunny? _____

- 5 When does it rain in Libya? _____

C21
SKILLS

C Read the rhyme on page 22 of your Course Book and complete this table.

Month	Number of days	Month	Number of days
Jan.	_____	Jul.	_____
Feb.	_____	Aug.	_____
Mar.	_____	Sep.	_____
Apr.	_____	Oct.	_____
May	_____	Nov.	_____
Jun.	_____	Dec.	_____

أسئلة للمراجعة



1- ما نتيجة تسليط قوة؟

- (أ) يتمدد الجسم .
- (ب) يحدث تغير في حالة المادة .
- (ج) يحدث تأثير دوار على جسم مفصلي .
- (د) يحدث ارتفاع في درجة حرارة المادة .

2- أي من العبارات التالية خطأ؟

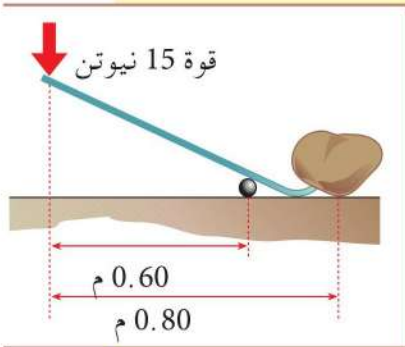
- (أ) يجب أن يكون محور ارتكاز الرافعة عند المركز .
- (ب) يمكن في جهاز رافعة تسليط قوة عند نقطة لأداء شغل عند نقطة أخرى .
- (ج) يلزم جهد أقل في جهاز رافعة من النوع الثاني للتغلب على ثقل ما .
- (د) يجب أن يكون الثقل دائما أصغر من الجهد في جهاز رافعة الدرجة الثالثة .

3- كيف يمكن تحديد عزم القوة؟

- (أ) يحددها ناتج القوة، والمسافة من نقطة تسليط القوة حتى المفصل .
- (ب) يحددها ناتج القوة، وسرعة الجسم .
- (ج) يحددها ناتج القوة، والمسافة المتعامدة من خط عمل القوة حتى المفصل .
- (د) يحددها ناتج القوة، وزيادة السرعة في ثانية واحدة .

4- أي مما يلي لا يستفيد من العزم الدوار للقوة؟

- (أ) ميزان بكفة واحدة للوزن . (ب) أرجوحة في ملعب .
- (ج) ميزان زنبركي للوزن . (د) رافعة عملاقة بموقع بناء .



5- يبين الرسم عتلة تستخدم لرفع جسم ثقيل . والعزم لقوة 15 نيوتن

المسلط لرفع الجسم هو:

- (أ) 12 نيوتن . متر
- (ب) 15 نيوتن . متر
- (ج) 9 نيوتن . متر
- (د) 3 نيوتن . متر

6- في السؤال السابق ما وزن الجسم إذا كانت القوة المسلطة لرفع الجسم لأعلى هي 15 نيوتن؟

- (أ) 11.3 نيوتن
- (ب) 45 نيوتن
- (ج) 30 نيوتن
- (د) 25 نيوتن