

المدرسة الليبية في فرنسا - تور

الاسم :

التاريخ: 2024 / 12 / 08

الواجب للصف الرابع الاسبوع الثامن

الملاحظات والمرفقات	الواجب المطلوب	ما تم تدريسه	المادة
	- الاجابة علي الاوراق المرفقة	آداب الطريق	التربية الإسلامية
	- الاجابة علي الاوراق المرفقة - اعادة كتابة الحروف في كراسة الخط المرفقة	القراءة: درس صحة الفم والاسنان - النحو / تقسيم الاسم الي مفرد ومثني وجمع	اللغة العربية
	- حل الورقة المرفقة وتصويرها وارسالها علي الايميل	- قياس الزاوية حتي 80 - الدورانات والزوايا القائمة	الرياضيات
		- الوحدة الثالثة الدرس الاول والثاني	اللغة الانجليزية
		- الماء مورد ثمين	العلوم
	حل الأوراق المرفقة وتصويرها وارسالها علي الايميل	تاريخ: البحر والخليج والمضيق والممر	الاجتماعيات

-إرسال الواجبات على الإيميل التالي: ecolelibyenfrance@gmail.com

بالتوفيق

معلم الفصل

نشاط تعليمي

1. كيف تتصرف في الأحوال الآتية:

أ. معك أوراق تريد التخلص منها.

ب. رأيت أعمى يريد أن يعبر الطريق.

2. أكمل ما يلي:

نحن لا نلعب الكرة في ؛ لأن ذلك

..... حركة المرور، ويعرض للأذى.

3. ضَعُ عَلامَةً (✓) أَمَامَ السُّلُوكِ السَّلِيمِ وَعَلامَةً (x)

أَمَامَ السُّلُوكِ الخاطِئِ:

أ. أَسَاعِدُ مَنْ يَطْلُبُ مُسَاعَدَتِي فِي الطَّرِيقِ. ()

ب. إِذَا رَأَيْتُ زَمِيلِي وَسَطَ الطَّرِيقِ أَقِفُ لِأَتَحَدَّثَ
مَعَهُ. ()

ج. إِذَا رَأَيْتُ حَجْرًا فِي الطَّرِيقِ أَرْفَعُهُ؛ حَتَّى لَا تَصْطَدِمَ بِهِ
سَيَّارَةٌ مَرَّةً. ()

د. إِذَا رَأَيْتُ الأَطْفَالَ يَلْعَبُونَ الكُرَةَ فِي الطَّرِيقِ أُشْجِعُ
الفَرِيقَ الأَحْسَنَ. ()





علم الإنسان عالمٌ عظيم

التوقيع

الدرجة

التاريخ

27

أُطَبِّقُ

أرُدُّ الأَسْمَاءَ الأَتِيَةَ إِلَى ، مُفْرَدٍ ، ثُمَّ إِلَى مُثْنَى ، وَأَسْتَعْمِلُهَا فِي جُمْلٍ مِنْ عِنْدِي :

مُشْرِفَاتٌ



الأَطْفَالُ

المُشْرِفُونَ

فِي مَلْعَبِ كُرَّةِ السَّلَّةِ

- وَقَفَ لَاعِبُو كُرَّةِ السَّلَّةِ يُحْيُونَ الْجُمْهُورَ ، وَوَقَفَ ثَلَاثَةُ لَاعِبِينَ فِي الْوَسَطِ ، وَعَنْ يَمِينِهِمْ لَاعِبَانِ مُتَجَاوِرَانِ ثُمَّ لَاعِبٌ مُنْفَرِدٌ .
- وَفِي النِّصْفِ الثَّانِي لَاعِبَاتُ كُرَّةِ السَّلَّةِ يُحْيِينَ الْجُمْهُورَ ، وَعَنْ يَسَارِهِنَّ لَاعِبَتَانِ مُتَجَاوِرَتَانِ ، ثُمَّ لَاعِبَةٌ مُنْفَرِدَةٌ .
- وَقَفَ حُكَّامُ الكُرَّةِ يَتَوَسَّطُونَ أَرْضِيَّةَ المَلْعَبِ ، مُعَلِّقِينَ عَلَى صُدُورِهِمْ صَافِرَاتٍ .
- وَقَدْ لَاحِظَ المَتَفَرِّجُونَ وَالمَتَفَرِّجَاتُ التَّرْتِيبَ الجَمِيلَ لِصُفُوفِ اللَّاعِبِينَ .

مِنَ الْفِقْرَةِ السَّابِقَةِ أَحْصِرُ الْأَسْمَاءَ الْمُفْرَدَةَ ، وَالْمُثَنَّى ، وَالْجَمْعَ ، وَأَنْقُلُهَا فِي الْجَدْوَلِ الْآتِي :



الْمُفْرَدُ	الْمُثَنَّى	الْجَمْعُ

أَصْنَفْ كُلَّ كَلِمَةٍ مِنَ الْكَلِمَاتِ الْآتِيَةِ فِي السَّبُورَةِ الْمُنَاسِبَةِ :

تَقْرَأُ

مُقَاتِلُونَ

أَثْوَابٌ

عَنْ

أَسْوَدٌ

أَرْنَبٌ

لَوْحَةٌ

ضَحِكٌ

بُسْتَانَانِ

إِنَّ

مُثَنَّى

جَمْعٌ

مُفْرَدٌ

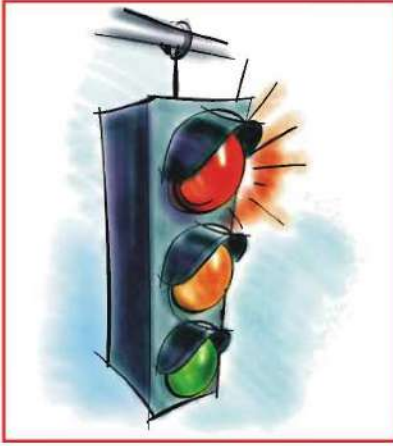
حَرْفٌ

فِعْلٌ

الْوَحْدَةُ الرَّابِعَةُ : الْبَيْئَةُ وَالصَّحَةُ

التدريبات

- 1 كَيْفَ أَنْظِفُ أَسْنَانِي حِينَ لَا أَجِدُ مَعْجُونًا وَلَا فَرْشَاةً؟
- 2 كَيْفَ أَتَجَنَّبُ تَسْوُسَ الْأَسْنَانِ؟
- 3 مَا الْعَادَاتُ الْغِذَائِيَّةُ السَّلِيمَةُ الَّتِي تَحْمِي الْأَسْنَانَ وَاللِّثَّةَ؟
- 4 تَتَطَلَّبُ عَمَلِيَّةُ تَفْرِيشِ الْأَسْنَانِ اتِّبَاعَ خُطَوَاتٍ صَحِيحَةٍ . عَدِّدْهَا .
- 5 اسْتَخْرِجْ كُلَّ تَنْوِينٍ مِنَ النَّصِّ ، وَبَيِّنْ نَوْعَهُ .
- 6 تَتَّبِعِ النَّصَّ وَاسْتَخْرِجْ كُلَّ مُفْرَدٍ وَبَيِّنْ جَمْعَهُ ، وَاذْكُرْ لِكُلِّ جَمْعٍ مُثَنَّاؤَهُ



أَكْمَلْ عَلَى مَنَوَالِ الْمَثَالِ الْآتِي :

اتَّبَاعُ الْعَادَاتِ الْغِذَائِيَّةِ السَّلِيمَةِ يَحْمِي الْأَسْنَانَ وَاللِّثَّةَ .

..... اتَّبَاعُ إِرْشَادَاتِ الطَّبِيبِ

..... اتَّبَاعُ تَعَالِيمِ اللَّهِ

..... اتَّبَاعُ إِشَارَاتِ الْمُرُورِ

اخْتَرْنَا جُمُوعًا مِنَ النَّصِّ : (أَسْطُحٌ - أَسْنَانٌ - رَوَائِحٌ - طُرُقٌ) مَا مَفْرَدُهَا ؟

.....

.....

.....

.....

أذكرُ مثنى الكلمات الآتية ، ثم أبين نوعها من حيث التذكير والتأنيث
مُستعيناً بالصورتين الآتيتين :

مَنْزِلٌ

بَابٌ

مِسْطَرَةٌ

كُرْسِيٌّ

سَفِينَةٌ


دِيكٌ

حِصَانٌ

مثنى مذكر



مثنى مؤنث



.....

.....

.....

.....


.....

.....

.....

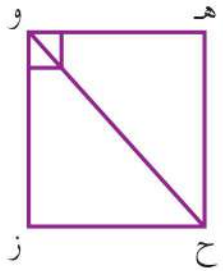
.....

الوحدة الرابعة : البيئة والصحة




ج

كَمْ زاويةً قائمةً تُوجدُ في مُستطيلٍ واحدٍ؟
كَمْ زاويةً قائمةً تُوجدُ في مُربّعٍ واحدٍ؟



هـ



د

المُستقيمُ و ح يُنصفُ هـ و ز

هـ و ح =

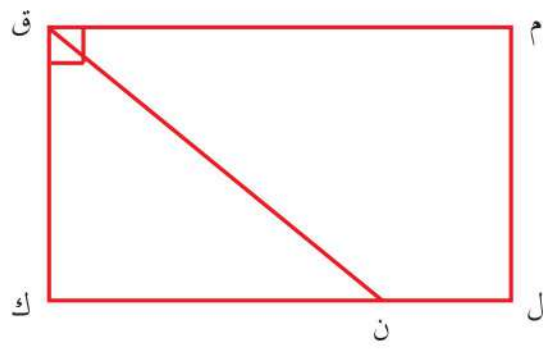
ح و ز =

\triangle أ ب د = 30°

د ب ج =

\triangle م ق ن = 36°

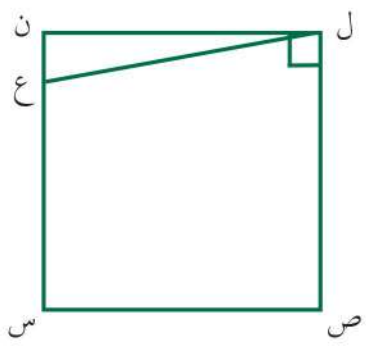
ك ق ن =



و

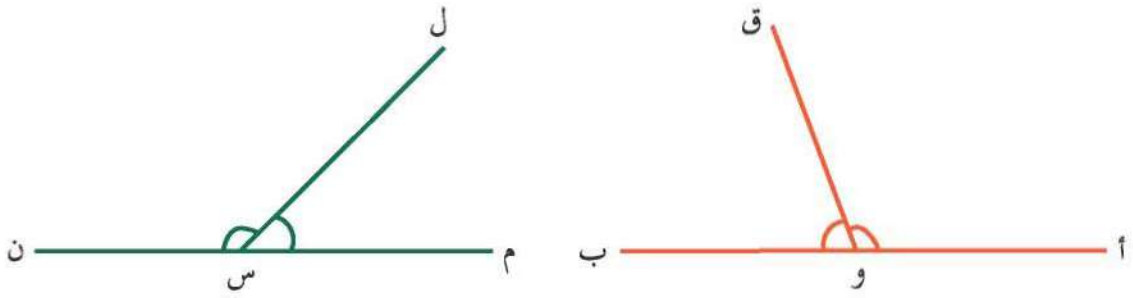
\triangle ن ل ع = 15°

ص ل ع =



ز

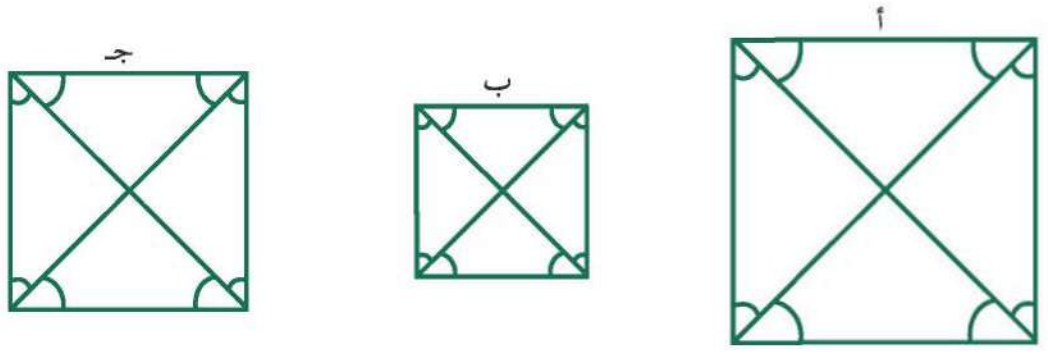
ضِعْ قُبْعَةَ التَّفَكِيرِ!



ج

أ و ب، م س ن مُسْتَقِيمَانِ.
 قِسْ كُلَّ زَاوِيَةٍ وَأَجِبْ عَنِ الْأَسْئَلَةِ الْآتِيَةِ:
 مَا مَجْمُوعُ قِيَاسِ الزَّاوِيَتَيْنِ أ و ق، ق و ب؟
 مَا مَجْمُوعُ قِيَاسِ الزَّاوِيَتَيْنِ م س ل، ل س ن؟
 مَاذَا تُلَاحِظُ عَنِ الزَّاوِيَتَيْنِ عَلَى خَطِّ مُسْتَقِيمٍ؟

د
 ارْسُمْ ثَلَاثَ زَوَايَا عَلَى مُسْتَقِيمٍ وَاحِدٍ.
 قِسْ كُلًّا مِنْ هَذِهِ الزَّوَايَا.
 أَوْجِدْ مَجْمُوعَ قِيَاسَاتِ هَذِهِ الزَّوَايَا.
 مَاذَا تُلَاحِظُ عَنِ مَجْمُوعِ قِيَاسَاتِ ثَلَاثِ زَوَايَا عَلَى مُسْتَقِيمٍ وَاحِدٍ؟



هـ

الْأَشْكَالُ أ، ب، ج مَرَبَّعَاتٌ. قِسْ كُلَّ زَاوِيَةٍ مِنَ الزَّوَايَا الْمَحْدَدَةِ فِي كُلِّ مَرَبَّعٍ بِمَنْقَلَةٍ.
 مَاذَا تُلَاحِظُ عَنِ كُلِّ زَاوِيَةٍ؟

أَسْئَلَةٌ تَطْبِيقِيَّةٌ

أَكْمِلْ مَا يَأْتِي:

1. الْبَحْرُ هُوَ كَبِيرٌ مِنْ مَغْمُورٌ
2. الْبَحْرُ سَهْلٌ بَيْنَ ، ،
3. الْبَحْرُ الْمُتَوَسِّطُ لِيَبْيَا مِنْ وَتُوجَدُ بِهِ مِنْ أَمَاكِنَ
4. يُسْتَخْرَجُ مِنْ ثَرَوَاتٌ وَ هَامَةٌ .
5. الْجَزِيرَةُ هِيَ مِنْ يُحِيطُ بِهَا

أَكْمِلْ مَا يَأْتِي:

1. الْخَلِيجُ هُوَ مِنْ تُحِيطُ بِهِ مِنْ جِهَاتٍ
2. فِي الشَّمَالِ اللَّيْبِيِّ يُوجَدُ خَلِيجٌ الَّذِي عَلَيْهِ مِنْ وَ اللَّيْبِيَّةُ
3. الشَّاطِئِي هُوَ مِنْ يَمْتَدُّ لِمِيَاهِ عَلَى السَّاحِلِ اللَّيْبِيِّ مِنْ الرَّمْلِيَّةِ
4. الْمَضِيقُ هُوَ ضَيْقَةٌ مِنْ يَفْصِلُ بَيْنَ مَسَاحَتَيْنِ كَبِيرَتَيْنِ مِنْ