

المدرسة الليبية في فرنسا - تور

الاسم :

التاريخ: 2024 / 12 / 15

الواجب للصف الرابع الاسبوع التاسع

الملاحظات والمرفقات	الواجب المطلوب	ما تم تدريسه	المادة
	- الاجابة علي الاوراق المرفقة	درس الله عادل لا يظلم الناس ابدا	التربية الإسلامية
	- الاجابة علي الاوراق المرفقة - اعادة كتابة الحروف في كراسة الخط المرفقة	القراءة: بشائر الخير - الاملاء / التتوين	اللغة العربية
	- حل الورقة المرفقة وتصويرها وارسالها علي الايمل	- المستقيمات المتعامدة والمتوازية	الرياضيات
	- حل الورقة المرفقة وتصويرها وارسالها علي الايمل	- الوحدة الثالثة الدرس الثالث والرابع	اللغة الانجليزية
		- الاجهزة	العلوم
	حل الأوراق المرفقة وتصويرها وارسالها علي الايمل	جغرافيا: القرية ، الزراعة	الاجتماعيات

-إرسال الواجبات على الإيمل التالي: ecolelibyenfrance@gmail.com

بالتوفيق

معلم الفصل

نشاط تعليمي

1. مَنْ الْعَادِلُ الَّذِي لَا يَظْلِمُ أَحَدًا؟
2. مَنْ الَّذِي سَيَأْخُذُ اللَّهُ لَهُ حَقَّهُ كَامِلًا فِي الْآخِرَةِ؟





التدريبات

1 لماذا يحب الفلاح المطر؟

1

2 علام يدل تكاثف السحب؟

2

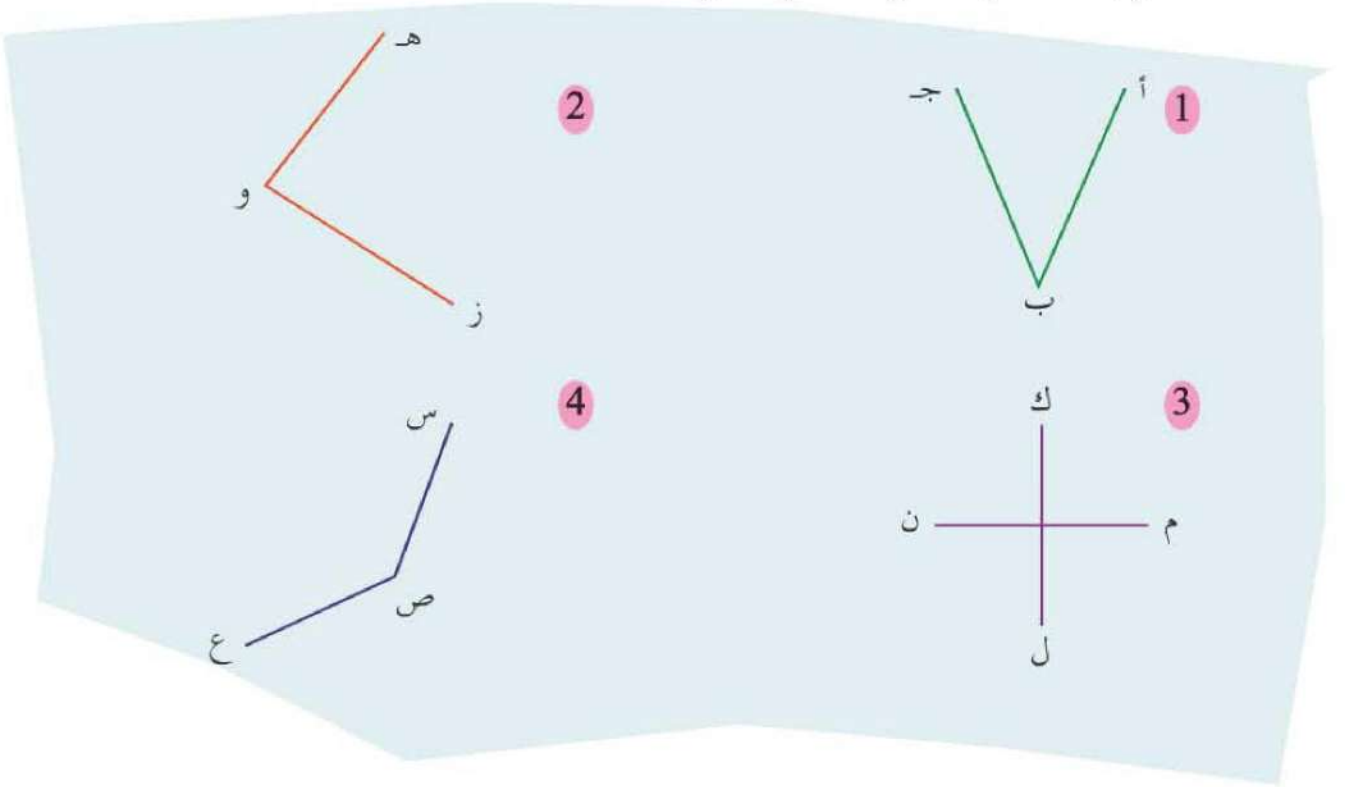
3 ما أهم فوائده الشتاء؟

3

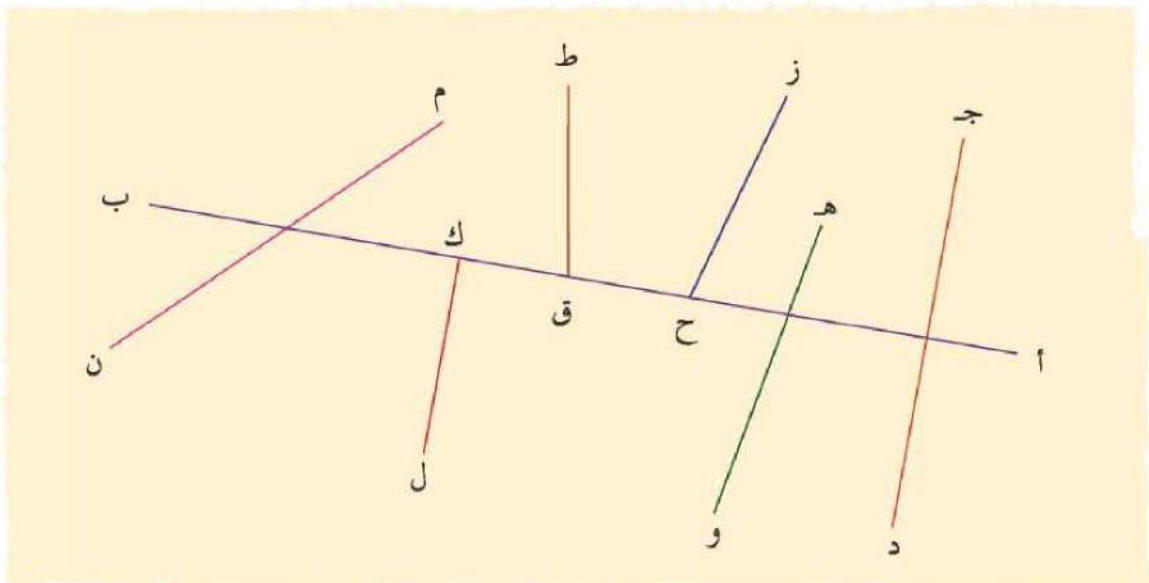
4 نعم الله كثيرة، اذكر بعضاً منها.

4

ز هل كلُّ مُسْتَقِيمَيْن مُتَعَامِدَانِ؟
اسْتَخْذِمِ مِثْلًا قَائِمًا أَوْ مِسْطَرَّةً لِلتَّأَكُّدِ.

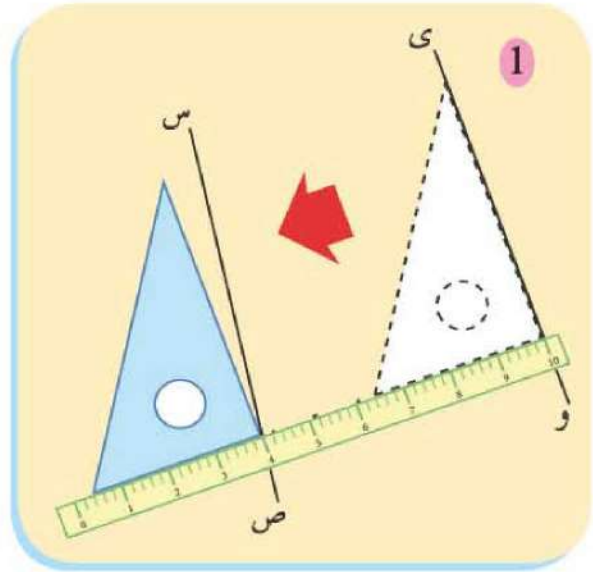
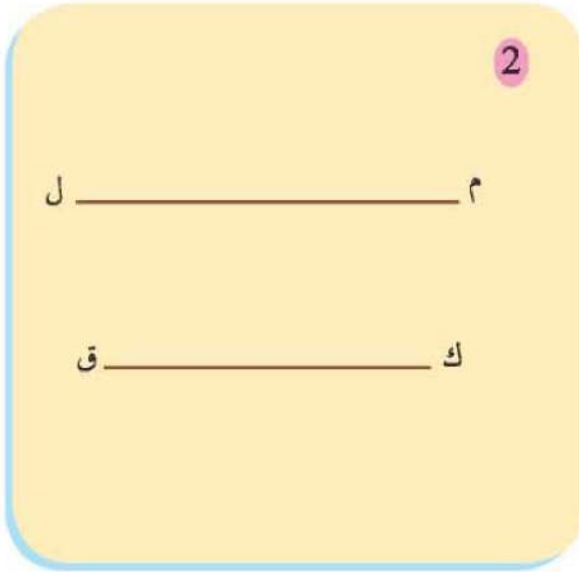


ح بَعْضُ الْمُسْتَقِيمَاتِ الَّتِي تُقَابِلُ أ ب عَمُودِيَّةٌ عَلَيْهِ.
اذْكُرْ هَذِهِ الْمُسْتَقِيمَاتِ.

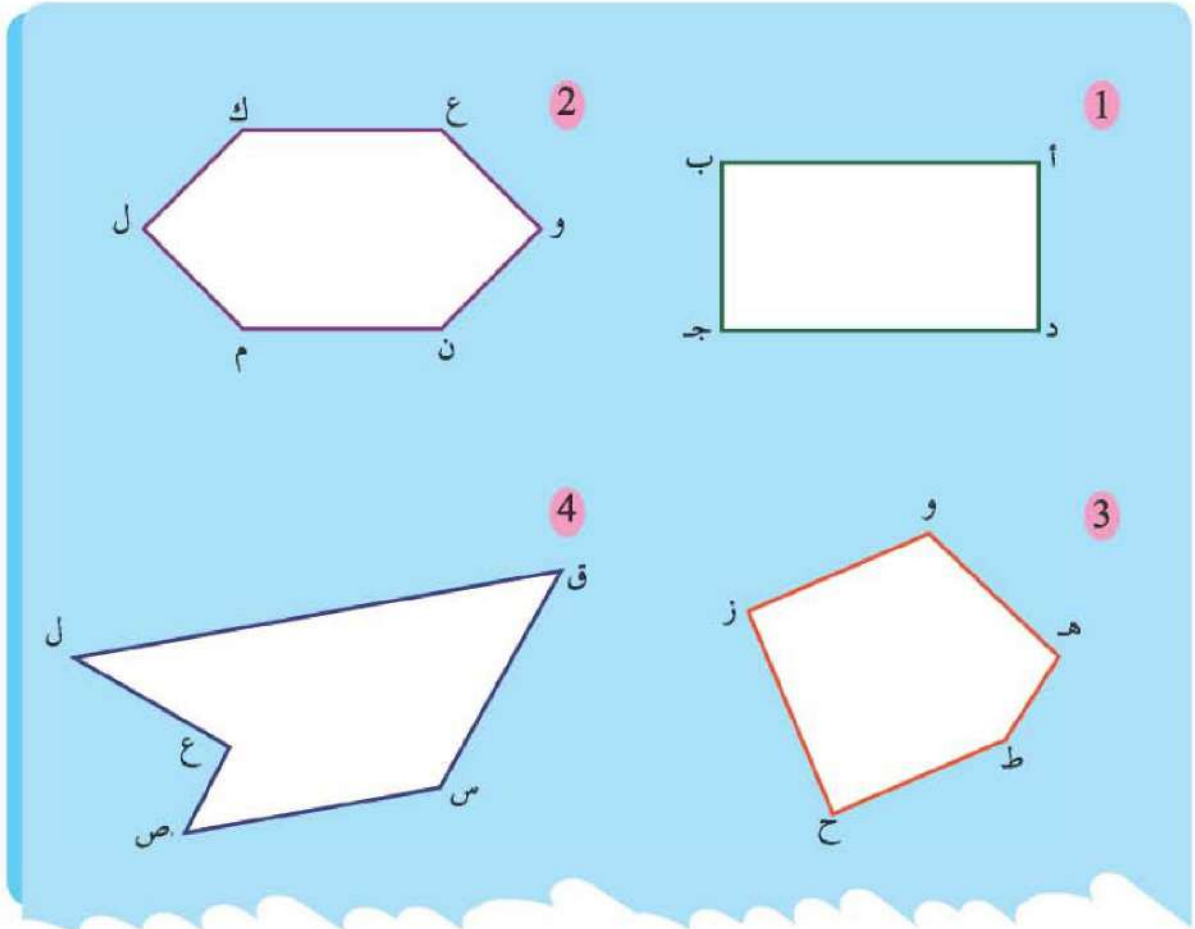


المُسْتَقِيمَاتُ الْعَمُودِيَّةُ عَلَى أ ب هِيَ

ز هل هذان المستقيمان متوازيان؟



ح ما اسم أزواج أو مجموعات المستقيمت المتوازية في كل شكل؟





3 Read, match and write.



1 hat
2 cakes
1 balloon

1 hat
3 cakes
2 balloons

2 hats
2 cakes
3 balloons

2 hats
1 cake
2 balloons



4 Read and match.



5 Write.



6 nine

1 _____

7 eight

2 _____

8 seven

3 _____

9 ten


4 _____

10 six

5 _____

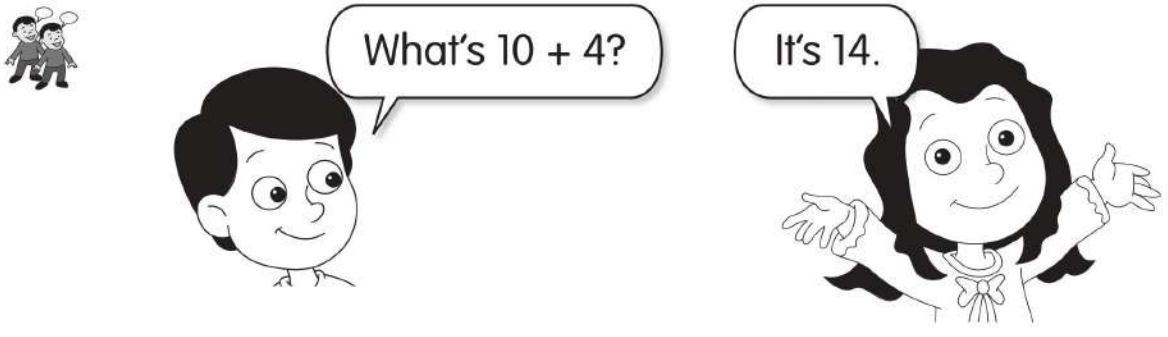
Aa
Bb
Cc
Dd
Ee
Ff
Gg
Hh
Ii
Jj
Kk
Ll
Mm
Nn
Oo
Pp
Qq
Rr
Ss
Tt
Uu
Vv
Ww
Xx
Yy
Zz

 **1 Colour the numbers 1-15.**



10	6	7	8	1	6
9	5	12	9	2	15
3	4	15	10	3	14
6	3	7	11	12	13
1	2	14	8	5	9

 **2 Ask and answer.**



What's $10 + 4$?

It's 14.

3 Now you try.

$1 + 9 = \underline{\quad}$

$6 + 8 = \underline{\quad}$

$11 + 5 = \underline{\quad}$

$10 + 7 = \underline{\quad}$

$7 + 6 = \underline{\quad}$

$9 + 9 = \underline{\quad}$

أَسْئَلَةٌ تَطْبِيقِيَّةٌ

أَكْمِلْ مَا يَأْتِي:

1. يَعْمَلُ سُكَّانُ الْقَرْيَةِ بِـ الْأَرْضِ وَ الْحَيَوَانَاتِ .
2. مَنَازِلُ سُكَّانِ الْقَرْيَةِ وَ أَمَّا شَوَارِعُهَا تَكُونُ وَأَحْيَانًا
3. يُوجَدُ بِالْقَرْيَةِ وَ وَ وَبَعْضُ الْمَرَافِقِ
4. الزَّرَاعَةُ الَّتِي الْإِنْسَانُ مُنْذُ
5. يَشْتَغَلُ بِالزَّرَاعَةِ مَجْمُوعَةٌ مِّنَ وَالزَّرَاعَةُ لَنَا الْمَوَادَّ الَّتِي نَحْتَاجُهَا .
6. تَشْتَمَلُ الْمَحَاصِيلُ كَلًّا مِّنَ الْحُبُوبِ وَ وَ

أَسْئَلَةٌ تَطْبِيقِيَّةٌ

أَكْمِلْ مَا يَأْتِي:

1. الْأَدَوَاتُ الْقَدِيمَةُ لِلزَّرَاعَةِ مِثْلُ وَ وَ
2. أَدَوَاتُ الزَّرَاعَةِ مِثْلُ وَ
3. طُرُقُ الرِّيِّ الْحَدِيثَةِ مِثْلُ وَ وَتُسْتَخْدَمُ الطَّائِرَاتُ فِي وَمُقَاوِمَةٌ
4. سَاهَمَتِ الْحَدِيثَةُ فِي الْجُهْدِ وَ

أَكْمِلْ مَا يَأْتِي:

1. فِي بِلَادِنَا الْفَلَاحُونَ وَ
و
2. تُطْحَنُ الْحُبُوبُ لِتُنْتِجَ الَّذِي لِتَحْضِيرِ
و
3. يَتِمُّ فَصْلُ الْحُبُوبِ عَنِ بِالطَّرِيقَةِ أَوْ بِوَاسِطَةِ
.....