

المدرسة الليبية في فرنسا - تور

الاسم :

التاريخ: 2024 / 12 / 15

الواجب للصف السابع الاسبوع الثامن

المادة	ما تم تدريسه	الواجب المطلوب	الملاحظات والمرفقات
التربية الإسلامية	سورة المطففين الجزء الثالث	- حفظ السورة - حل ورقة الاسئلة وتصويرها وارسالها علي الايميل	
اللغة العربية	- النصوص الادبية / مناجاة عصفور	- حل ورقة الاسئلة وتصويرها وارسالها علي الايميل	
الرياضيات	- جمع وطرح الكسور	- اجابة التدريبات وتصويرها وارسالها علي الايميل	
اللغة الانجليزية	- الوحدة الخامسة الدرس الاول والرابع والسابع	- اجابة التدريبات وتصويرها وارسالها علي الايميل	
العلوم	- المركبات والمخاليط	- اجابة التدريبات وتصويرها وارسالها علي الايميل	
التاريخ	- الليبيون القدماء ومظاهر حضارتها		
الجغرافية	- الثروة المعدنية	- اجابة التدريبات وتصويرها وارسالها علي الايميل	

-إرسال الواجبات على الإيميل التالي: ecolelibyenfrance@gmail.com

بالتوفيق

معلم الفصل

أسئلة تقوية :

1. من الأبرار؟ وما مكائنتهم عند الله؟
 2. صف بعض ما أعدّه اللهُ للأبرار، وهل يظهر عليهم أثر النعيم؟ اذكر من الآيات ما يؤيد قولك.
 3. ذكر الله حال الكفار وأخلاقهم مع المؤمنين في الدنيا. بين ذلك، ذكر الآيات المتعلقة بهذا المعنى، ثم بين جزاءهم في الآخرة.
-

س1 : : قَالَ الشَّاعِرُ :

عَرَّدَ فَنِي تِلْكَ السُّهُولِ زَنَابِقُ تَرْنُو إِلَيْكَ بِنَاطِرٍ مَنظُورِ

أ- مَا مُفْرَدُ (زَنَابِقُ) ؟ وَمَا مَعْنَاهَا ؟

ب- مَا السُّهُولُ ؟ وَبِمَ تَمْتَّازُ ؟ وَمَا مُفْرَدُهَا ؟

س3 : الشَّاعِرُ يُحِبُّ العَصَافِيرَ .

أ- مِنْ أَيْنَ تَفْهَمُ هَذَا المَعْنَى ؟ وَمَا الشُّعُورُ المُشْتَرِكُ بَيْنَهُ وَبَيْنَ العَصَافِيرِ ؟

ب- الشَّاعِرُ أَبُو القَاسِمِ الشَّابِيُّ شَاعِرٌ (لِيبِيٍّ - مَغْرِبِيٍّ - تُونِسِيٍّ) .

س4 : مَا الأَثَرُ الَّذِي تَتْرُكُهُ أَنَاشِيدُ العَصَافِيرِ فِي التُّفُوسِ ؟

س6 : اَمْلَأِ الفَرَاقَاتِ فِيمَا يَلِي :

أ- الدَّوْحُ : جَمْعٌ، مُفْرَدُهُ وَهِيَ

ب- الشَّاعِرُ أَبُو القَاسِمِ الشَّابِيُّ وُلِدَ فِي مَدِينَةِ سَنَةَ

ج- دُمُوعُ الفَجْرِ هِيَ وَعَرُوسُ الثُّورِ هِيَ

د- يَتَمَتَّى الشَّاعِرُ أَنْ يَكُونَ مِثْلَ لِأَنَّهُ يَتَمَتَّعُ

هـ- (اشْرَبَ) فِعْلٌ فِي زَمَنِ

1- أوجد ناتج كل مما يأتي:

$$(أ) \frac{3}{5} + \frac{1}{5} \quad (ب) \frac{1}{4} + \frac{1}{2}$$

$$(ج) \frac{1}{8} + \frac{1}{6} \quad (د) \frac{7}{9} + \frac{5}{6}$$

2- أوجد ناتج ما يلي:

$$(أ) \frac{3}{8} - \frac{5}{8} \quad (ب) \frac{2}{3} - \frac{5}{6}$$

$$(ج) \frac{12}{25} - \frac{7}{10} \quad (د) \frac{4}{5} - \frac{11}{12}$$

3- أوجد قيمة كل مما يأتي في أبسط صورة:

$$(أ) \frac{1}{6} + \frac{1}{3} + \frac{1}{2}$$

$$(ب) \frac{1}{8} - \frac{1}{4} - \frac{1}{2}$$

$$(ج) \frac{5}{6} + 2\frac{3}{4} + 1\frac{2}{3}$$

$$(د) 3\frac{1}{2} + 6\frac{4}{5} - 9\frac{7}{8}$$

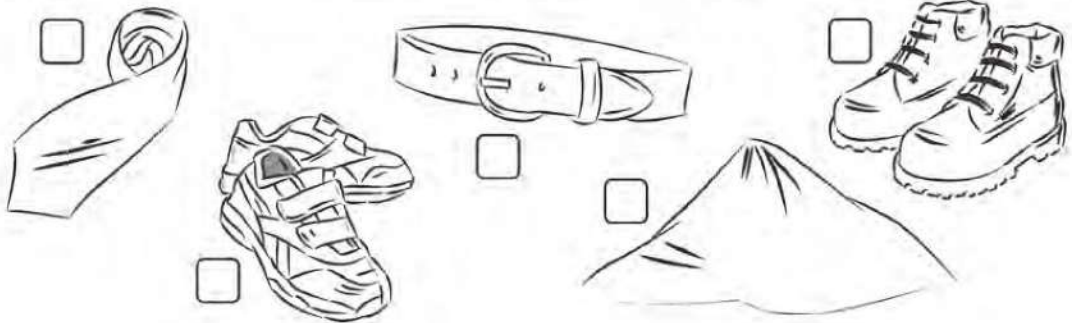
Unit 5

Clothes and shopping

5.1

A Write the missing vowels. Then match the words to the pictures.

1. t _ _ 2. tr _ n _ rs 3. b _ lt 4. b _ _ ts 5. sc _ rf

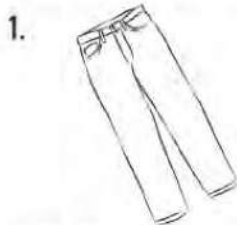


B Colour the pictures. Use black, white, green, red, blue and yellow.
Talk about the clothes like this:

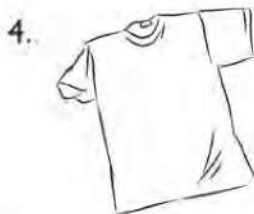
The tie is black and white.

The trainers are ...

C Now write the words.



red trousers



a _____



a _____




a _____


A Complete the tables. Look at the spelling patterns.


eat	eating	drive	driving	swim	swimming
read		ride		shop	
drink		have		sit	
play		write			
wear					
talk					

B Write sentences.

Where were they yesterday?

1.  Yesterday, Aisha was _____.

2.  _____, the boys _____.

3.  _____, Mum _____.

5.7

A Add three more words to each group.

buy big jumper supermarket belt new like
café go clothes shop boots expensive

1. T-shirt _____

2. small _____

3. shoe shop _____

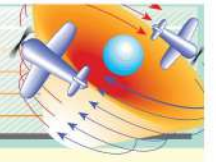
4. wear _____

B Answer the questions.

1. Where were you at nine o'clock yesterday morning?

2. Where were you at half past three yesterday afternoon?

أسئلة للمراجعة



- 1- أي من المواد التالية ليست عنصراً؟
 (أ) اليود (ب) الفولاذ (ج) القصدير (د) الصوديوم
- 2- أي من المواد التالية مركباً؟
 (أ) البرونز (ب) الفولاذ (ج) الماء (د) الذهب
- 3- أي من المواد التالية تتكون عند إمرار الكهرباء خلال ماء حمضي؟
 (أ) الهيدروجين فقط (ب) الأكسجين فقط
 (ج) الهيدروجين والأكسجين فقط (د) البخار، والهيدروجين، والأكسجين
- 4- ماذا يحدث عند تكون المخلوط؟
 (أ) ينتج حرارة وضوء (ب) يكون له خواص تختلف عن خواص مكوناته
 (ج) المكونات موجودة بكميات متنوعة (د) يحدث تغيير كيميائي
- 5- صنّف الآتي إلى عناصر ومركبات ومخاليط .
 البرونز الكحول صلصة فول الصويا النحاس الأصفر .
 الفضة اليود ثنائي أكسيد الكربون
 الزئبق السكر
 الأكسجين الملح
 الهواء الحساء النيتروجين
 اللين كبريتات النحاس النفط
- 6- اذكر أسماء العناصر الموجودة في :
 (أ) أكسيد الكالسيوم (ب) ثاني أكسيد الكبريت (ج) نترات البوتاسيوم .
- 10- أكمل المعادلات الكلاسيكية التالية :
 (أ) $\text{Mg} + \text{O}_2 \rightarrow \text{MgO}$
 (ب) $\text{C} + \text{O}_2 \xrightarrow{\text{التسخين}} \text{CO}_2$
 (ج) $\text{H}_2 + \text{O}_2 \rightarrow \text{H}_2\text{O}$
 (د) $\text{H}_2 + \text{O}_2 \rightarrow \text{H}_2\text{O}_2$
 (هـ) $\text{Na} + \text{H}_2\text{O} \rightarrow \text{NaOH} + \text{H}_2$
- 11- عَصِير قَصَب هَوَاء دَخَان نَحَاس ذَهَب كَبْرَيْت
 وَرَق لَبْن كَرِيم تَرْطِيب الْجِلْد مَآغْنِيسِيوم خَارِصِين
 صَلْب كَرْبُون نَحَاس أَصْفَر كَرْبُونَات كَالْسِيوم
 ثَانِي أَكْسِيد الكَرْبُون بَرُونز

اختر من القائمة السابقة :

(أ) مخلوطين يتواجدان كغازات عند درجة حرارة الغرفة .

(ب) مخلوطين سائليين

(ج) ثلاثة مخاليط صلبة



أسئلة الوحدة الثالثة

س1 : أكمل الفراغات الآتية :

- أ- الأراضي غير الصالحة للزراعة هي المناطق الواسعة الانتشار في
 الليبية وتشغل أكثر من من مساحة ليبيا .
- ب- يتفوق محصول الشعير على محصول القمح في ليبيا لأن زراعته تتطلب
 قليلة وتجود زراعته في الفقيرة نسبيًا .
- ج- حرفة الرعي من الحرف في الليبي وهي الحرفة
 الثانية بعد حرفة
- د- أول اكتشاف النفط الليبي كان عام حيث اكتشف حقل
 جنوب خليج
- هـ- توجد خامات الحديد في منطقة،،
 و- تتميز الشواطئ الليبية بمخزونها وحرفة الصيد البحري في ليبيا.
- ز- الإسفنج حيوان يشبه يعيش في قاع البحر بالصخور.

س2 : ضع علامة (✓) أو علامة (X) أمام العبارات التالية :

- أ- الزراعة البعلية المتنقلة هي السائدة في مناطق الاستبس حيث كميات الأمطار التي لا تكفي لقيام
 زراعة مستقرة . ()
- ب- يتطلب القمح تربة متماسكة وأمطار بكميات قليلة . ()
- ج- يوجد حقل السرير النفطي في القسم الجنوبي الغربي من ليبيا . ()
- د- تعتبر صناعة عصر الزيتون من أقدم الصناعات الليبية . ()
- هـ - ظهرت العديد من المراكز التجارية والمدن على طول الساحل البحري الليبي منذ الحضارات
 القديمة . ()
- و- قلت أهمية الموانئ الليبية بعد اكتشاف النفط ()
- ز- قطاع التجارة الخارجية في ليبيا ليس له أهمية حيث يمارسه عدد قليل من السكان . ()
- ح- تعتبر ليبيا حلقة وصل بين أوروبا وبلاد الشام وإفريقيا الوسطى والجنوبية . ()

الجغرافية الاقتصادية

س3 : اختر الإجابة الصحيحة من بين الأقواس :

- أ- يزرع القمح في الواحات بالاعتماد على الري من مياه (الأمطار - المياه الجوفية).
- ب- ترتبط حرفة الرعي ارتباطاً وثيقاً بتوزيع (كمية الأمطار - درجة الحرارة) .
- ج- اكتشاف حقل البوري النفطي في مياه البحر عام (1967 - 1976) .
- د- أهمية الموقع الجغرافي البحري لليبيا وإنتاجها الضخم من النفط تطلب إنشاء العديد من (الموانئ البحرية - الموانئ الجوية) .
- هـ- توجد خامات الحديد في منطقة (وادي الشاطئ - وادي الكوف) .
- و- الاسفنج (حيوان يشبه النبات - نبات يشبه الحيوان) وهو (قليل - كثير) الأنواع .
- ز- حرفة الصيد البحري في ليبيا (حديثة - قديمة) .
- ح- تعتبر مناطق المياه الساحلية الليبية (فقيرة - غنية) بأنواع (قليلة - كثيرة) من الأسماك .