

## المدرسة الليبية في فرنسا - تور

الاسم : .....

التاريخ: 2024 / 12 / 15

الواجب للصف الثامن الاسبوع الثامن

المادة	ما تم تدريسه	الواجب المطلوب	الملاحظات والمرفقات
التربية الإسلامية	- صفة البصر	اجب علي الورقة المرفقة وقم بتصويرها وارسالها علي الايميل	
اللغة العربية	- النصوص : وداعا ايها الوطن القراءة : ملابسنا	- اجب علي الورقة المرفقة وقم بتصويرها وارسالها علي الايميل	
الرياضيات	- المستقيمات المتوازية والزوايا	- اجب علي الورقة المرفقة وقم بتصويرها وارسالها علي الايميل	
اللغة الانجليزية	- الوحدة الثالثة الدرس الاول	اجب علي الورقة المرفقة وقم بتصويرها وارسالها علي الايميل	
العلوم	- شغل تبدله طاقة	اجب علي الورقة المرفقة وقم بتصويرها وارسالها علي الايميل	
التاريخ	- الدولة الاموية		
الجغرافية	- الانتاج الحيواني		

-إرسال الواجبات على الإيميل التالي: [ecolelibyenfrance@gmail.com](mailto:ecolelibyenfrance@gmail.com)

بالتوفيق

معلم الفصل

## أَسْئَلَةٌ تَقْوِيمِيَّةٌ :

1. مَنْ صِفَاتِ الْكَمَالِ الْوَاجِبَةِ لِلَّهِ تَعَالَى صِفَةُ الْبَصْرِ . فَمَا الْمُرَادُ بِهَا ؟
2. يَقُولُ تَعَالَى :

﴿ إِنَّ اللَّهَ بِمَا تَعْمَلُونَ بَصِيرٌ ﴾ ( 109 . البقرة )

3. عَلَامٌ تَسْتَدِلُّ بِهَذِهِ الْآيَةِ الْكَرِيمَةِ ؟  
مَاذَا يَتَرْتَبُ عَلَى إِيمَانِكَ بِأَنَّ اللَّهَ تَعَالَى بَصِيرٌ ؟

## المناقشة

س1: كَيْفَ قَابَلَ النَّبِيُّ ﷺ صَاحِبَ الثِّيَابِ الْقَدِيرَةِ الْمُرَقَّعَةِ؟

س2: مَا الْخَطَرُ فِي اخْتِلَاطِ مَلَابِسِ الرِّجَالِ وَالنِّسَاءِ؟

س3: «لَعَنَ اللَّهُ الْمُتَشَبِّهِينَ مِنَ الرِّجَالِ بِالنِّسَاءِ، وَالْمُتَشَبِّهَاتِ مِنَ النِّسَاءِ

بِالرِّجَالِ» لِمَاذَا كَانَتْ هَذِهِ اللَّعْنَةُ؟ وَمَا صِلَةُ هَذَا الْمَعْنَى بِالْمَوْضُوعِ؟

س4: قَالَ - تَعَالَى - : ﴿يَبْنَىءُ آدَمَ خُذُوا زِينَتَكُمْ عِنْدَ كُلِّ مَسْجِدٍ﴾ بِمَ يَأْمُرُنَا

اللَّهُ تَعَالَى؟ لِمَاذَا؟

س5: قَالَ النَّبِيُّ ﷺ: «رُبَّ أَشْعَثَ أَغْبَرَ ذِي طِمْرَيْنِ لَوْ أَقْسَمَ عَلَى اللَّهِ

لَأَبْرَهُ».

أ- عَلَامَ تَسْتَدِلُّ بِهَذَا الْحَدِيثِ الشَّرِيفِ؟

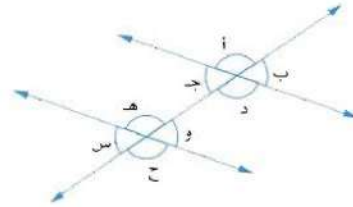
ب- اشرح: ذِي طِمْرَيْنِ - لأبره.

## المناقشة

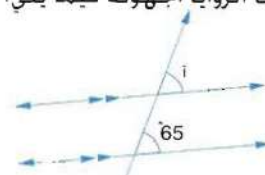
- س1: مَا مَعْنَى الْمُفْرَدَاتِ التَّالِيَةِ: كَدًّا - إِدًّا - حَذَاءً - زُمَّتْ رِكَابِي؟
- س2: كَيْفَ تَبْدُو لَكَ صُورَةَ الشَّاعِرِ وَهُوَ يَهُمُّ بِمُغَادَرَةِ وَطْنِهِ؟ وَلِمَذَا؟
- س3: هَلْ تَفْهَمُ مِنَ النَّصِّ مَا يُشِيرُ إِلَى أَنَّهُ يَرْتَكِبُ بِرَحِيلِهِ إِثْمًا بِحَقِّ وَطْنِهِ؟ وَضَّحْ ذَلِكَ؟
- س4: تَنَازَعَ الشَّاعِرُ قَبْلَ أَنْ يَعْزِمَ عَلَى مُغَادَرَةِ وَطْنِهِ عَامِلَانِ، مَا هُمَا؟

تمرين 3-أ

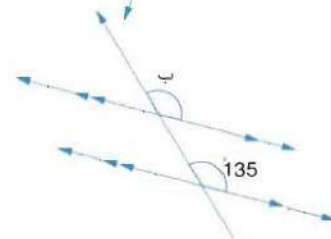
1- اكتب أزواج الزوايا المتناظرة فيما يلي:



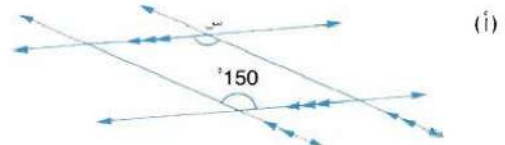
2- أوجد قياسات الزوايا المجهولة فيما يلي:  
(أ)



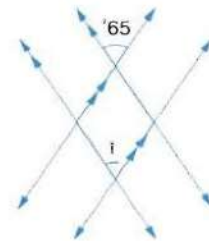
(ب)



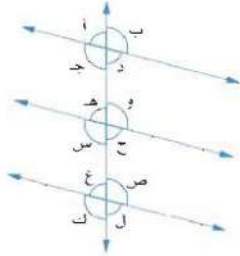
5- أوجد الزوايا المجهولة والمعنونة في الأشكال التالية:



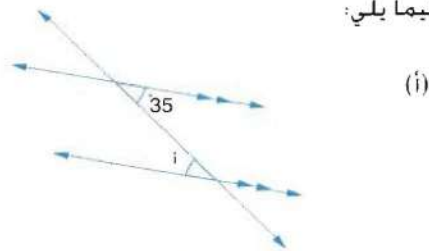
(ب)



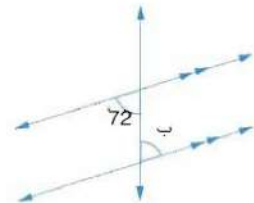
3- اكتب أزواج الزوايا المتبادلة فيما يلي:



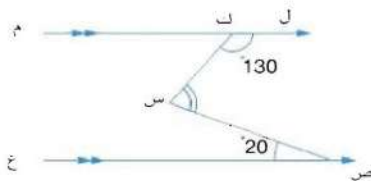
4- أوجد قياسات الزوايا المجهولة والمعنونة فيما يلي:



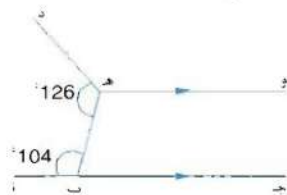
(ب)



8- في الشكل م ل//ع ص، ق (ت ع ص س) = 20°  
ق (س ك ل) = 130° احسب ق (ك س ص).



9- في الشكل المستقيمان أ ب ح، ه و متوازيان،  
ق (أ ب ه) = 104°، ق (أ ب ه د) = 126° احسب:  
(أ) ق (أ ه ب ح)  
(ب) ق (أ د ه و)





## Lesson 1: I've Finished My Work

**A** Write sentences. Use the verbs in the box. What have these people done?

climb    paint    finish    wash



He has \_\_\_\_\_



\_\_\_\_\_



\_\_\_\_\_



\_\_\_\_\_

**B** Answer the questions.

1 Have you watched TV today? \_\_\_\_\_

2 How many times have you washed your hands today? \_\_\_\_\_

3 How many people have you talked to today? \_\_\_\_\_

C Complete this table.

	Infinitive	Past tense	Past participle
<b>Regular verbs</b>	1 cook	cooked	cooked
	2 clean	_____	_____
	3 paint	_____	_____
	4 talk	_____	_____
	5 mix	_____	_____
<b>Irregular verbs</b>	6 see	_____	_____
	7 hear	_____	_____
	8 give	_____	_____
	9 do	_____	_____
	10 forget	_____	_____
	11 go	_____	_____
	12 eat	_____	_____
	13 drink	_____	_____
	14 buy	_____	_____

## أسئلة للمراجعة



1- أي من تطبيقات القوة التالية لا تؤدي إلى تغيير في الطاقة؟

- ( أ ) دفع كتلة البداية للانطلاق في سباق 100م عدو .
- ( ب ) جذب حبل مربوط في جدار مبنى .
- ( ج ) دفع عربة تسوق في متجر .
- ( د ) رفع مواد البناء بواسطة رافعة عملاقة .

2- أي من انتقال الطاقة التالي الناتج عن شغل تبذله القوة المسلطة صحيح؟

- ( أ ) يتسبب الشغل المبذول في دحرجة كرة بولينج بطول الحارة في زيادة طاقتها الكامنة .
- ( ب ) سيزيد الشغل المبذول بقوة مكابح ( فرامل ) مسلطة على عجل الدراجة الطاقة الحركية للدراجة .
- ( ج ) سيكسب الشغل الذي تبذله القوة المطاطية في إطلاق نبلة مشدودة الجسم المقذوف طاقة حركية .
- ( د ) سيتسبب الشغل الذي تبذله اليد لاستئطالة شريط مطاطي في تولد حرارة .

3- متوسط القوة المطلوبة لجذب السير المطاطي لنبلة إلى الخلف مسافة 10سم هو 0.82 نيوتن .

ما الشغل الذي تبذله قوة الجذب التي تسلطها اليد؟

- ( أ ) 8.2 جول
- ( ب ) 0.82 جول
- ( ج ) 0.082 جول
- ( د ) 82 جول

4- في تمرين لرفع الجسد إلى أعلى بواسطة عقلة، يرفع رجل يزن 560 نيوتن نفسه لأعلى بمقدار

0.50 متر . ما كمية الشغل التي تبذلها القوة العضلية التي تسلطها ذراعاها؟

- ( أ ) 280 جول
- ( ب ) 560 جول
- ( ج ) 350 جول
- ( د ) 700 جول

5- ارتفاع بناية من خمسة طوابق هو 15 متراً . ما كمية الشغل التي تبذلها قوة محرك المصعد

لسحب 8 أشخاص يزن كل منهم 56 نيوتن إلى أعلى البناية؟

- ( أ ) 640 جول
- ( ب ) 840 جول
- ( ج ) 1200 جول
- ( د ) 6720 جول