

المدرسة الليبية في فرنسا - تور

الاسم :

التاريخ: 2024 / 12 / 15

واجبات للصف الاول ثانوي الاسبوع الثامن

| المادة | ما تم تدريسه | الواجب المطلوب | الملاحظات والمرفقات |
|-------------------|--|--|---------------------|
| التربية الإسلامية | السيدة عائشة بنت ابي بكر الصديق | - الاجابة علي الاسئلة المرفقة وتصويرها وارسالها علي الايميل | |
| اللغة العربية | - الاعراب والبناء - القصيدة الغنائية في العصر العباسي | - الاجابة علي الاسئلة المرفقة وتصويرها وارسالها علي الايميل | |
| الرياضيات | - نظرية فيثاغورس - نسبة الظل التماس ظا | - اجابة التدريبات وتصويرها وارسالها علي الايميل | |
| اللغة الانجليزية | - الوحدة الثالثة الدرس الثاني | - اجابة التدريبات وتصويرها وارسالها علي الايميل | |
| الكيمياء | - الكتلة الجزئية النسبية التكوين النسبي المئوية | - اجابة التدريبات وتصويرها وارسالها علي الايميل | |
| الفيزياء | - الوزن والكتلة قياس الكثافة | - اجابة التدريبات وتصويرها وارسالها علي الايميل | |
| الاحياء | - التغذية في الثدييات | | |
| التاريخ | - مظاهر الحضارة القديمة في بلاد الشام | - اجابة التدريبات وتصويرها وارسالها علي الايميل | |
| الجغرافية | - السكان في العالم | - اجابة التدريبات وتصويرها وارسالها علي الايميل | |
| حاسوب | - انشاء قواعد البيانات وانشاء الجداول | | |
| علم الاجتماع | تصنيف العلاقات الاجتماعية وانواعها | - اجابة التدريبات وتصويرها وارسالها علي الايميل | |

-إرسال الواجبات على الإيميل التالي: ecolelibyenfrance@gmail.com

بالتوفيق

معلمة الفصل



1. كان رسول الله - ﷺ - مثالا للزوج المحب والأب الرحيم. من دراستك لسيرة السيدة عائشة برهن على هذا القول.
2. تميزت السيدة عائشة عن بقية أزواج النبي ﷺ بميزات عدة. تحدث عن إحداها.

الأسئلة

1. لم يعهد من المتنبي أنه كان مغرمًا بالطبيعة ، فكيف جاء وصفه لها في هذا القصيد؟
2. صف المكان الذي زاره المتنبي كما تصورته من خلال أبياته .
3. علق على معنى البيتين التاليين :

طَبْتُ فُرْسَانَنَا وَالْخَيْلُ حَتَّى خَشِيتُ وَإِنْ كَرُمَنْ مِنَ الْحِرَانِ
يَقُولُ بِشَعْبِ بَوَّانِ حِصَانِي أَعَنْ هَذَا يُسَارُ إِلَى الطِعَانِ

Lesson 2: Choosing a Holiday

A  **25** Listen to the conversation and mark the sentences true (T) or false (F).

- 1 Tariq and his family want to go somewhere they have never been to before.
- 2 Tariq's father has already seen the Pyramids.
- 3 Uncle Bashir has never been to Greece.
- 4 Uncle Bashir took pictures of some ruins.
- 5 Tariq's mother doesn't want to go to England.
- 6 The family have lots of brochures about England.

B Write questions with *ever*.

Example: be / to Europe Have you ever been to Europe?

- 1 be / to Derna _____
- 2 take / an aeroplane _____
- 3 go / camping _____
- 4 see / an ox _____
- 5 eat / Chinese food _____
- 6 swim / in the Red Sea _____

Unit 3

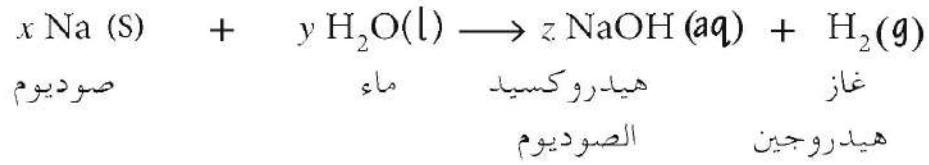
E Bill is preparing for a trip to Greece. Write the correct letters in the box to match the beginnings and endings of the sentences.

- | | | |
|--------------------------|----------------------|------------------------|
| 1 He has already decided | <input type="text"/> | a his suitcase. |
| 2 He has already spoken | <input type="text"/> | b his passport yet. |
| 3 He hasn't called | <input type="text"/> | c the hotel yet. |
| 4 He has already bought | <input type="text"/> | d where to go. |
| 5 He hasn't packed | <input type="text"/> | e to the travel agent. |
| 6 He hasn't found | <input type="text"/> | f some sun-cream. |



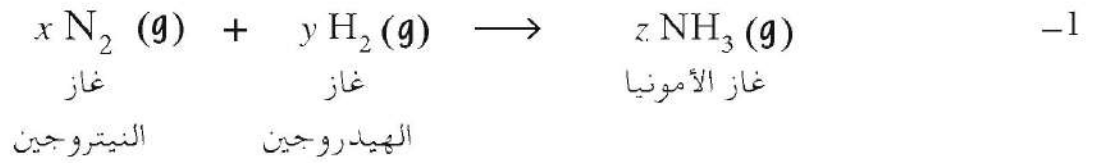
استنتج مجموعات الأعداد التي توازن المعادلات الكيميائية التالية:
مثال:

| | x | y | z |
|---|---|---|---|
| × | 1 | 2 | 1 |
| × | 2 | 1 | 2 |
| ✓ | 2 | 2 | 2 |

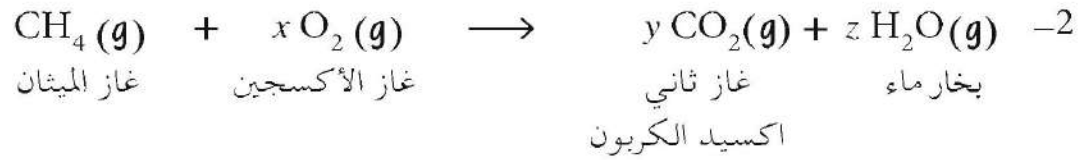


استنتج مجموعات الأعداد الصحيحة بوضع علامة (✓) في الخلية الصحيحة:

| | x | y | z |
|--|---|---|---|
| | 1 | 3 | 2 |
| | 1 | 3 | 3 |
| | 2 | 2 | 2 |



| | x | y | z |
|--|---|---|---|
| | 2 | 1 | 1 |
| | 2 | 1 | 2 |
| | 2 | 2 | 2 |



تدريب 4 - 5

2- ما الصيغة التجريبية للملاثيون؟

3- استخدم صيغتك الجزيئية لحساب الكتلة الجزيئية النسبية لجزيء ملاثيون.

$$(A_r(C) = 12, A_r(H) = 1, A_r(S) = 32, A_r(O) = 16, A_r(P) = 31)$$

4- ما التكوين النسبي للفوسفور في جزيء الملاثيون؟

الجزء الأول أسئلة الاختيار من متعدد

- 1- عند استخدام المخبار المدرج، فإن أحد الاحتياطات الواجب اتخاذها هي:
- (أ) التأكد من عدم وجود خطأ صفري .
- (ب) النظر إلى السطح المقعر للسائل من أسفل مستوى سطح الماء .
- (ج) الحصول على قراءات أكثر بالنظر من أكثر من اتجاه واحد .
- (د) وضع العين على خط مستقيم مع قاع السطح المقعر للسائل .
- 2- كتلة مخبار مدرج فارغ هي 60 g، وعند سكب 30 cm^3 من زيت الزيتون في المخبار، تصبح الكتلة الكلية 87.6 g. ولذلك فإن كثافة زيت الزيتون بوحدة g cm^{-3} هي
- (أ) 0.34
- (ب) 0.92
- (ج) 1.09
- (د) 2.00
- 3- صخرة على سطح القمر ذات كتلة 0.5 k g أحضرت إلى الأرض حيث مجال الجاذبية أقوى. ولذلك سيكون للصخرة على الأرض:
- (أ) كتلة أقل، ووزن أقل .
- (ب) كتلة أقل، ونفس الوزن .
- (ج) نفس الكتلة، ونفس الوزن .
- (د) نفس الكتلة، ووزن أكبر .

المناقشة

س1 : يدين الفينيقيون في حضارتهم وازدهارها إلى الطبيعة الجغرافية ببلاد الشام .
اشرح ذلك .

س2 : اكتب ما تعرفه عن :

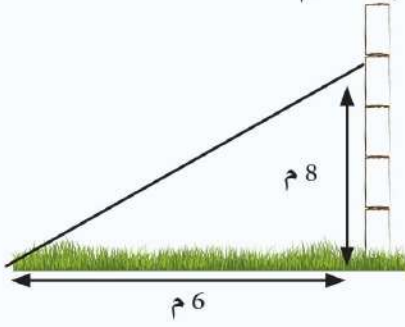
أ - إمارة دمشق الآرامية .
ب - الصناعة ببلاد الشام .

س3 : تأثر تاريخ وحضارة بلاد الشام بعدة عوامل، اذكرها .

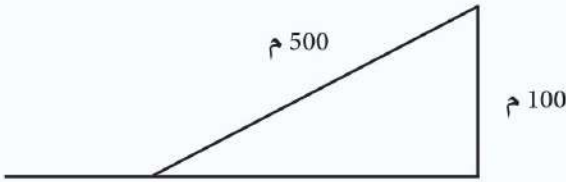
س4 : تحدث عن النشاط البحري والتوسع الفينيقي في حوض البحر المتوسط .

تمرين 3 ب

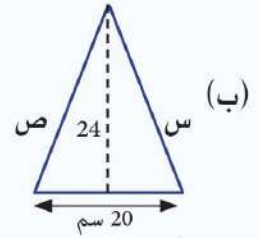
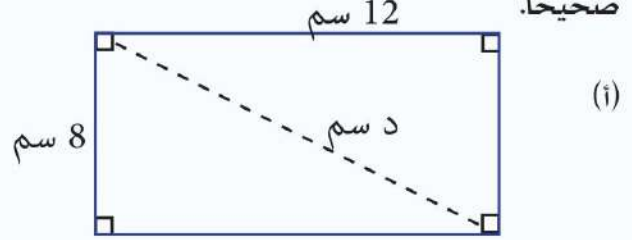
3- يرتكز سلم على حائط رأسي ، فإذا كانت قمة السلم ترتفع عن الأرض 8 م وتبعد قاعدته عن قاعدة الحائط 6 م. أوجد طول السلم.



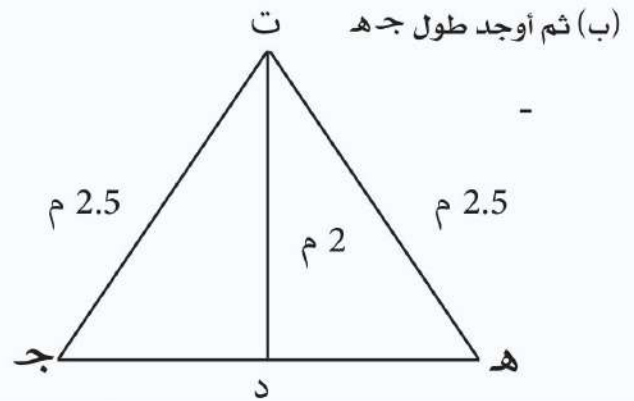
4- سار رجل مسافة 500 متر معتلياً جانباً في تل . فإذا كانت المسافة العمودية للتل 100 متر ، أوجد المسافة الأفقية التي سارها الرجل.



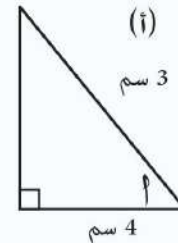
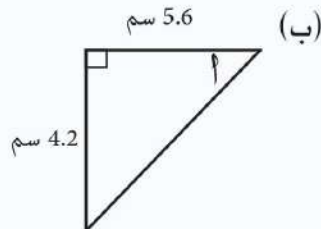
1- أوجد الطول المجهول والمشار إليه في الأشكال الآتية. قرب الناتج لأقرب ثلاثة أرقام معنوية إن لم يكن الرقم صحيحاً.



6- ثبت ساري خيمة ت د ، عمودياً بواسطة حبلين ت ج ، ت ه إلى الأرض فإذا كان طول كل من الحبلين 2.5 متر وكان طول الساري 2 متر.



3- بالنسبة للمثلثات الآتية أوجد ظا أ مقرباً إجابتك لأقرب ثلاثة أرقام معنوية إن لم يكن الناتج صحيحاً.



4- استخدم آلتك الحاسبة لإيجاد قيمة كل مما يأتي مقرباً إجابتك لأقرب ثلاثة أرقام معنوية إن لم يكن الناتج صحيحاً.

(ج) ظا 35°

(ب) ظا 23°

(i) ظا 40°

5- استخدم آلتك الحاسبة لإيجاد قياس الزاوية (أ) في كل مما يأتي مقرباً إجابتك لأقرب رقم عشري واحد ما لم تكن الإجابة صحيحة.

(ج) ظا أ = 0.0012

(ب) ظا أ = 4.2

(i) ظا أ = 12

س3 - أكمل مايلي :

أ . يشهد العالم تطوراً ملحوظاً في عدد سكانه ويرجع ذلك إلى..... في نسبة..... والإنخفاض في نسبة..... بسبب تحسن المستوى ...

ب. إن العوامل البشرية التي تتحكم في توزيع..... تتمثل في.....
 و..... ولكن العوامل الطبيعية تتمثل في المناخ و.....
 و..... وأكبر تجمعاتهم حول.....
 ومناطق غزارة..... والمواد الطبيعية تتمثل في..... والغابات.

ج . يتمثل العمران البشري في..... و..... و..... و.....

هـ . أنماط السكن الريفي ثلاث..... و..... و.....

س4- أذكر المصطلح الجغرافي :

أ . يهتم بتوزيع السكان في العالم والأسباب التي تؤدي الى الزيادة السكانية والعوامل المؤثرة في توزيع السكان .

ب. انتقال الانسان من مكان الى مكان آخر داخل المدينة الواحدة أو من القرية الى المدينة.

ج . يتمثل في الريف والقرية والمدينة والحضر

د. تجمع عمراني يضم اكبر عدد واكثر كثافة

هـ. ينحصر في المغارات والكهوف والخيام المتنقلة حسب الظروف البيئية والطبيعية

والبشرية

و. هو نطاق يجاور المدينة تتحصل منه المدينة على المنتجات الزراعية والحيوانية .

أسئلة

- س1 اشرح مفهوم العلاقات الاجتماعية.
- س2 قارن بين العلاقات المؤقتة والعلاقات طويلة الأجل، موضحاً بأمثلة.