

## المدرسة الليبية في فرنسا - تور

الاسم : .....

التاريخ: 2024 / 12 / 22

الواجب للصف الرابع الاسبوع العاشر

الملاحظات والمرفقات	الواجب المطلوب	ما تم تدريسه	المادة
	- الاجابة علي الاوراق المرفقة	حديث تشميت العاطس	التربية الإسلامية
	- الاجابة علي الاوراق المرفقة - اعادة كتابة الحروف في كراسة الخط المرفقة	- النحو / انواع الفعل	اللغة العربية
	- حل الورقة المرفقة وتصويرها وارسالها علي الايميل	- الكسور الاعتيادية I	الرياضيات
	- حل الورقة المرفقة وتصويرها وارسالها علي الايميل	- الوحدة الثالثة الدرس الخامس والسادس	اللغة الانجليزية
		- الطاقة	العلوم
	حل الأوراق المرفقة وتصويرها وارسالها علي الايميل	جغرافيا: الفواكه والخضروات	الاجتماعيات

-إرسال الواجبات على الإيميل التالي: [ecolelibyenfrance@gmail.com](mailto:ecolelibyenfrance@gmail.com)

بالتوفيق

معلم الفصل

## نشاط تعليمي

1. ماذا يجب عليك نحو الآخرين؟
2. ما الواجب عليك نحو من يقدم إليك خدمة أو  
دُعَاء؟
3. ما معنى: «يَهْدِيكُمْ اللهُ وَيُصْلِحُ بِالْكُفْمُ»؟

أَتأملُ المِثالَ الأوَّلَ مِنَ الجَدولِ الآتِي وأُحاكِيهِ :

(ب)	(أ)
مَأْكَلٌ	أَكَلَ
مَشْرَبٌ	.....
.....	لَيْسَ
مَصْرَفٌ	.....



مَلْعَبٌ



لَعِبَ

أَقْرَأُ النِّصَّ الآتِي :

خَرَجَ مُحَمَّدٌ مِنْ بَيْتِهِ مُبَكِّرًا ، ثُمَّ فَتَحَ مَتَجَرَّهُ ، وَرَتَّبَ بِضَاعَتَهُ الَّتِي اشْتَرَاهَا مِنَ السُّوقِ  
يَعْرِضُ أَنْوَاعًا مُخْتَلِفَةً مِنَ الْخَضِرَاوَاتِ ، ثُمَّ يَنَادِي هَيَّا : أَقْبِلْ ، تَقَدَّمْ ، وَاخْتَرْ ،  
وَتَذَوِّقْ ، عِنْدِي بِضَاعَةٌ مُمْتَازَةٌ .  
هُوَ تاجِرٌ أَمِينٌ يُقَدِّمُ خِدْمَةً لِأَبْنَاءِ وَطَنِهِ .

أُكْمِلُ الجَدولَ الآتِي مُسْتَعِينًا بِالنِّصِّ السَّابِقِ :

فِعْلُ الأَمْرِ	الفِعْلُ المُضَارِعُ	الفِعْلُ المَاضِي
.....	.....	.....
.....	.....	.....
.....	.....	.....
.....	.....	.....
.....	.....	.....
.....	.....	.....

الوَحْدَةُ الخَامِسَةُ ، هِيَ أَحْضَانِ الطَّبِيعَةِ

أَضَعُ فِعْلُ الْأَمْرِ الْمُنَاسِبِ فِي كُلِّ فَرَاغٍ :



دَرَسَ الْقِرَاءَةَ .

إِلَى نَصَائِحِ وَالِدَيْكَ .

عَنْ وَطَنِكَ .

أَصَحُّ الْأَخْطَاءِ اللُّغْوِيَّةِ الْآتِيَةِ :

(يُذَاكِرُ) فِعْلُ أَمْرٍ مِنَ الْفِعْلِ ذَاكَرَ .

(أَسْبَحُ) فِعْلٌ مَاضٍ .

(يَنْظُرُ) فِعْلُ الْأَمْرِ مِنْهُ نَظَرَ .

أَعْقِدُ مَقَارَنَةً بَيْنَ فَصْلِي الشِّتَاءِ وَالصَّيْفِ :

الْفَصْلُ	النَّهَارُ	اللَّيْلُ	الطَّقْسُ
الشِّتَاءُ			
الصَّيْفُ			



الْوَحْدَةُ الْخَامِسَةُ ، فِي أَحْضَانِ الطَّبِيعَةِ







أعمل ضمن فريق ثنائي.  
سوف يُعطى المتعلم كل ثنائي بعض الشرائط الورقية.  
اطور الشرائط لمساعدتك في إيجاد الكسور المكافئة للآتي:



1  $\square = \frac{2}{4} = \frac{1}{2}$

2  $\square = \square = \frac{2}{3}$

3  $\square - \square = \frac{3}{4}$

4  $\square - \square = \frac{2}{5}$

أعمل ضمن فريق ثنائي بجمع الكسور المنقسيبة الآتية.

1  $\square - \square + \frac{2}{4} = \frac{1}{4} + \frac{1}{2}$

2  $\square = \square + \square = \frac{1}{9} + \frac{1}{3}$

3  $\square = \square + \square = \frac{3}{10} + \frac{2}{5}$

4  $\square = \square + \square = \frac{5}{12} + \frac{1}{4}$



## هَيَّا نَعْمَلْ مَعًا!

أَعْمَلْ ضِمْنَ فَرِيقِ ثُنَائِيٍّ .

سَوْفَ يُعْطِي الْمَعْلَمُ كُلَّ ثُنَائِيٍّ بَعْضَ الشَّرَائِطِ الْوَرَقِيَّةِ .

أَطْوِ الشَّرَائِطِ الْوَرَقِيَّةَ لِمُسَاعَدَتِكَ فِي إِيجَادِ كَسْرٍ مُكَافِيٍّ أَوْ كُسُورٍ مُكَافِئَةٍ

لِمَا يَلِي :

$$\square = \frac{2}{6} = \frac{1}{3} \quad 1$$

$$\square = \frac{4}{5} \quad 2$$

$$\square = \square = \frac{3}{4} \quad 3$$

$$\square = \frac{5}{6} \quad 4$$

ب أَعْمَلْ ضِمْنَ فَرِيقِ ثُنَائِيٍّ لِطَرَحِ الْكُسُورِ الْمُنْتَسِبَةِ الْآتِيَّةِ :

$$\square = \square - \frac{2}{4} = \frac{1}{4} - \frac{1}{2} \quad 1$$

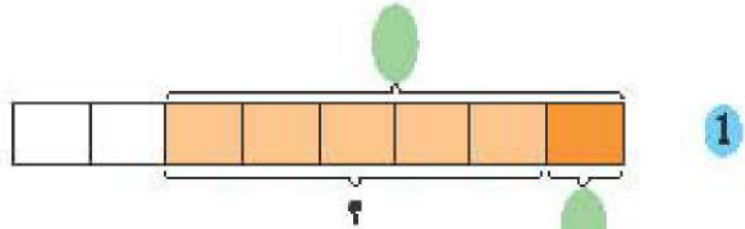
$$\square = \square - \square = \frac{5}{9} - \frac{2}{3} \quad 2$$

$$\square = \square - \square = \frac{5}{12} - \frac{5}{6} \quad 3$$

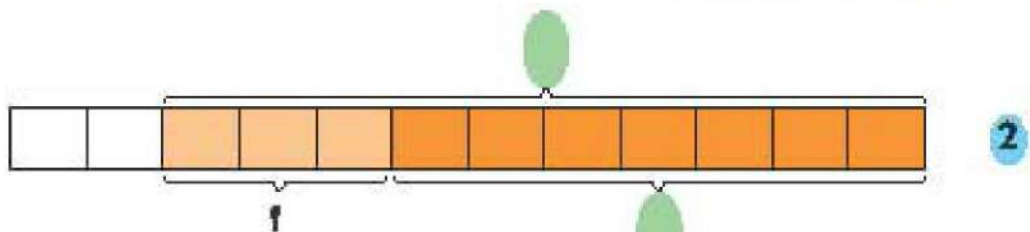
$$\square = \square - \square - \square = \frac{1}{12} - \frac{5}{12} - \frac{3}{4} \quad 4$$



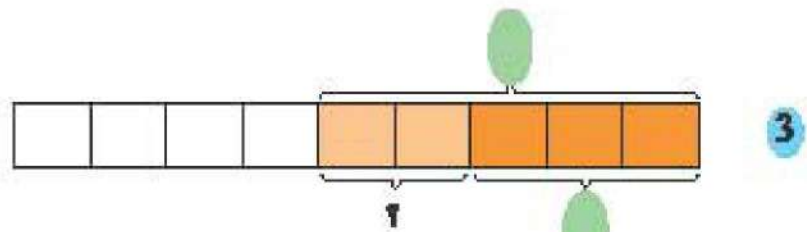
اعمل ضمنَ فريقيّ ثنائيّ لِمَلِّءِ القُرَاطِ التَّبْضَاوِيَّةِ بِالقِيَمِ الصَّحِيحَةِ.  
 ثُمَّ أَوْجِدِ الإِجَابَاتِ بِمَا يَلِي:



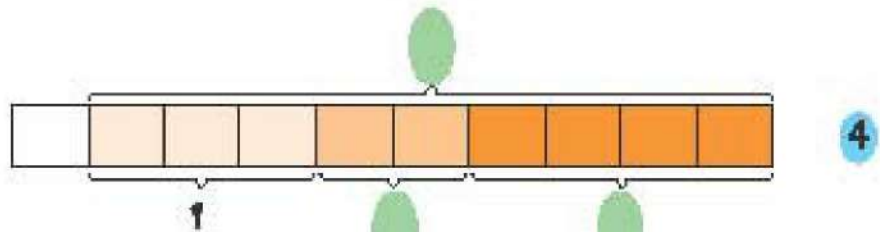
$$= \frac{1}{8} - \frac{3}{4}$$



$$= \frac{7}{12} - \frac{5}{6}$$



$$= \frac{1}{3} - \frac{5}{9}$$




$$= \frac{1}{5} - \frac{4}{10} - \frac{9}{10}$$

#### تدريب 4



2 Listen and read.



Aa  
Bb  
Cc  
Dd  
Ee  
Ff  
Gg  
Hh  
Ii  
Jj  
Kk  
Ll  
Mm  
Nn  
Oo  
Pp  
Qq  
Rr  
Ss  
Tt  
Uu  
Vv  
Ww  
Xx  
Yy  
Zz



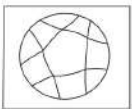
3 Write about yourself.



I brush my teeth \_\_\_\_\_.



I wash my face \_\_\_\_\_.



I play with my friends \_\_\_\_\_.



I go to sleep \_\_\_\_\_.



2 Read the words.

get dressed

wake up

go to school

watch TV

eat breakfast

go to sleep




play with friends

Aa  
Bb  
Cc  
Dd  
Ee  
Ff  
Gg  
Hh  
Ii  
Jj  
Kk  
Ll  
Mm  
Nn  
Oo  
Pp  
Qq  
Rr  
Ss  
Tt  
Uu  
Vv  
Ww  
Xx  
Yy  
Zz



3 Write and say when.



in the morning 	in the afternoon 	at night 
wake up		

### هَلْ تَعْلَمُ أَنْ:

- الْفَوَاكِهُ عُنْصُرٌ غِذَائِيٌّ مُهِمٌّ لِلْإِنْسَانِ وَكَثِيرٌ مِنْ أَنْوَاعِ الْفَاكِهَةِ يَنْتُجُ فِي لِيْبِيَا.
- شَجَرَةُ النَّخِيلِ تُنْتِجُ الرُّطْبَ الَّذِي يُؤْكَلُ طَازِجًا أَوْ يُجَفَّفُ وَيَدْخُلُ فِي بَعْضِ الصَّنَاعَاتِ الْمَحَلِّيَّةِ.
- غَسْلُ الْفَوَاكِهِ قَبْلَ أَكْلِهَا ضَرْوْرَةٌ لِلْوَقَايَةِ مِنَ الْأَمْرَاضِ.

### أَسْئَلَةُ تَطْبِيقِيَّةٍ

أَكْمِلْ مَا يَأْتِي:

1. تَنْمُو فِي ..... الْكَثِيرُ مِنْ ..... الْفَوَاكِهِ.
2. تَنْضُجُ بَعْضُ ..... فِي فَصْلِ الصَّيْفِ مِثْلِ .....
3. تَنْضُجُ بَعْضُ ..... فِي فَصْلِ الشِّتَاءِ مِثْلِ .....
4. تَدْخُلُ التَّمُورُ فِي صِنَاعَةٍ .....
5. قَدْ تَتَعَرَّضُ الْفَوَاكِهُ ..... بِبَعْضِ ..... الَّتِي يُمَكِّنُ عِلَاجَهَا بـ ..... الْحَشْرِيَّةِ.

### هل تعلم أن:

- الخضراوات من المحاصيل الهامة والضرورية لغذاء الإنسان .
- هناك خضراوات صيفية وأخرى شتوية، وبعض الخضار ينتج طول العام.
- الصوبة بيت من البلاستيك تُزرع فيه الخضراوات الصيفية وقت الشتاء.

### أسئلة تطبيقية

أكمل ما يأتي:

1. يختلف إنتاج ..... من ..... إلى ..... تبعاً لحاجتها من .....
2. هناك ..... تُزرع في ..... الربيع و ..... في فصل .....
3. زاد الأقبال على ..... الخضار في ..... الإنسان بعد أن عرف .....
4. تم اختراع ..... البلاستيكية ..... خضراوات الصيف في فصل .....