

المدرسة الليبية في فرنسا - تور

الاسم :

التاريخ: (2026\03\28)

الواجب للصف: الثالث

الاسبوع التاسع عشر

المادة	ما تم تدريسه	الواجب المطلوب
التربية الإسلامية	- درس حسن المعاملة	- حل الورقة المرفقة، وارسالها علي الايميل
اللغة العربية	درس انا الحاسوب	- اعادة كتابة الصفحة الاولى والثانية من الدرس في الكراسة - حل الورق المرفق، وارساله علي الايميل - التدرب علي الاملاء اختيار الاسطر الاسهل في الدرس واملئها علي الطالب
الرياضيات	الهندسة	- حل الورق المرفق، وارساله علي الايميل
اللغة الانجليزية	الوحدة الخامسة الدرس السابع	- حل الورق المرفق، وارساله علي الايميل
العلوم	درس الاجهزة	

ملاحظات مهمة:

1- الرجاء الألتزام بحل الواجبات وارسالها علي الايميل ecolelibyenfrance@gmail.com

بالتوفيق

معلمة الفصل



النشاط التعليمي :

1. مَا مَعْنَى حُسْنِ الْمُعَامَلَةِ ؟
2. مَنْ الَّذِي سَأَلَ قُرَيْشًا عِنْدَ فَتْحِ مَكَّةَ ؟
3. أَكْمَلْ مَكَانَ النُّقْطِ بِمَا تَرَاهُ مُنَاسِبًا :
 - أ. حُسْنُ الْمُعَامَلَةِ هُوَ أَنْ تُعَامَلَ جَمِيعَ النَّاسِ بِ.....
 - ب. قَالَ رَسُولُ اللَّهِ صَلَّى اللَّهُ عَلَيْهِ وَسَلَّمَ عِنْدَمَا فَتَحَ مَكَّةَ لِقُرَيْشٍ : " اذْهَبُوا فَأَنْتُمْ..... " .
 - ج. مِنْ حُسْنِ الْمُعَامَلَةِ أَنْ تُحْسِنَ إِلَى الْفُقَرَاءِ وَ.....
4. ضَعْ إِشَارَةَ (✓) أَمَامَ الْعِبَارَاتِ الصَّحِيحَةِ وَإِشَارَةَ (x) أَمَامَ الْعِبَارَاتِ الْخَاطِئَةِ :
 - أ. مِنْ حُسْنِ الْمُعَامَلَةِ أَنْ تُسِيءَ إِلَى وَالِدَيْكَ () .
 - ب. مِنْ حُسْنِ الْمُعَامَلَةِ أَنْ تُحْسِنَ إِلَى مُعَلِّمِكَ وَوَالِدَيْكَ وَمَنْ هُوَ أَكْبَرُ مِنْكَ () .
 - ج. كَانَ رَسُولُ اللَّهِ صَلَّى اللَّهُ عَلَيْهِ وَسَلَّمَ يُحْسِنُ مُعَامَلَةَ الْأَعْدَاءِ وَالْأَصْدِقَاءِ () .

التَّدْرِيبَاتُ

1 أَحْفَظُ الْجَدِيدَ مِنْ لُغَتِي



مَعْنَاهَا	الْكَلِمَةُ
يُضِيءُ	• يَشْعُ
سَرِيعَةٌ	• خَاطِفَةٌ
جُزْءٌ مِنَ الدَّقِيقَةِ	• الثَّانِيَةُ
مُفْرَدُهَا زِرٌّ، وَهُوَ الْمِفْتَاحُ	• أَزْرَارٌ

2 أَمَلًا الْفَرَاغَ بِمَا يُنَاسِبُ

الْجَمْعُ	الْمَثْنَى	الْمُفْرَدُ
الْبُيُوتُ		بَيْتٌ
	مَدْرَسَتَانِ	لَوْحَةٌ
	عَاصِمَتَانِ	آلَةٌ
شَرِكَاتٌ		

3 أَصْنَفُ الْكَلِمَاتِ حَسَبَ نَوْعِ (الْأَلِفِ)

عَلَى • مَعَهَا • دَعَا • إِلَى • رَجَا

الْأَلِفُ الْمَمْدُودَةُ الْأَلِفُ الْمَقْصُورَةُ

_____	_____
_____	_____
_____	_____
_____	_____

4 أَفَرِّقُ بَيْنَ الْأَلِفِ الْمَقْصُورَةِ وَالْيَاءِ

• أَحَلَى • حَقَّى • يَرَى • هَوَّأَيْتِي

_____	أَحَلَى
_____	حَقَّى
_____	يَرَى
_____	هَوَّأَيْتِي

5 أقرأ الدرس وأكمل الجمل الآتية:

• جهاز الحاسوب يتكون من ثلاث قطع، وهي:

_____، _____، _____.

• يسترجع الحاسوب المعلومات في _____.

• بلادي ليبيا يحدّها من الشمال _____.

• جهاز الحاسوب مخزن _____.



وَأَعِيدُ الْكِتَابَةَ بِخَطِّ جَمِيلٍ

- جِهَازُ الْحَاسُوبِ يَخْتَصِرُ الْعَمَلِيَّاتِ الْحِسَابِيَّةِ.

- جِهَازُ الْحَاسُوبِ يَتَكَوَّنُ مِنْ شَاشَةٍ صَغِيرَةٍ كَشَاشَةِ الْإِذَاعَةِ الْمَرْتَبِيَّةِ.

- بِلَادُكَ لِيَبِيَا يَشِعُّ مِنْهَا الْخَيْرُ، وَالْحُبُّ، وَالسَّلَامُ.

- أَنَا الْحَاسُوبُ أُسَلِّي الصِّغَارَ وَالْكَبَارَ .

جِهَازُ الْحَاسُوبِ يُخَزِّنُ الْمَعْلُومَاتِ الْمُتَنَوِّعَةَ، وَيَخْتَصِرُ
الْعَمَلِيَّاتِ الْحِسَابِيَّةَ؛ لِيَرْجِعَ إِلَيْهَا كُلُّ مَنْ يَمْتَلِكُ مِفْتَاحَهُ.

؟



جَدِّي

وَطَنِي

زَهْمِيل

يَدِي

يَسِي

التوقيع:

الدرجة:

التاريخ:

علا

صلاة

لا مع

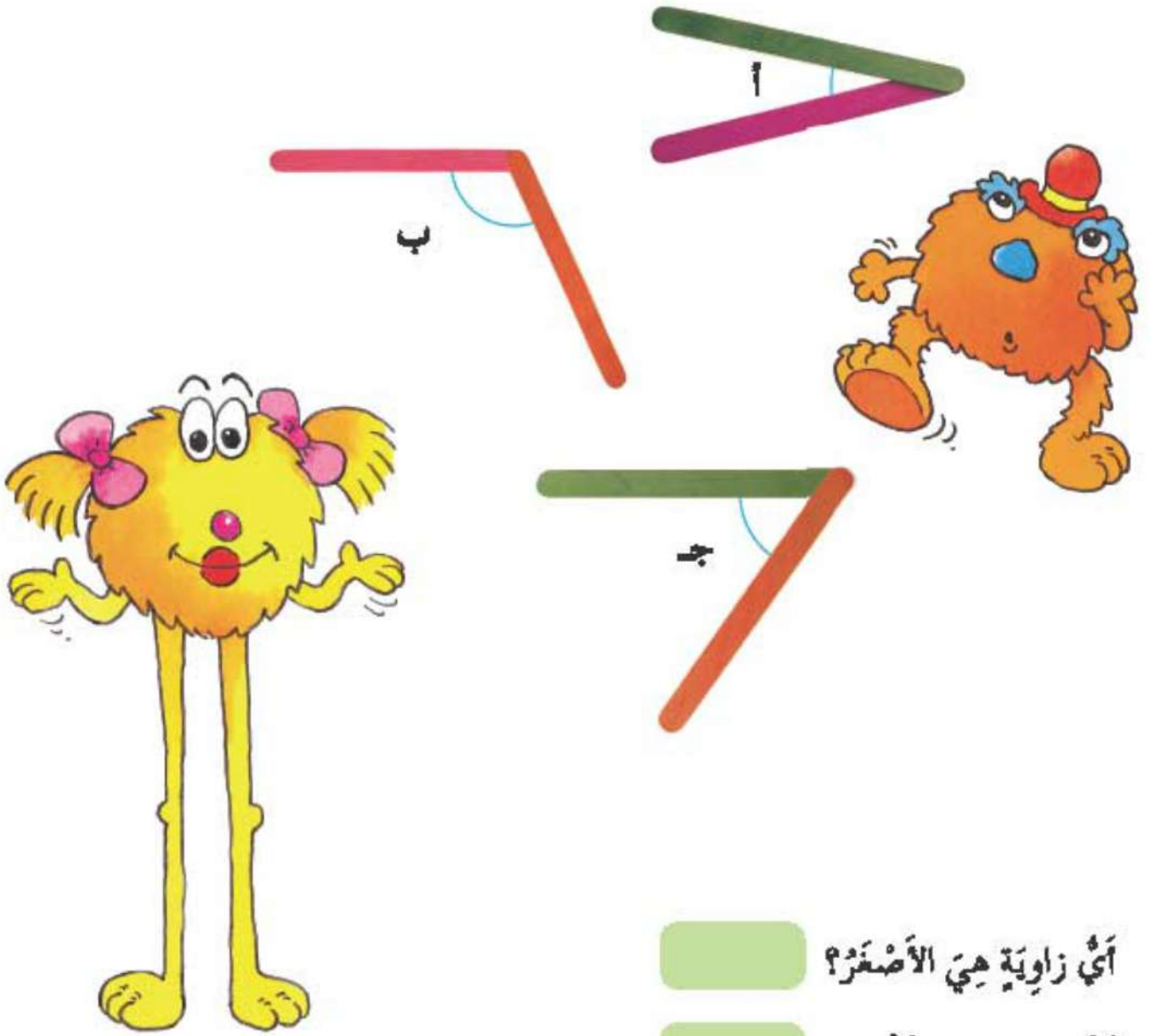
لا

التوقيع:

الدرجة:

التاريخ:

→ افترض فهمان عصبي المثلجات من فهمانه،
ثم استخدما لتكوين الزوايا التالية.



أي زاوية هي الأصغر؟

أي زاوية هي الأكبر؟

رتب الزوايا أ، ب، ج من الأصغر إلى الأكبر.



هَيَّا نَعْمَلْ مَعًا



عَدَدُ اللَّاعِبِينَ: مِنْ 4 إِلَى 6

تَحْتَاجُ:

- وَرَقَ رَسْمٍ.
- أَقْلَامَ تَلْوِينٍ.
- وَرَقَةَ عَمَلٍ.

1 هَيَّا نَمَيِّزُ الزُّوَايَا

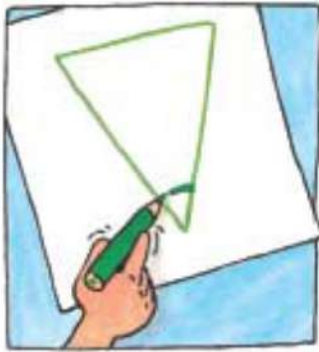
1 اَعْمَلْ مَعَ زَمِيلٍ لِرَسْمِ مَا يَلِي:

1 شَكْلٌ لَهُ 3 أَضْلَاعٍ.

2 شَكْلٌ لَهُ 4 أَضْلَاعٍ.

3 شَكْلٌ لَهُ 5 أَضْلَاعٍ.

4 شَكْلٌ لَهُ 6 أَضْلَاعٍ.



2 مَيِّزْ وَتَلَوِّنِ الزُّوَايَا فِي كُلِّ شَكْلٍ.

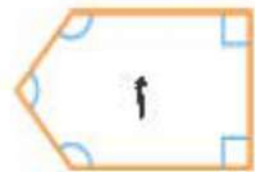
3 أَتَمِّمِ وَرَقَةَ الْعَمَلِ لِتَبْيَانِ:

1 عَدَدِ الزُّوَايَا فِي كُلِّ شَكْلٍ.

2 عَدَدِ الزُّوَايَا الْقَائِمَةِ فِي كُلِّ شَكْلٍ.



ب أَيُّ شَكْلٍ لَهُ 3 زَوَايَا قَائِمَةٍ؟



الإجابة هي الشكل .



1 Look and draw the shape.

1 18 10 20
17 4 9 15
8 5 3 11 19
12 2 7
13 16 14
6

1 to 5 = 6 to 10 =
11 to 15 = 16 to 20 =



2 Read and write. What is it?

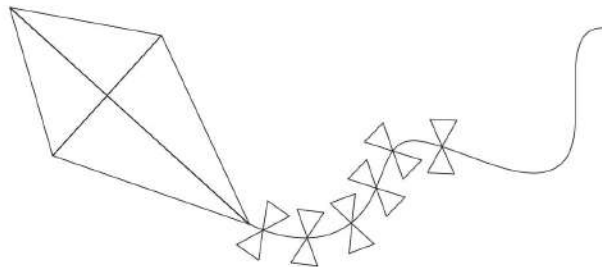





1 It's a circle. It's hot. _____

2 It has 6 squares. It's cold. _____

3 It has 16 triangles. It's a toy. _____

4 It's a rectangle. You watch it. _____



Aa
Bb
Cc
Dd
Ee
Ff
Gg
Hh
Ii
Jj
Kk
Ll
Mm
Nn
Oo
Pp
Qq
Rr
Ss
Tt
Uu
Vv
Ww
Xx
Yy
Zz