

المدرسة الليبية في فرنسا - تور

الاسم :

التاريخ: 05 / 04 / 2026

الواجب للصف التاسع الاسبوع العشرون

المادة	ما تم تدريسه	الواجب المطلوب	الملاحظات والمرفقات
التربية الإسلامية	الجزء الثاني من سورة النبأ قصر الصلاة	- اجابة التدريبات وتصويرها وارسالها على الايميل	
اللغة العربية	قراءة : الشباب النحو : وصل الكلمة وفصلها في الكتابة	- اجابة التدريبات وتصويرها وارسالها على الايميل	
الرياضيات	- مساحات السطوح	- اجابة التدريبات وتصويرها وارسالها على الايميل	
العلوم	- علم البيئة	- اجابة التدريبات وتصويرها وارسالها على الايميل	
اللغة الانجليزية	- الوحدة الثالثة الدرس الثالث و الرابع		
التاريخ	- استقلال ليبيا		
الجغرافية	- قارة امريكا الجنوبية		

-إرسال الواجبات على الإيميل التالي: ecolelibyenfrance@gmail.com

بالتوفيق

معلم الفصل

أسئلة تقوية :

س 1. بين حكم القصر فيما يأتي :

- سافر مسافة 70 كيلومتراً .

- سافر ليسرق .

- سافر أكثر من مسافة القصر من مكان عمله إلى مكان إقامته .

س 2. ضع علامة (✓) أمام العبارة الصحيحة وعلامة (x) أمام العبارة الخاطئة :

- إذا أراد المسلم السفر فإنه يقصر صلاته من بيته () .

- المصلي يقصر صلاته إذا سافر إلى المدينة التي تسكن فيها زوجته () .

- خرج يبحث عن سيارته المسروقة فإذا به يتجاوز مسافة القصر فلم يقصر

صلاته () .



أسئلة تقويمية :

- س 2 . اذكر بعض علامات يوم القيامة، مؤيدا كلامك بالآيات البينات.
- س 3 . كم يبقى الكفار الطغاة في جهنم؟ وما طعامهم وشرابهم فيها؟
- س 4 . لماذا كان جزاء الكافرين شديدا؟ وهل يغيب عن علم الله شيء؟

تَدْرِيبَاتٌ

(1)

مَا الْأَصْلُ فِي الْكَلِمَةِ، الْوَصْلُ أَمْ الْفَضْلُ؟ وَلِمَاذَا؟

(2)

عَيِّنْ فِيمَا يَأْتِي الْكَلِمَاتِ الَّتِي بِهَا وَصْلٌ وَاذْكُرِ الْمَوْضُوعَ مِنْهَا بِالْكَلِمَةِ:

أ- قَالَ تَعَالَى: ﴿ إِنَّمَا الْمُؤْمِنُونَ إِخْوَةٌ فَأَصْلِحُوا بَيْنَ أَخَوَيْكُمْ ﴾ (1).

ب- قَالَ تَعَالَى: ﴿ وَتَاللَّهِ لَأَكِيدَنَّ أَصْنَامَكُمْ بَعْدَ أَنْ تُولُوا مُدِيرِينَ ﴾ (2).

(3)

أ- أَنْتُمْ أَقْوِيَاءُ فِي الْحَقِّ .

ب- خَالِدٌ مُطِيعٌ وَالِدِيهِ .

فِي الْأَمْثَلَةِ السَّابِقَةِ كَلِمَاتٌ تَحْتَهَا خَطٌّ كُتِبَتْ مَفْصُولَةٌ، فَمَا السَّبَبُ؟

(1) سورة الحجرات من الآية (10).

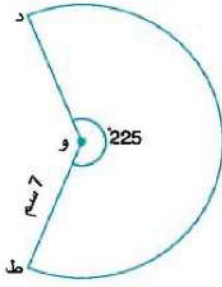
(2) سورة الأنبياء الآية (57).



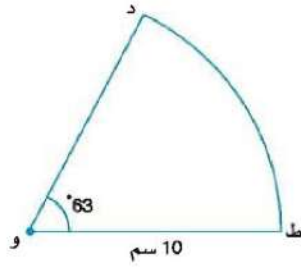
- 1- كَيْفَ يَكُونُ الشَّبَابُ حَيًّا ؟ وَمَا أَهْمِيَّةُ حَيَاةِ الشَّبَابِ لِلوَطَنِ ؟
- 2- كَيْفَ نَغْرَسُ حُبَّ الْحَيَاةِ الْكَرِيمَةِ فِي نُفُوسِ شَبَابِنَا ؟
- 3- لِلأُمَّةِ دَوْرٌ فِي إِحْيَاءِ الشَّبَابِ وَدَفْعِهِمْ إِلَى الْعَمَلِ عَلَى بِنَاءِ الْمُسْتَقْبَلِ،
فَمَا دَوْرُ الأُمَّةِ فِي هَذَا ؟ وَكَيْفَ يَكُونُ ؟
- 4- الشَّبَابُ مَكْسَبٌ لِلْحَاضِرِ وَذُخْرٌ لِلْمُسْتَقْبَلِ، كَيْفَ يَبْنِي الشَّاعِرُ هَذَا
الْمَعْنَى ؟ وَمَا الْوَاجِبُ عَلَى الشَّبَابِ حَاضِرًا وَمُسْتَقْبَلًا ؟

تمرين 15

1- معتبراً $(\frac{22}{7} = \pi)$ ، احسب طول القوس د ط في كل من أجزاء الدائرة التي مركزها و.



(ج)



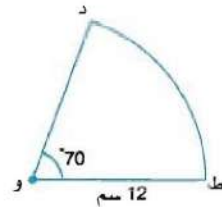
(أ)

5- (أ) أوجد طول الجانب المنحني للمنقلة النصف دائرية التي طول قطرها 10.5 كم (اعتبر $\pi = \frac{22}{7}$)
(ب) ثم أوجد محيط المنقلة.

6- (أ) أوجد طول قوس ربع دائرة طول نصف قطرها 12.6 كم (اعتبر $\pi = \frac{22}{7}$).
(ب) ثم أوجد محيط ربع الدائرة.

تمرين 5ب

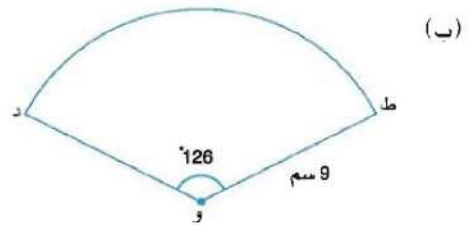
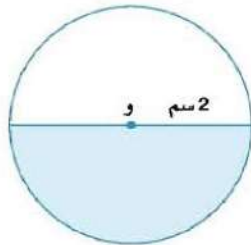
1- معتبراً $(\frac{22}{7} = \pi)$ ، احسب مساحة القطاع الدائري د و ط في كل مما يأتي:



(أ)

2- أوجد مساحة المنطقة المظللة في كل مما يأتي، معتبراً $\pi = 3.14$ ، وأعط إجابتك لأقرب ثلاثة أرقام معنوية.

(أ)



(ب)

