

المدرسة الليبية في فرنسا - تور

الاسم :

التاريخ: (12 \ 04 \ 2026)

الواجب للصف: الثاني

الاسبوع الحادي والعشرون

المادة	ما تم تدريسه	الواجب المطلوب
التربية الإسلامية	درس من اداب الطريق	
اللغة العربية	درس انا حبة الفاصوليا	- اعادة كتابة الدرس في الكراسة - حل الورق المرفق، وارساله علي الايميل
الرياضيات	درس الحجم	- حل الورق المرفق، وارساله علي الايميل
اللغة الانجليزية	مراجعة بعض الكلمات	- حل الورق المرفق، وارساله علي الايميل

ملاحظات مهمة:

1- الرجاء الألتزام بحل الواجبات وارسالها علي الايميل ecolelibyenfrance@gmail.com

بالتوفيق

معلمة الفصل



أولاً - أقرأ النص وأجيب:

ساقًا صغيرةً - قُرُونٌ فاصُولِيَاءَ خَضِرَاءَ - جِذْرًا صَغِيرًا - أَوْزَاقًا
خَضِرَاءَ - أَزْهَارًا جَمِيلَةً

★ ماذا أخرج بُرْعُمُ حَبَّةِ الفاصُولِيَاءِ؟
أخرج

★ ماذا أخرج جِذْرُ حَبَّةِ الفاصُولِيَاءِ؟
أخرج

★ ماذا أخرج سَاقُ حَبَّةِ الفاصُولِيَاءِ؟
أخرج

★ مَاذَا أَخْرَجَتْ أَوْرَاقُ حَبَّةِ الْفَاصُولِيَاءِ؟

أَخْرَجَتْ _____

★ مَاذَا أَخْرَجَتْ أَزْهَارُ حَبَّةِ الْفَاصُولِيَاءِ؟

أَخْرَجَتْ _____

ثَانِيًا - أُرْتَبِّ:

تُشْرِقُ - كُلُّ - الشَّمْسُ - صَبَاحٍ ← تُشْرِقُ الشَّمْسُ كُلَّ صَبَاحٍ

تَغِيبُ - كُلُّ - الشَّمْسُ - مَسَاءً _____

يَطْلُعُ - كُلُّ - الْقَمَرُ - مَسَاءً _____

يَخْتَفِي - كُلُّ - الْقَمَرُ - صَبَاحٍ _____



ثالثاً - أنقل:

مَا أَجْمَلَ الشَّجَرَةَ!

مَا أَكْرَمَ الشَّجَرَةَ!

مَا أَبْهَى الشَّجَرَةَ!

مَا أَرْوَعَ الشَّجَرَةَ!


رابعاً - أعبّر:

أَسْتَحْدِمُ الْكَلِمَاتِ وَالْجُمَلِ الْآتِيَةَ فِي تَعْبِيرِي

★ أَنَا طِفْلٌ صَغِيرٌ وَسَأَكْبُرُ مَعَ الْأَيَّامِ

★ أَنَا طِفْلَةٌ صَغِيرَةٌ وَسَأَكْبُرُ مَعَ الْأَيَّامِ

★ مَاذَا تَوَدُّ أَنْ تُنْجِزَ؟ وَمَاذَا تَوَدِّينَ أَنْ تُنْجِزِي؟



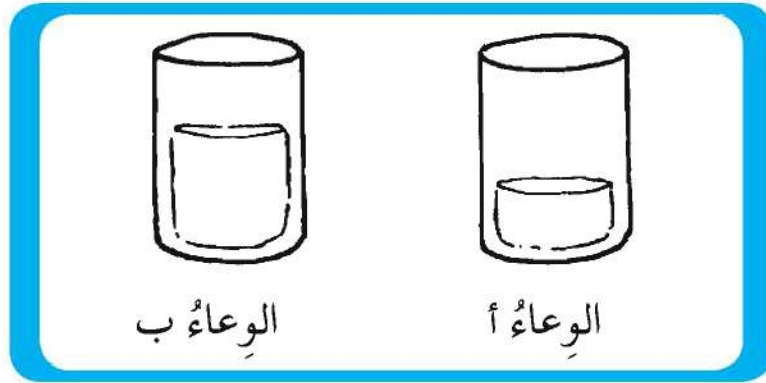
الحَجْمُ



تَدْرِيب 1

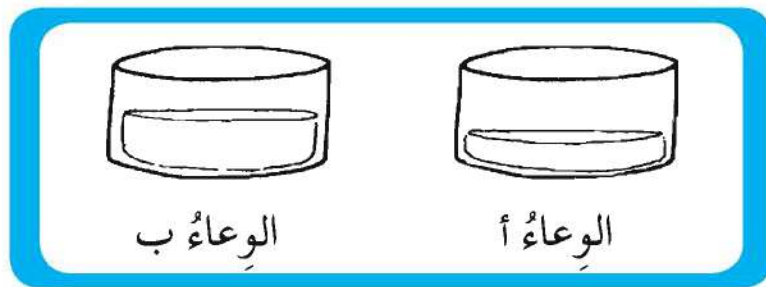
(1) املأ الفراغاتِ مُسْتَحْدِمًا "أَكْثَر" أَوْ "أَقَل".

(أ)



- الوعاء (أ) وَالوعاء (ب) لهُمَا نَفْسُ الحَجْمِ .
 الوعاء (ب) بِهِ مَاءٌ _____ مِنْ الوعاء (أ) .
 الوعاء (أ) بِهِ مَاءٌ _____ مِنْ الوعاء (ب) .

(ب)



- الوعاء (أ) وَالوعاء (ب) لهُمَا نَفْسُ الحَجْمِ .
 الوعاء (أ) بِهِ مَاءٌ _____ مِنْ الوعاء (ب) .
 الوعاء (ب) بِهِ مَاءٌ _____ مِنْ الوعاء (أ) .


تَدْرِيب 2

املأ الفراغات .

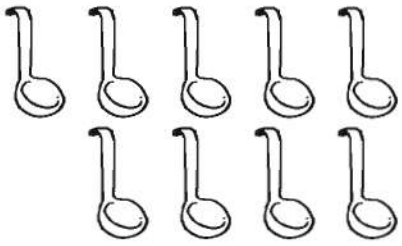


(1) صَبَبْنَا الْمَاءَ مِنَ الدَّلْوِ فِي الْأَوْعِيَةِ س، ص، ع بِاسْتِخْدَامِ الْمِعْرَفَةِ .




10 مَعَارِفَ



8 مَعَارِفَ



9 مَعَارِفَ



(أ) _____ بِهِ أَكْثَرُ كَمِّيَّةٍ مِنَ الْمَاءِ .

(ب) _____ بِهِ أَقَلُّ كَمِّيَّةٍ مِنَ الْمَاءِ .

(ج) ص بِهِ مَاءٌ أَقَلُّ مِنْ _____ بِمِقْدَارِ مِعْرَفَتَيْنِ .


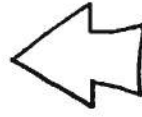

(د) _____ بِهِ مِعْرَفَةٌ وَاحِدَةٌ أَكْثَرُ مِنْ ص .



تَدْرِيب 4

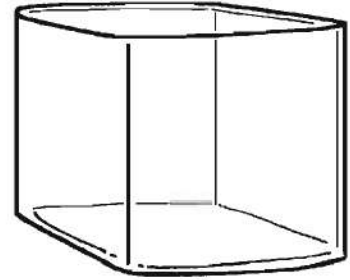
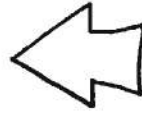

املأ الفراغات .

(1)





صَبَّ وائِلٌ _____ ل مِنْ اللَّبَنِ لِأُسْرَتِهِ .

(2)



اسْتَعْدَمَ شَرِيفٌ _____ ل مِنْ الْمَاءِ لِحَوْضِ السَّمَكِ .

(3)



أَعَدَّتْ الْأُمُّ _____ ل مِنْ الشَّايِ لِحَفْلَةِ شَايٍ .



تَدْرِيب 5

(1) اَمَلِ الْفَرَائِغَاتِ .

$$\text{ل } \underline{\hspace{2cm}} = \text{ل } 16 + \text{ل } 213 \text{ (أ)}$$

$$\text{ل } \underline{\hspace{2cm}} = \text{ل } 98 - \text{ل } 167 \text{ (ب)}$$

$$\text{ل } \underline{\hspace{2cm}} = \text{ل } 123 + \text{ل } 334 \text{ (ج)}$$

$$\text{ل } \underline{\hspace{2cm}} = \text{ل } 496 - \text{ل } 805 \text{ (د)}$$

$$\text{ل } \underline{\hspace{2cm}} = \text{ل } 75 + \text{ل } 78 \text{ (هـ)}$$

$$\text{ل } \underline{\hspace{2cm}} = \text{ل } 164 - \text{ل } 390 \text{ (و)}$$

$$\text{ل } \underline{\hspace{2cm}} = \text{ل } 285 + \text{ل } 576 \text{ (ز)}$$

$$\text{ل } \underline{\hspace{2cm}} = \text{ل } 94 - \text{ل } 143 \text{ (ح)}$$

$$\text{ل } \underline{\hspace{2cm}} = \text{ل } 294 - \text{ل } 779 \text{ (ط)}$$

$$\text{ل } \underline{\hspace{2cm}} = \text{ل } 465 + \text{ل } 153 \text{ (ي)}$$

skirt	slide	socks	spider
steak	strawberry	swing	tea
toys	trainers	tree	trousers
T-shirt	TV	wardrobe	watch

