

## المدرسة الليبية في فرنسا - تور

الاسم : .....

التاريخ: ( 2026\04\12 )

الواجب للصف: الثالث

### الاسبوع الحادي والعشرون

المادة	ما تم تدريسه	الواجب المطلوب
التربية الإسلامية	- درس اداب الحديث - درس الايمان بالقدر خيره وشره	- حل الورق المرفق، وارساله علي الايميل
اللغة العربية	درس الريف	- اعادة كتابة الصفحة الاولى والثانية من الدرس في الكراسة - حل الورق المرفق، وارساله علي الايميل - التدرب علي الاملاء اختيار الاسطر الاسهل في الدرس واملائها علي الطالب
الرياضيات	درس المحيط والمساحة	- حل الورق المرفق، وارساله علي الايميل
اللغة الانجليزية	الوحدة السادسة الدرس الثاني	- حل الورقة المرفقة، وارسالها علي الايميل
العلوم	درس جسمك المذهل	

ملاحظات مهمة:

1- الرجاء الألتزام بحل الواجبات وارسالها علي الايميل [ecolelibyenfrance@gmail.com](mailto:ecolelibyenfrance@gmail.com)

بالتوفيق

معلمة الفصل



## النَّشَاطُ التَّعْلِيمِيُّ :

1. مَا مَعْنَى أَدَبِ الْحَدِيثِ ؟
  2. لِمَاذَا أَنْعَمَ اللَّهُ عَلَيْنَا بِالصَّوْتِ ؟
  3. مَا مَعْنَى : اللَّغْوُ؟
  4. أَكْمِلِ النَّقْطَ الْآتِيَةَ بِكَلِمَاتٍ مُنَاسِبَةٍ :
- أ. مِنْ أَدَبِ الْحَدِيثِ الْأَ . . . . . مَعَ مُحَدِّثِكَ  
بِصَوْتٍ . . . . .
- ب. مِنْ أَدَبِ الْحَدِيثِ الْأَ . . . . . مِنْ صَوْتِكَ  
عَلَى مَنْ هُوَ . . . . . مِنْكَ .
- ج. اللَّغْوُ هُوَ كُلُّ كَلَامٍ لَيْسَتْ مِنْهُ . . . . .  
وَلَيْسَ لَهُ . . . . .
- د. قَالَ صَلَّى اللَّهُ عَلَيْهِ وَسَلَّمَ : " لَا يَسْتَقِيمُ . . . . .  
عَبْدٌ حَتَّى يَسْتَقِيمَ . . . . . ،  
وَلَا يَسْتَقِيمُ . . . . . حَتَّى  
يَسْتَقِيمَ . . . . . "



## النَّشَاطُ التَّعْلِيمِيُّ :

1. هَلْ يَسْتَطِيعُ الْإِنْسَانُ أَنْ يَمْنَعَ مَا يُصِيبُهُ ؟
2. مَنْ الَّذِي قَضَى وَقَدَّرَ أَنْ نُصَابَ بِمَا يَحْدُثُ لَنَا فِي حَيَاتِنَا ؟
3. مَا وَاجِبُ الْمُسْلِمِ نَحْوَ الْقَدَرِ ؟



# التَّدْرِيبَاتُ

صِلْ بَيْنَ الْمُتَرَادِفِينَ

1

(ب)	(أ)
يُحِسُّ	الْفَنَنُ
أَنْقَى	يَشْعُرُ
الْغُصْنُ	أَصْفَى
الرِّيفُ	الْبَدْوُ

2 أَمَلِ الْفَرَغَاتِ بِمَا يُنَاسِبُ مِنَ الْكَلِمَاتِ الْآتِيَةِ:

(الرِّيفِ - تَضَامُنٌ - السَّمَاءُ - الْهَوَاءُ)

- مَا أَجْمَلَ \_\_\_\_\_!
- هَوَاءٌ \_\_\_\_\_ نَقِيٌّ.
- تَحْجِزُ الْأَبْنِيَّةُ الشَّامِخَةَ \_\_\_\_\_.
- الْحَيَاةُ فِي الْقَرْيَةِ \_\_\_\_\_ وَتَكَافُلٌ.

### 3 أَنْمِي مَعْلُومَاتِي

- يُغَذِّي - يُغَذِّي الْهَوَاءَ النَّقِيَّ كُلَّ خَلِيَّةٍ فِي الْجِسْمِ.
- تَحْجِزُ - تَحْجِزُ الْمَبَانِي الْعَالِيَةَ الْهَوَاءَ.
- يَشْعُرُ - يَشْعُرُ الْمَرْءُ بِجَمَالِ السَّمَاءِ فِي الرَّيْفِ.

### 4 أَفْكَرُ، فَأَخْتَارُ

الضَّجِيجِ • الْهُدُوءِ

- الْحَيَاةُ فِي الْمُدُنِ بَعِيدَةٌ عَنِ \_\_\_\_\_.

الْمُدُنِ • الرَّيْفِ

- الشُّعُورُ بِجَمَالِ الطَّبِيعَةِ لَا يَتَحَقَّقُ فِي \_\_\_\_\_.

الْهَوَاءِ • السَّمَاءِ

- تَحْجِزُ الْأَبْنِيَّةُ الْعَالِيَةَ \_\_\_\_\_.

الرَّيْفِ • الْمُدُنِ

- الْحُسْنُ الصَّنَاعِيُّ هُوَ الْمَظْهَرُ السَّائِدُ فِي \_\_\_\_\_.

## 5 أَفْرَأُ فُأَجِيبُ

• مَا الَّذِي تَتَجَدَّدُ النَّفْسُ بِتَجَدُّدِهِ، وَتَمْتَلِي نَشَاطًا مِنْ نَشَاطِهِ؟

• \_\_\_\_\_

• مَتَى تَشْعُرُ بِجَمَالِ الطَّبِيعَةِ؟

• \_\_\_\_\_

## 6 أَرْتَبُ

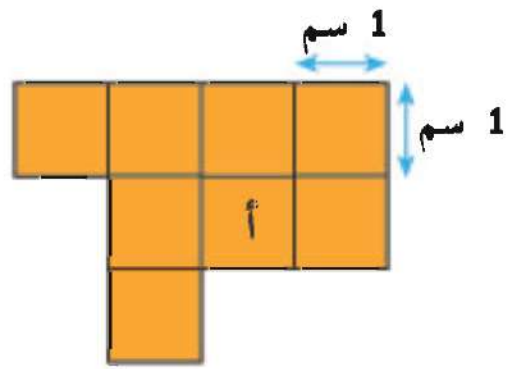
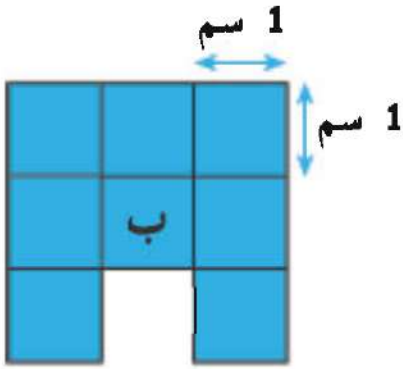
• فِي الرَّيْفِ - وَجَوْ مَفْتُوحٌ - حُرَّةٌ طَلِيقَةٌ - الْحَيَاةُ

• \_\_\_\_\_

• أَرْضٌ - فَوْطَنِي - عَلَيْهَا سَكَنِي - بُيَّتِي

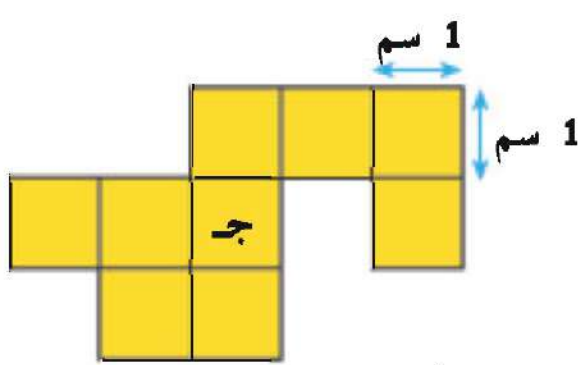
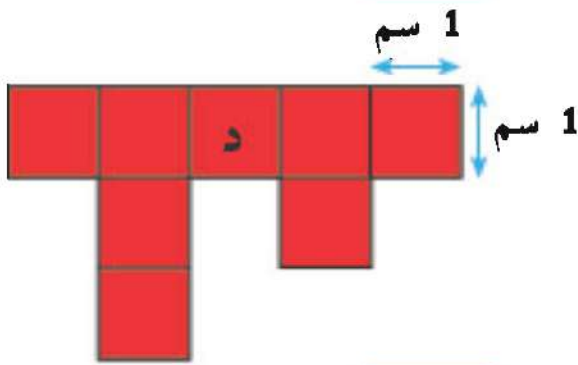
• \_\_\_\_\_

جـ الأشكال التالية مكوّنة من مربّعات 1 سم. أوجد محيط ومساحة كل شكل.



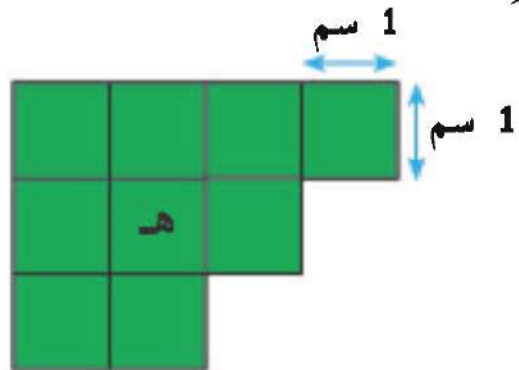
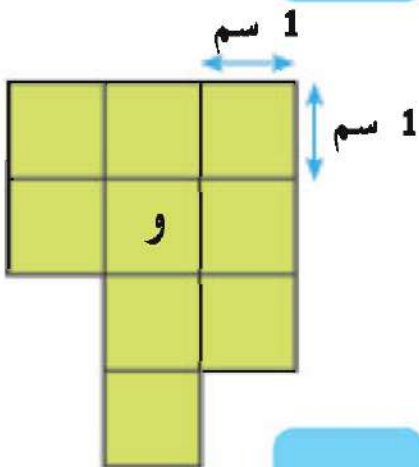
1 هل الشكلان أ، ب لهما المساحة نفسها؟

2 هل الشكلان أ، ب لهما المحيط نفسه؟



3 هل الشكلان ج، د لهما المساحة نفسها؟

4 هل الشكلان ج، د لهما المحيط نفسه؟

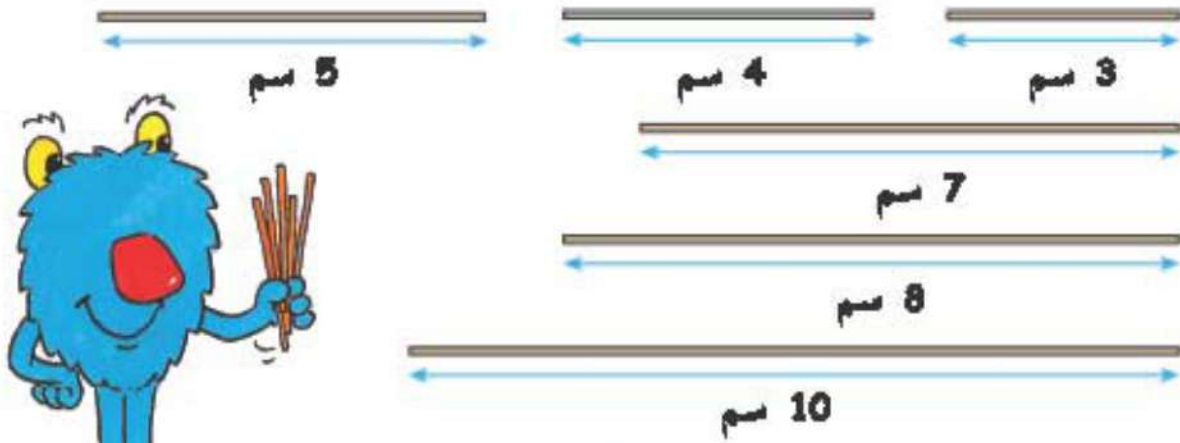


5 هل الشكلان هـ، و لهما المساحة نفسها؟

6 هل الشكلان هـ، و لهما المحيط نفسه؟



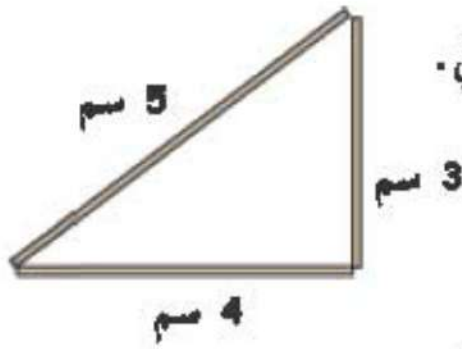
1 جَمْعَ سَمْعَانِ بَعْضِ الْعِصِيِّ بِالْأَطْوَالِ التَّالِيَةِ:



1 كَوْنْ هَذَا الشُّكْلَ بِنَعْضِ الْعِصِيِّ.

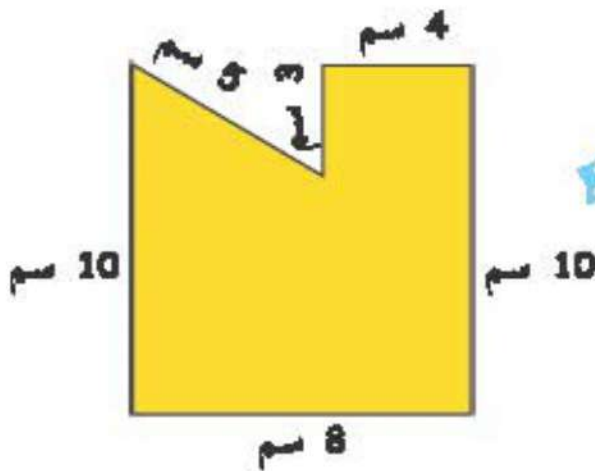
مَا مَحِيطُ الشُّكْلِ؟

المُحِيطُ =  سم

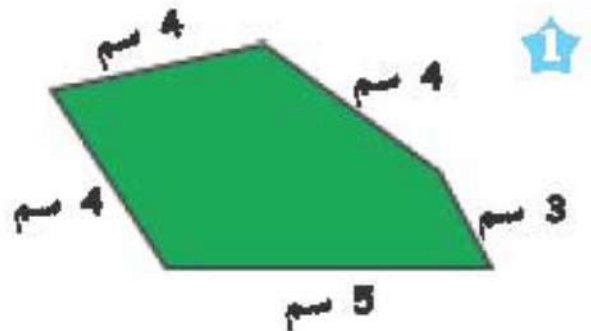


2 سَاعِدْ سَمْعَانَ عَلَى تَكْوِينِ شَكْلَيْنِ مُخْتَلِفَيْنِ بِاسْتِخْدَامِ الْعِصِيِّ الْمَرْشُومَةِ، ثُمَّ أَوْجِدِ الْمُحِيطَ لِكُلِّ شَكْلٍ.

ب أَوْجِدِ الْمُحِيطَ لِلشُّكْلَيْنِ التَّالِيَيْنِ:



المُحِيطُ =  سم



المُحِيطُ =  سم



هَيَّا نَعْمَلْ مَعًا!



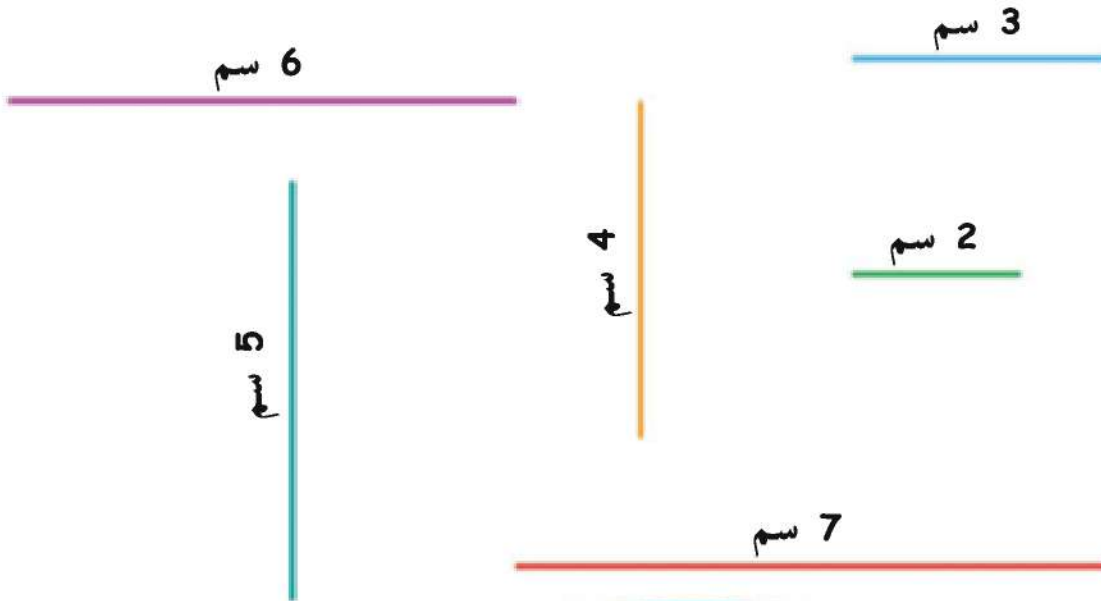
أ استخدِمْ ضَمْنَ مَجْمُوعَةٍ مِنْ أَرْبَعَةِ تَلَامِيذِ اللَّوْحَةِ وَشَرِيطًا مَطَّاطِيًّا لِتَكْوِينِ أَرْبَعَةِ مُسْتَطِيلَاتٍ، لِكُلِّ مُسْتَطِيلٍ:

1 أَوْجِدْ عَدَدَ صُفُوفِ الْمُرَبَّعَاتِ 1 سَم.

2 أَوْجِدْ عَدَدَ الْمُرَبَّعَاتِ 1 سَم فِي كُلِّ صَفٍّ.

3 أَوْجِدْ الْمِسَاحَةَ مُسْتَخْدِمًا: الطُّوْلُ  $\times$  العَرْضُ.

ب استخدِمْ هَذِهِ الْقِطْعَ الْمُسْتَقِيمَةَ فِي تَكْوِينِ ثَلَاثَةِ مُسْتَطِيلَاتٍ، ثُمَّ أَوْجِدْ مُحِيطَ وَ مِسَاحَةَ كُلِّ مُسْتَطِيلٍ. استخدِمْ كُلَّ قِطْعَةٍ مُسْتَقِيمَةٍ مَرَّتَيْنِ.

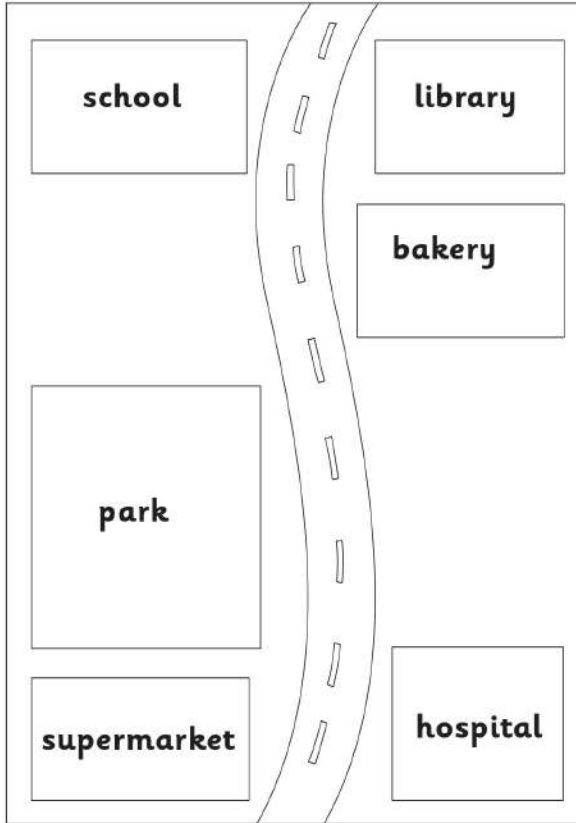


تَكْوِينُ الْمُسْتَطِيلَاتِ مُمْتَعٌ!





1 Tick (✓) the true sentences.



1 The school is opposite the library.

2 The park is opposite the hospital.

3 The supermarket is next to the school.

4 The bakery is next to the library.



2 Write the words correctly.

wednesday      engLish

\_\_\_\_\_

School      pe      MonDay

\_\_\_\_\_