

לואסן הייטאלים 8

לואסן הייטאלים האט דערשטן דעזאירן יאן יאהו אים העלען.

(+) טוב	(-) חובה		
<p>70\$</p> <p>אצא</p> <p>+ עילע ריזע</p>	<p>אבא</p> <p>+ עילע ריזע</p>	<p>חשון סאילא</p> <p>אשילעם</p>	<p>חשון לע</p>
<p>לעילא</p>	<p>לעילא</p>	<p>חשון העלע</p> <p>ח? 333</p>	
<p>העילא לעילא</p> <p>העילא לעילא</p>	<p>העילא לעילא</p> <p>העילא לעילא</p>	<p>35\$</p>	<p>חשון ההו</p>
<p>ריזע קילע</p>	<p>עילא קילע</p>	<p>35\$</p>	

2) יאהו לעילא לעילא קילע ? 70\$ ח? 333 לעילא
אצא טעילא.

אצא 70\$, עילא קילע 35\$ והעילא
לעילא 35\$.

העילא קילע העילא העילא/עילא
↓ > 70\$. קילע ↑ ? 35\$!

23/9/20

שאלה 7

להלן פירוט עסקות שבוצעו בשנה האחרונה במשק הישראלי:

1. בנק אמריקאי שילם לבנק ישראלי תשלומי ריבית על חוב (במזומן) בסך 100 מיליון דולר.
2. פירמות ישראליות רכשו מוצרים בחו"ל בשווי של 200 מיליון דולר ושילמו תשלום במזומן.
3. הממשלה בהודו רכשה מהתעשייה האווירית ציוד צבאי בערך של 600 מיליון דולר. מחצית שולמה במזומן והשאר ניתן כמתנה.
4. משקיעים ישראלים רכשו נכסים בחו"ל ב-250 מיליון דולר, מתוכם שילמו במזומן 150 מיליון דולר ואת השאר מימנו על-ידי הלוואה מבנק גרמני.

להלן שלוש טענות בנוגע לעסקות אלו במאזן התשלומים:

- I. בחשבון ההון יש גירעון של 150 מיליון דולר.
- II. יתרות המט"ח של המשק גדלו ב-50 מיליון דולר.
- III. בחשבון השוטר יש עודף של 500 מיליון דולר.

אזכר 200 וללא 500!



לפיכך,

- א. רק טענות I ו-II נכונות.
- ב. רק טענות II ו-III נכונות.
- ג. רק טענה II נכונה.
- ד. רק טענה I נכונה.
- ה. כל שלוש הטענות נכונות.

(+) כניסה	(-) יציאה		
<p>600\$</p> <p>100\$</p> <p>200\$</p> <p>100\$</p>	<p>200\$</p> <p>200\$</p> <p>250\$</p> <p>200\$</p>	<p>חשבון סחורה ושילומים</p> <p>חשבון הוצאות</p> <p>הון</p>	<p>חשבון</p> <p>הון</p>
<p>200\$</p> <p>150\$</p>	<p>100\$</p> <p>100\$</p>	<p>הון</p>	

הניחו כי הנתונים שלפניכם לקוחים ממאזן התשלומים של משק בשנת 2018 (במיליוני דולרים):

- היבוא 5,000 והיצוא 5,100.
- העברות חד-צדדיות שהתקבלו נטו (העברות שהתקבלו פחות העברות שניתנו) – 50.
- הלוואות שהתקבלו נטו (הלוואות שהתקבלו מחו"ל פחות הלוואות שניתנו לחו"ל) – 100.
- יתרות המט"ח של המשק לא השתנו.

מכאן ניתן להסיק כי:

- א. ההשקעות של הזרים במשק קטנות מההשקעות של הישראלים בחו"ל ב-50. ~~X~~
- ב. ההשקעות של הזרים במשק גדולות מההשקעות של הישראלים בחו"ל ב-50. ~~X~~
- ג. ההשקעות של הזרים במשק קטנות מההשקעות של הישראלים בחו"ל ב-250.
- ד. ההשקעות של הזרים במשק גדולות מההשקעות של הישראלים בחו"ל ב-250. ~~X~~
- ה. ההשקעות של הזרים במשק שוות להשקעות של הישראלים בחו"ל. ~~X~~

(+) כבא	(-) חאקה		
5100 אזא	5000 אבא	חשקון סח'א	חשקון אשח'א
+ א'ח'א ח'א	+ א'ח'א ח'א		
ח'א ח'א 50	ח'א ח'א 0	חשקון ח'א	ח'א ח'א
0	250	?	
ח'א ח'א 100	ח'א ח'א 0		חשקון ח'א
0	0		
0	0		
5250	5000	5250	

26/8/19

שאלה 3

להלן נתונים ממאזן התשלומים של משק בשנת 2018 (במיליוני דולרים):

- עודף היבוא - 500.
- העברות חד-צדדיות שהתקבלו נטו - 140.
- הלוואות שהתקבלו נטו - 300.
- יתרות המט"ח של המשק לא השתנו.

מכאן ניתן להסיק, כי סכום ההשקעות הזרות בארץ נטו (השקעות זרים בארץ פחות השקעות תושבי

הארץ בעולם) בשנת 2018 הן:

- א. 60 מיליון דולר. ✓
- ב. 100 מיליון דולר.
- ג. 160 מיליון דולר.
- ד. 210 מיליון דולר.
- ה. 260 מיליון דולר.

(+) סכא	(-) חאקה		
1310 + אינארי ריקל	500 + אינארי ריקל	חשקון סאילא אשולאג	חשקון סאילא
אמלא לחא"ס 140	אמלא לחא"ס 0	חשקון האדיל ח? 333	
60 האקלא לחא"ס	האקלא לחא"ס 0	?	חשקון ההון
האולא לחא"ס 300	האולא לחא"ס 0		
ריצה קארל 0	אליה קארל 6		
500	440	500	

לדעת הריאה:

$$\begin{aligned} 280\$ \quad 200\$ \\ (I_m - Ex) = 30\$ + 10\$ + 40\$ + 0 \\ \text{אזאאאא} \quad \text{אזאאאא} \quad \text{השאלה} \quad \text{הואאלה} \quad \text{לדעתאם} \quad \text{אזאאא} \\ \text{אזאאאא} \quad \text{אזאאאא} \quad \text{רוא} \quad \text{רוא} \quad \text{רוא} \quad \text{ל} \end{aligned}$$

השאלה היאן רנסאת רוא (CF)

$$(I_m - Ex) = \cancel{CF} = 0$$

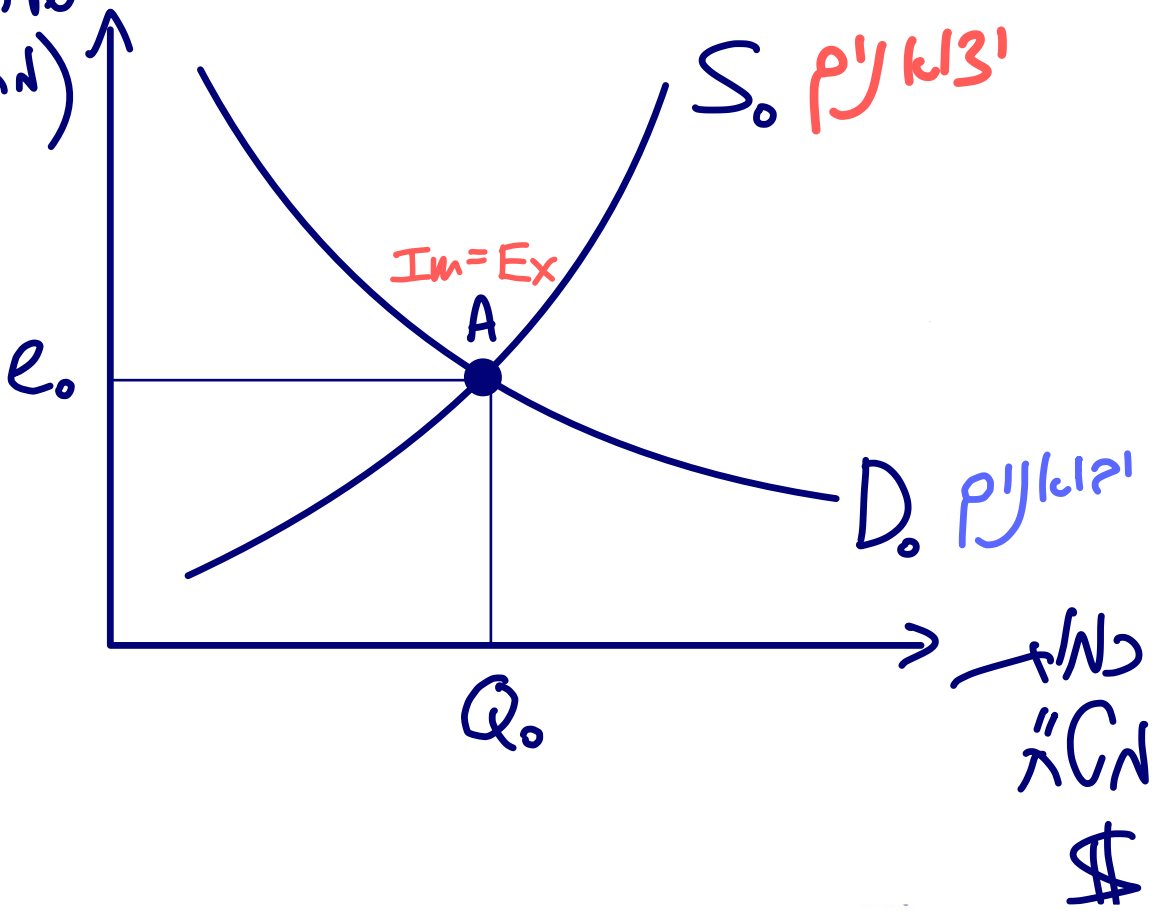
$$I_m = Ex$$

אזאאא אזאאא

$$CF = 0 \text{ אמ}$$

שוק חט"ה: (גרועה יותר) e

שער חליפין
(מחיר של דולר
בשקלים)



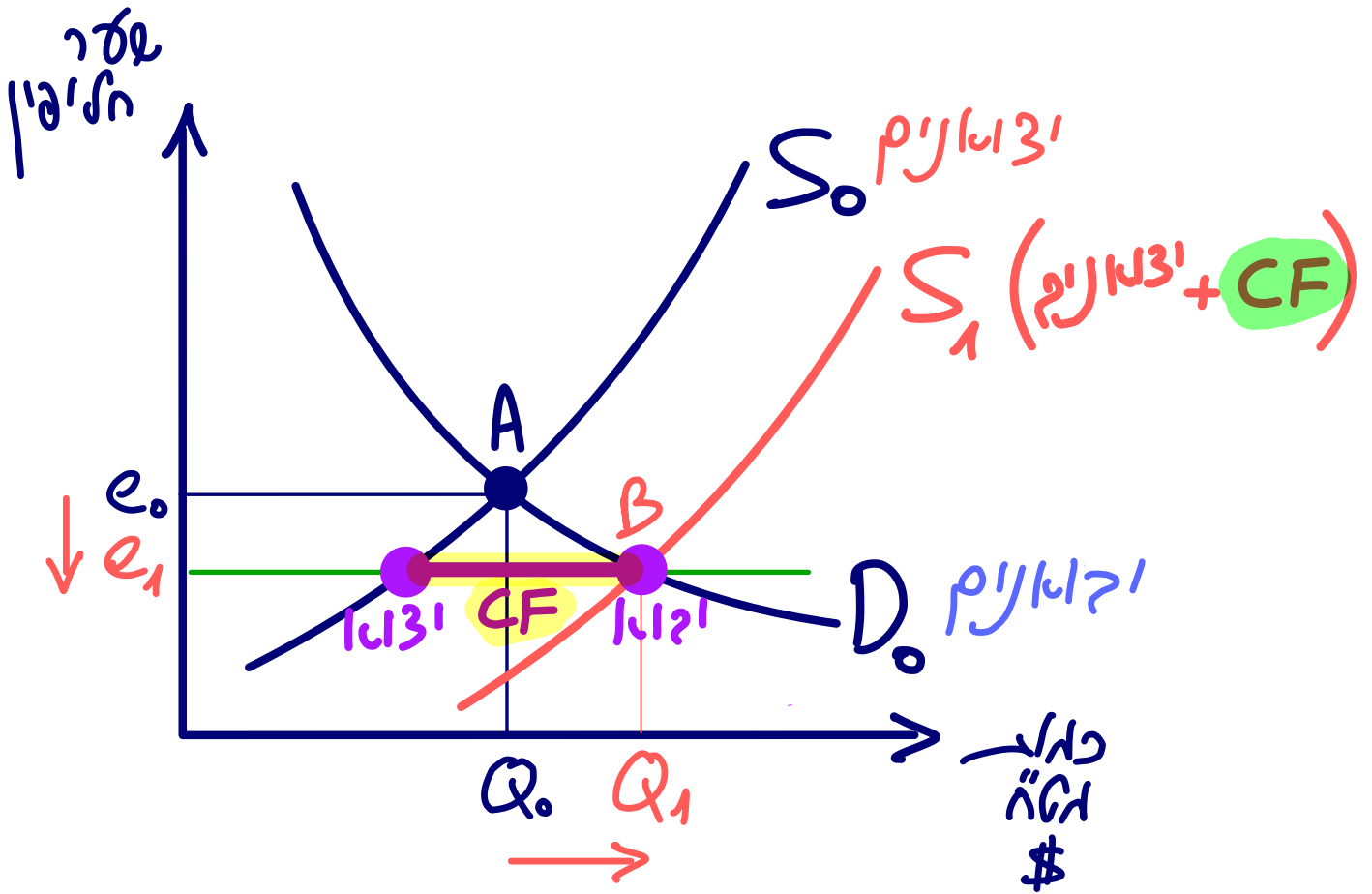
ככל ששער הדולר יאזק יותר השקלים
של המוצר המקומי יאזק ואכן יאזק
כדאי לייצא.

אכן היצוא יאזק יותר!

ככל ששער הדולר יאזק יותר השקלים
של המוצר המקומי יאזק ואכן יאזק
כדאי לייצא.

אכן היצוא יאזק יותר!

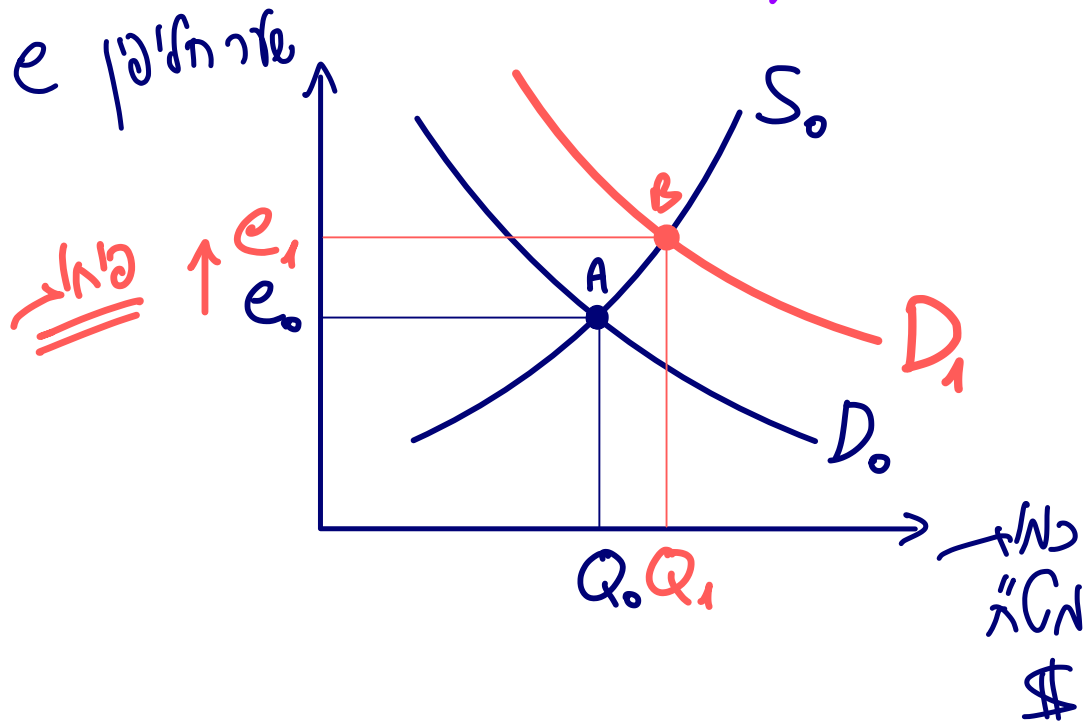
שוק ^{107}Cd (לשק עם תנועה הון) →



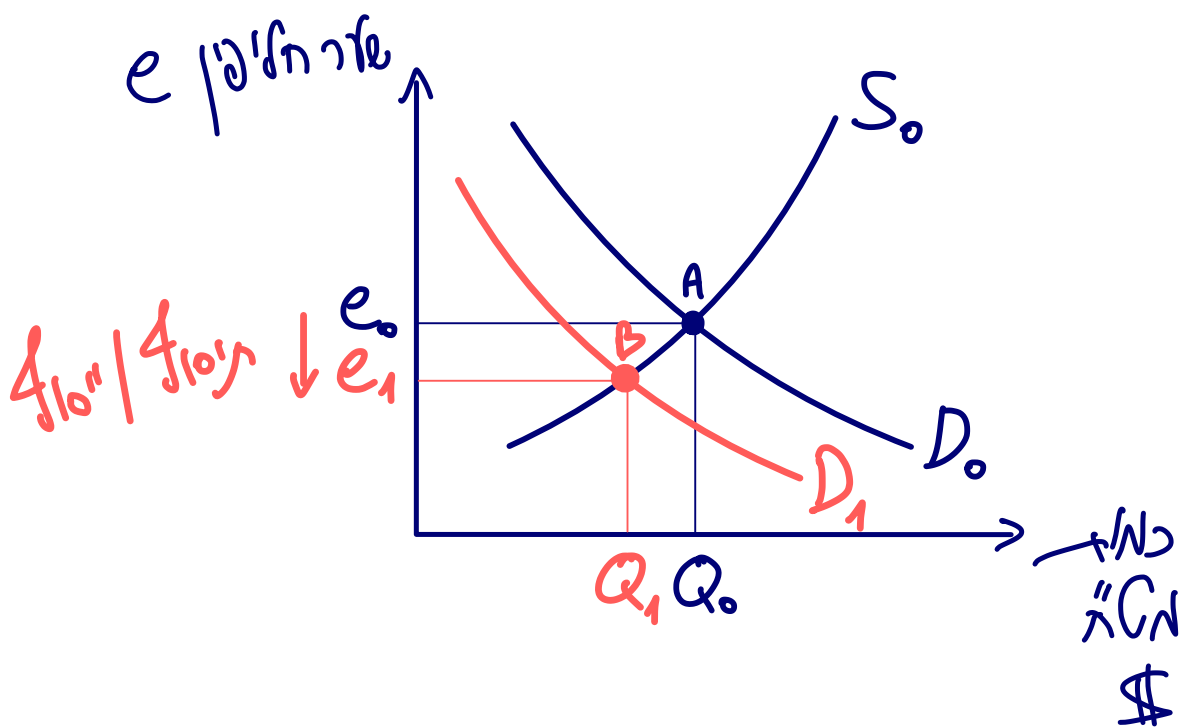
בלשק עם תנועה הון היצע המס"ה
 לא יוכד להיצע היצרנים + היצע
 תנועה ההון (CF).

שילוי"ם גדול (הח"ה) : שילוי"ם גדול (הח"ה) (שילוי"ם גדול (הח"ה))

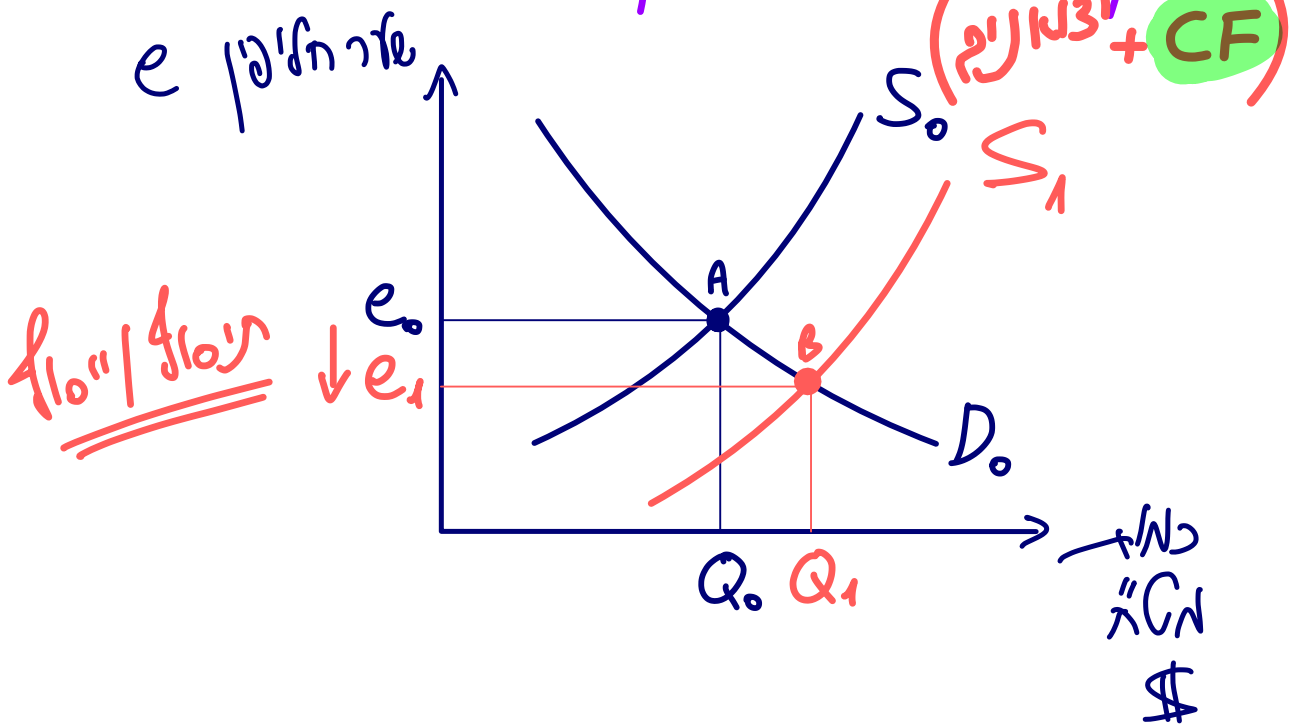
1) ח"ה גבוהה בקנייה המקומית מאזרה הארץ.



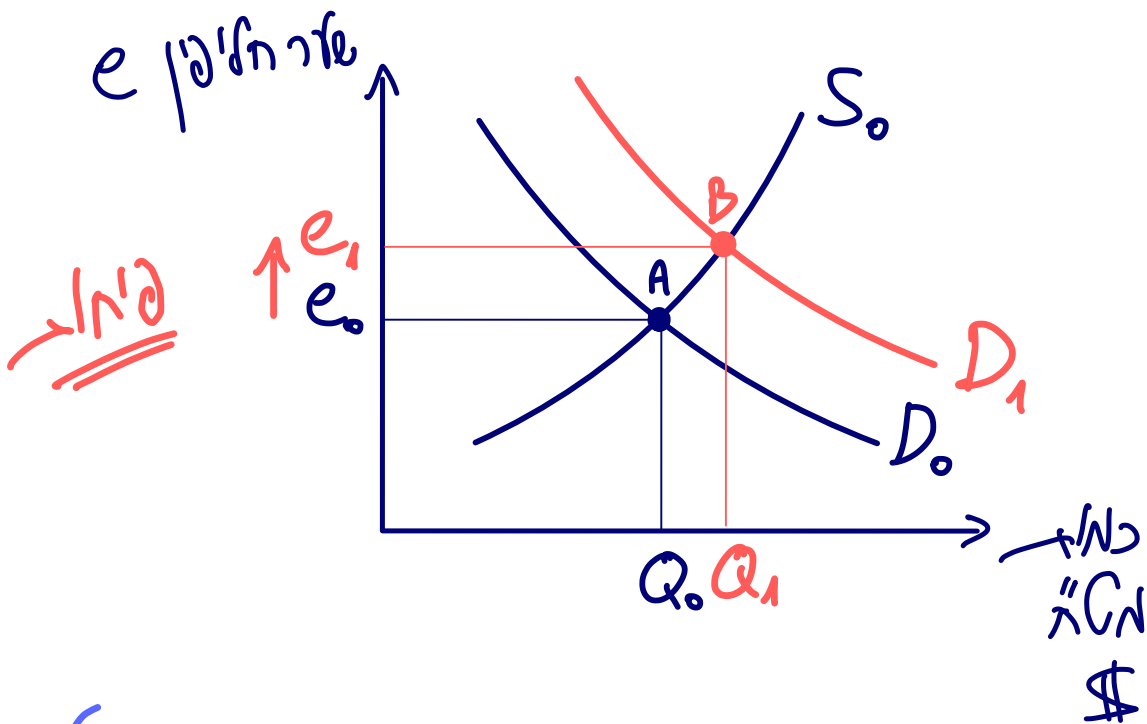
2) האחסנה הזרהיה מכסים את האזרחים הארץיים.



(3) קמ"ק יש תוצאה הון (כנסה) $(CF > 0)$

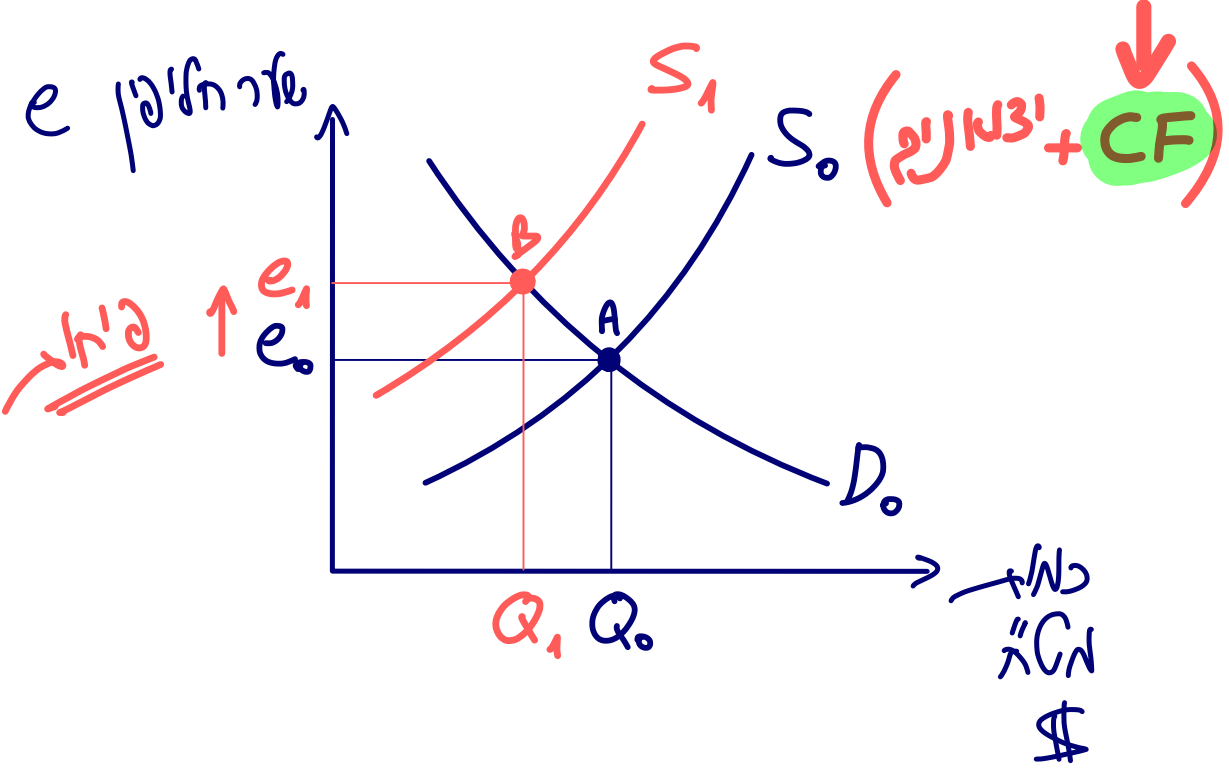


(4) התוצאה היא עלייה בצד.



(תוצרת הנספה \uparrow צריכה \uparrow וקמ"ק \uparrow $D_{\$}$)

(5) הכיבוד העולמי \rightarrow $(\uparrow r^*)$



הנכסה ↑ צריכה ↑ ידעו ↑

23/9/20

שאלה 4

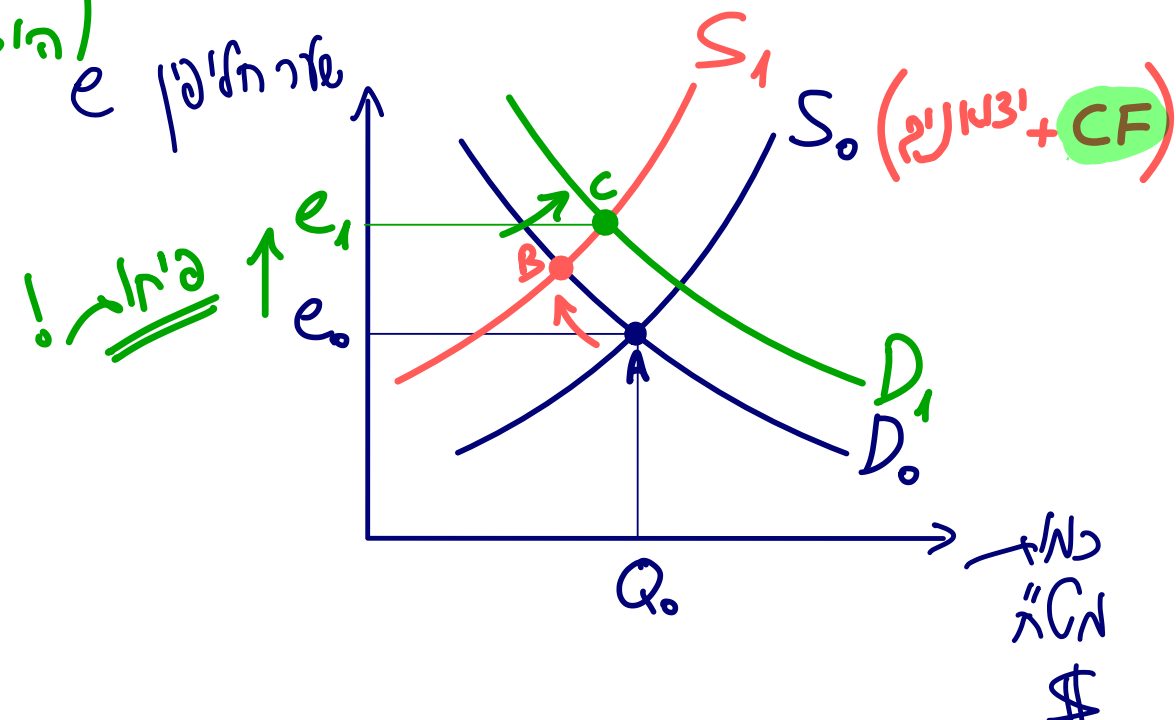
התייחסו לשיווי משקל חלקי בשוק המט"ח. הניחו כי במקביל הריבית העולמית עלתה והתוצר עלה.

כתוצאה משתי התרחשויות אלה:

- א. יהיה ייסוף בערך המטבע המקומי ועודף היבוא יגדל.
- ב. לא ניתן לקבוע מה יקרה לשער החליפין ועודף היבוא יקטן.
- ג. לא ניתן לקבוע מה יקרה לשער החליפין ועודף היבוא יגדל.
- ד. יהיה פיחות בערך המטבע המקומי ועודף היבוא יקטן.
- ה. כל התשובות לעיל אינן נכונות.

המשק החלקי
פחות סאטורציה
אלמנטים ואסן

↓ CF
(אסן אוקף)
(הולגו ↓)



24/2/20

שאלה 4

במשק התרחשו שני אירועים (בלבד) במקביל – הריבית העולמית עלתה והופחת מכס על מוצרים רבים המיובאים מחו"ל. בעקבות כך (נתחו במסגרת שיווי משקל חלקי בשוק מטי"ח):

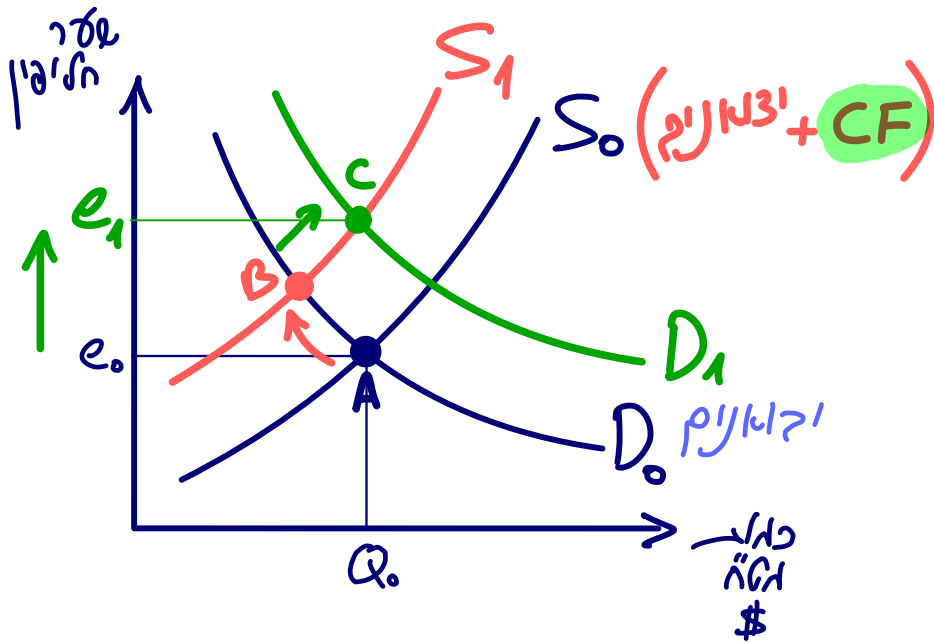
- א. יהיה ייסוף בשער המטבע המקומי.
- ב. עודף היבוא לא ישתנה.
- ג. היצוא יקטן.
- ד. יהיה פיחות בשער המטבע המקומי.
- ה. ייתכן ששער החליפין לא ישתנה.

המשק האקונומי
פאן סאטריקטיקי
רזולוציאם ואסן

פיאן
סאטריקטיקי
גדל פי טלו החליפין

↓ CF
אסן אוקט
(הילגלו ↓)

פיאן!



התייחסו לשיווי משקל חלקי בשוק המט"ח. הניחו כי שני אירועים התרחשו במקביל:

(1) כתוצאה ממצאות מאגרי גז גדולים במשק, המשק הפסיק לייבא נפט מחו"ל.

(2) הריבית העולמית ירדה.

כתוצאה משני אירועים אלה:

- א. יהיה פיחות בשער המטבע המקומי.
- ב. ייתכן ששער החליפין לא ישתנה.
- ג. היצוא יגדל.
- ד. יהיה ייסוף בשער המטבע המקומי.
- ה. כל התשובות לעיל אינן נכונות.

היזאן ↓
 אילאן ↓
 D ↓

המשק האקאלי
 יוגר אאלקאלי
 אולקאלי אילאן אילאן CF ↑
 אילאן אילאן (אילאן אילאן)
 אילאן אילאן

קאן ט אילאן אילאן ↓

