

תרגול - שוק מט"ח

מצורפות שאלות מבחינות בנושא שוק מט"ח עם פתרון מלא ומפורט.

חשוב בכל שאלה: תחילה לקרוא את השאלה, לנסות ולפתור ורק לאחר שניסיתם לבד, לעבור ולצפות בפתרון.

אם צדקתם, מצוין! עוברים לשאלה הבאה...

אם טעיתם... לא קרה כלום :) לצפות שוב בפתרון ולפתור את השאלה שוב!

רק לאחר שהצלחתם לפתור לבד לבד... לעבור לשאלה הבאה.

ההתחלה יותר איטית אבל מבטיח שזה ישתלם בהמשך.

מי שרק יצפה בפתרון ויעבור לשאלה הבאה לא יטמיע את החומר וכשיגיע שוב לשאלה דומה הוא שוב יתקל בקושי לפתור אותה.

24.2.2022

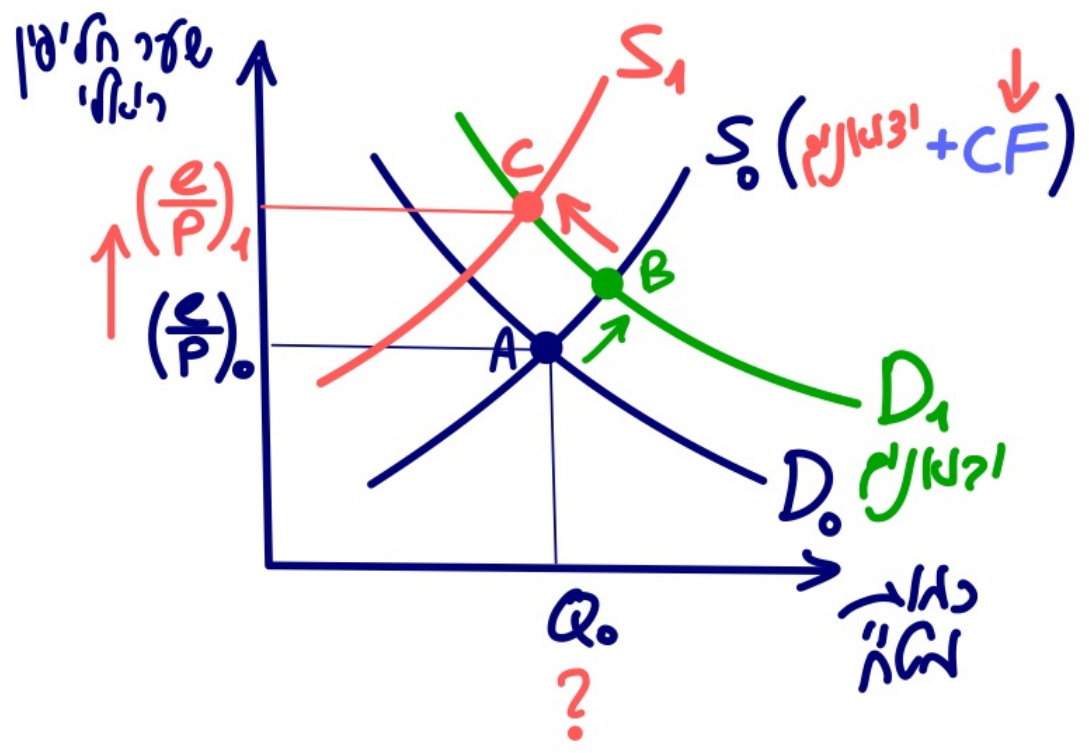
שאלה 5

במשק התרחשו שני אירועים (בלבד) במקביל – הממשלה הפחיתה מכסים על מוצרים רבים במשק, והריבית המקומית ירדה. בעקבות כך (נתחו במסגרת שיווי משקל חלקי בשוק מט"ח):

- א. יהיה ייסוף בשער המטבע המקומי.
- ב. עודף היבוא לא ישתנה.
- ג. יהיה פיחות בשער המטבע המקומי.
- ד. ייתכן ששער החליפין לא ישתנה.
- ה. כל התשובות לעיל אינן נכונות.

במשק התרחשו שני אירועים (בלבד) במקביל – הממשלה הפחיתה מכסים על מוצרים רבים במשק, והריבית המקומית ירדה. בעקבות כך (נתחו במסגרת שיווי משקל חלקי בשוק מט"ח):

- א. יהיה ייסוף בשער המטבע המקומי. ~~יהיה פיתול!~~ ✗
- ב. עודף היבוא לא ישתנה. $\downarrow CF$ ✗
- ג. יהיה פחות בשער המטבע המקומי. ✓
- ד. ייתכן ששער החליפין לא ישתנה. \uparrow ✗
- ה. כל התשובות לעיל אינן נכונות. ✗



\uparrow \downarrow \downarrow \downarrow \downarrow
 אפשר לומר
 והקישור המט"ח

 \downarrow \downarrow \downarrow \downarrow
 המט"ח

17.2.2022

שאלה 11

התייחסו לשיווי משקל חלקי בשוק המט"ח. הניחו כי במקביל עלתה הריבית העולמית, והממשלה הפחיתה מכסים על מוצרים מיובאים רבים. כתוצאה משתי התרחשויות אלה:

- א. יתכן שלא יהיה שינוי בשער החליפין.
- ב. יהיה פיחות בערך של המטבע המקומי.
- ג. יהיה ייסוף בערך של המטבע המקומי.
- ד. עודף היבוא לא ישתנה.
- ה. כל התשובות לעיל אינן נכונות.

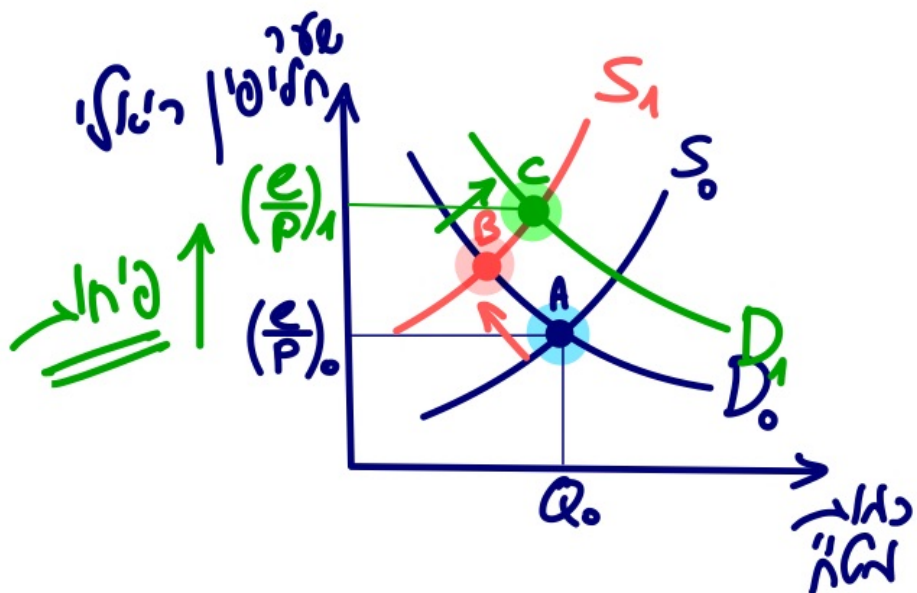
התייחסו לשיווי משקל חלקי בשוק המט"ח. הניחו כי במקביל עלתה הריבית העולמית, והממשלה

הפחיתה מכסים על מוצרים מיובאים רבים. כתוצאה משתי התרחשויות אלה:

- א. יתכן שלא יהיה שינוי בשער החליפין. ✗ ↑ ש"ח
- ב. יהיה פחות בערך של המטבע המקומי. ✓
- ג. יהיה ייסוף בערך של המטבע המקומי. ✗ יהיה פחות!
- ד. עודף היבוא לא ישתנה. ✗ ↓ CF ולכן אצף היבוא ↓
- ה. כל התשובות לעיל אינן נכונות.

(1) \uparrow ש"ח \uparrow לכן \downarrow CF \downarrow $S_{\#}$

(2) \downarrow מכס \downarrow לכן יבוא \uparrow $D_{\#}$



7.7.2022

שאלה 11

התייחסו לשיווי משקל חלקי בשוק המט"ח. הניחו כי במקביל חלו שני שינויים במשק :
(1) הריבית העולמית ירדה,
(2) במסגרת המלחמה ביוקר המחיה הממשלה הפחיתה מכסים על מוצרים מיובאים רבים.
כתוצאה משני שינויים אלה :

א. יתכן שלא יהיה שינוי בשער החליפין.

ב. יהיה פיחות בערך של המטבע המקומי.

ג. יהיה ייסוף בערך של המטבע המקומי.

ד. עודף היבוא לא ישתנה.

ה. כל התשובות לעיל **אינן** נכונות.

התייחסו לשיווי משקל חלקי בשוק המט"ח. הניחו כי במקביל חלו שני שינויים במשק:

(1) הריבית העולמית ירדה,

(2) במסגרת המלחמה ביוקר המחיה הממשלה הפחיתה מכסים על מוצרים מיובאים רבים.

כתוצאה משני שינויים אלה:

א. יתכן שלא יהיה שינוי בשער החליפין. ✓

ב. יהיה פיחות בערך של המטבע המקומי. ✗

ג. יהיה ייסוף בערך של המטבע המקומי. ✗

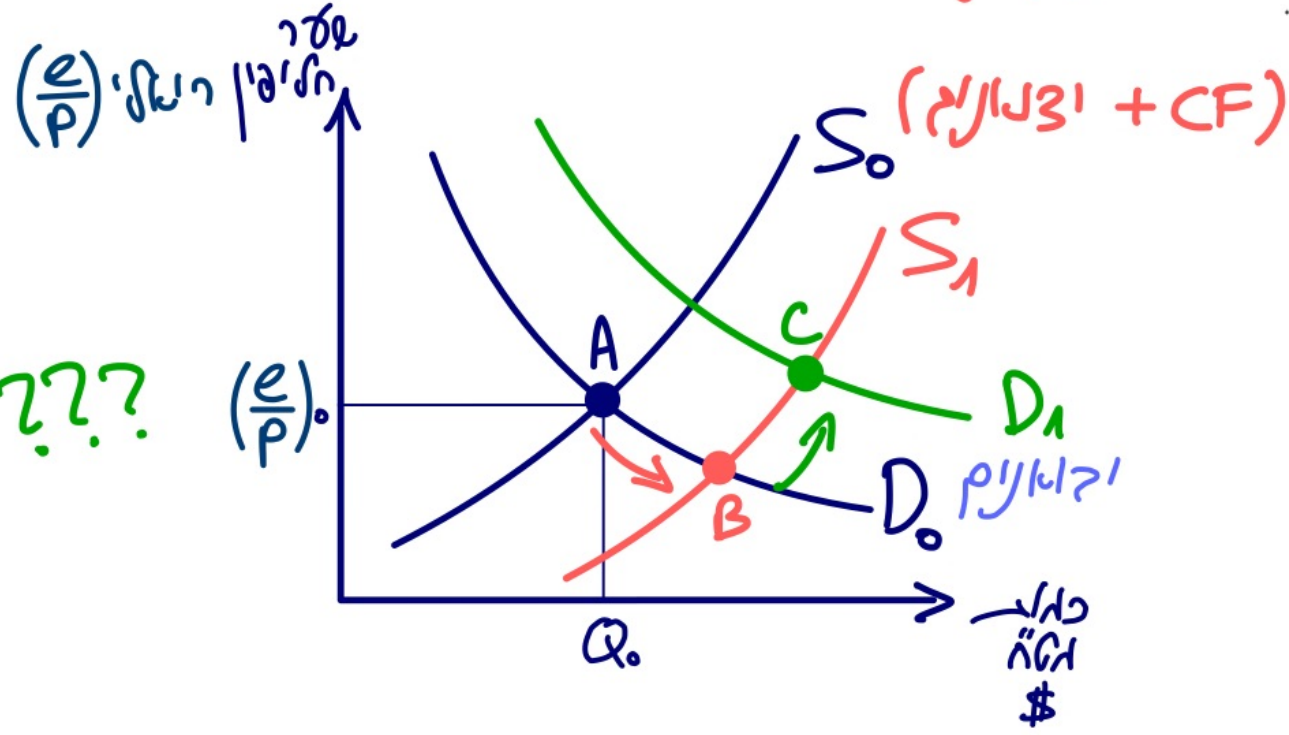
ד. עודף היבוא לא ישתנה. ✗

ה. כל התשובות לעיל אינן נכונות.

המשק יגרי טאט הקטאו לאסקוואג
S' יק אסקו

↑ C/F

↑ וקטאו ↑ אסקו הקטאו לאסקו



???

! ↑ C/F ני יסקה ✗

16.2.2023

שאלה 3

הניחו כי קרו בישראל שני אירועים (בלבד) במקביל, המשפיעים על שוק המט"ח:
(1) התוצר גדל. (2) הריבית העולמית עלתה.
כתוצאה מכך (נתחו במסגרת שיווי משקל חלקי בשוק מט"ח):

א. ייתכן ששער החליפין לא ישתנה.

ב. יהיה ייסוף בשער המטבע המקומי.

ג. יהיה פיחות בשער המטבע המקומי.

ד. עודף היבוא יגדל.

ה. כל התשובות לעיל אינן נכונות.

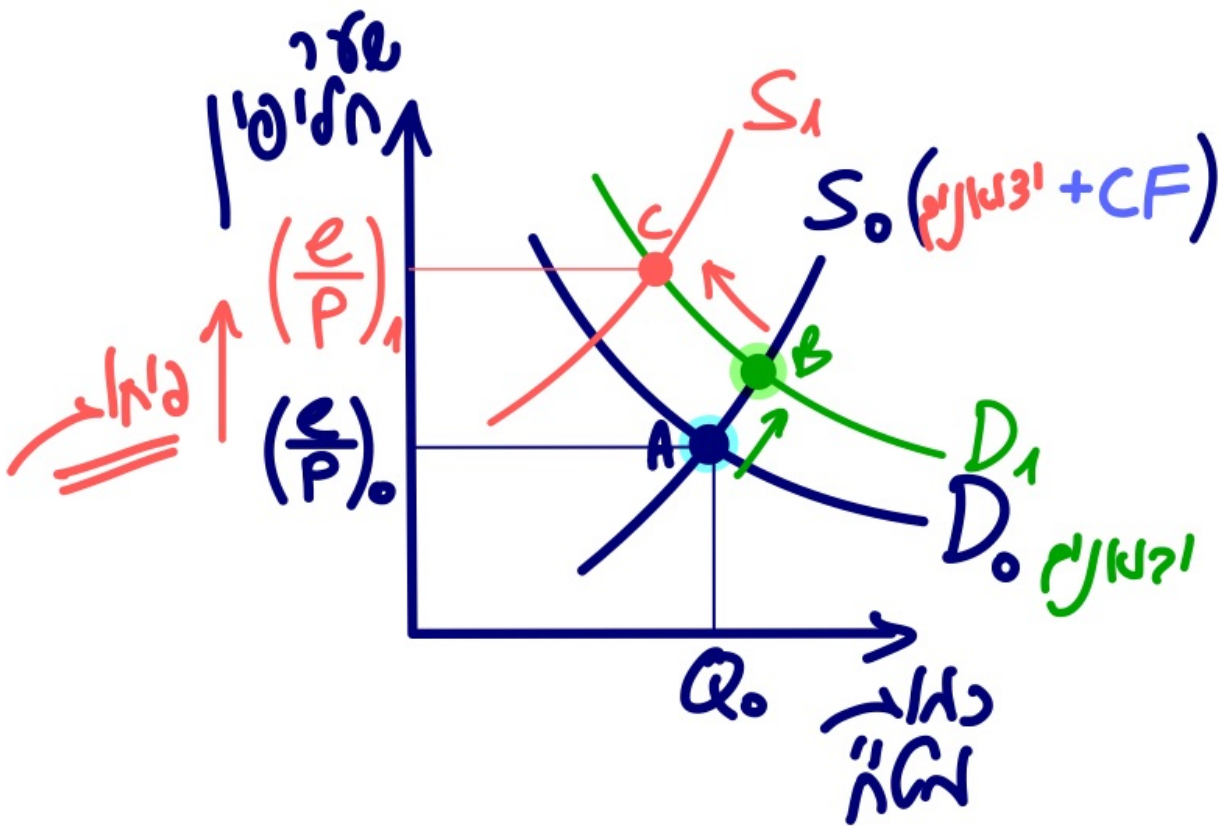
שאלה 3

הניחו כי קרו בישראל שני אירועים (בלבד) במקביל, המשפיעים על שוק המט"ח:

(1) התוצר גדל. (2) הריבית העולמית עלתה.

כתוצאה מכך (נתחו במסגרת שיווי משקל חלקי בשוק מט"ח):

- א. ייתכן ששער החליפין לא ישתנה. ~~X~~
- ב. יהיה ייסוף בשער המטבע המקומי. ~~X~~
- ג. יהיה פיחות בשער המטבע המקומי.
- ד. עודף היבוא יגדל. ~~X~~
- ה. כל התשובות לעיל אינן נכונות.



1) גלברת, הכנסה, צריכה ↑
 לכן יבוא ↑ ולכן הייצוא ירד.

2) $\uparrow r^*$ $\downarrow CF$ ולכן הייצוא ירד.

לכן עודף היבוא יגדל (השוואה ל CF).

8.9.2022

שאלה 3

התייחסו לשיווי משקל חלקי בשוק המט"ח. הניחו כי במקביל חלו שני שינויים במשק :

(1) הריבית העולמית עלתה.

(2) במסגרת המלחמה ביוקר המחיה הממשלה הפחיתה מכסים על מוצרים מיובאים רבים.

כתוצאה משני שינויים אלה :

א. יתכן שלא יהיה שינוי בשער החליפין.

ב. יהיה פיחות בערך של המטבע המקומי.

ג. יהיה ייסוף בערך של המטבע המקומי.

ד. עודף היבוא לא ישתנה.

ה. כל התשובות לעיל אינן נכונות.

שאלה 3

התייחסו לשיווי משקל חלקי בשוק המט"ח. הניחו כי במקביל חלו שני שינויים במשק:

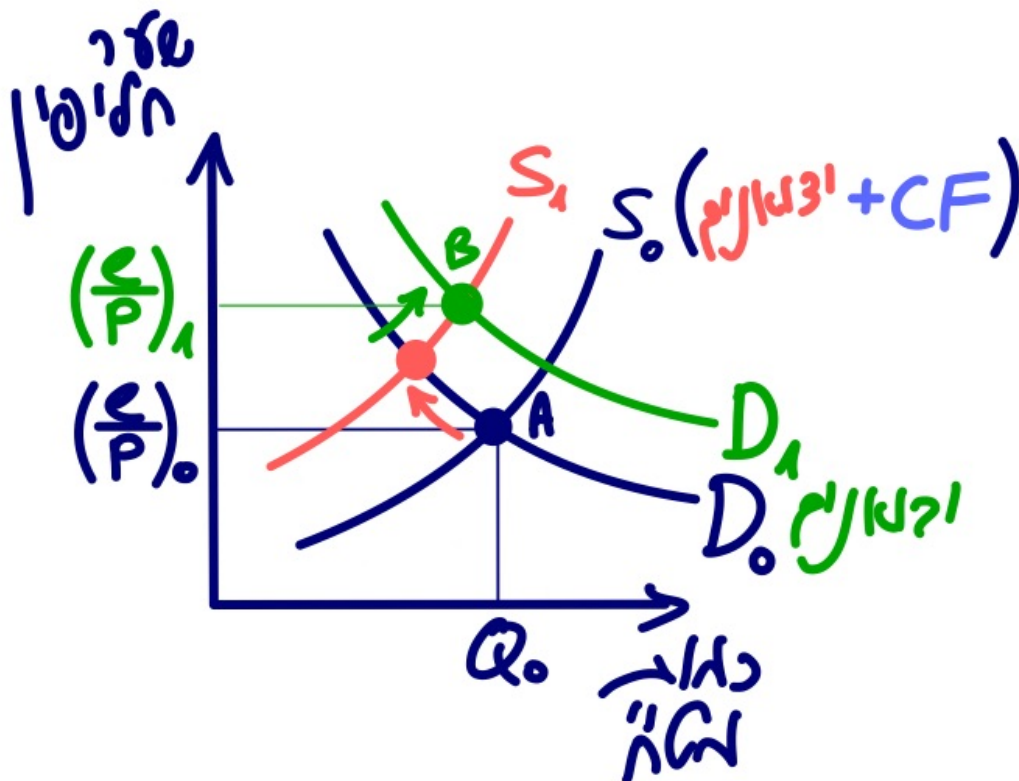
(1) הריבית העולמית עלתה.

(2) במסגרת המלחמה ביוקר המחיה הממשלה הפחיתה מכסים על מוצרים מיובאים רבים.

כתוצאה משני שינויים אלה:

- א. יתכן שלא יהיה שינוי בשער החליפין. ❌
- ב. יהיה פיחות בערך של המטבע המקומי. ✅
- ג. יהיה ייסוף בערך של המטבע המקומי. ❌
- ד. עודף היבוא לא ישתנה. ❌
- ה. כל התשובות לעיל אינן נכונות.

לכן ק' נכון!



$\downarrow S_{\#}$ ולכן $\downarrow CF$, $\uparrow D_{\#}$

$\uparrow D_{\#}$ ולכן \uparrow יבוא, \downarrow מכס

סה"כ שער החליפין \uparrow (פיחות)

$\downarrow CF$ ולכן \downarrow היבוא

17.11.2022

שאלה 3

התייחסו לשיווי משקל חלקי בשוק המט"ח. הניחו כי במקביל חלו שני שינויים במשק :

(1) הריבית המקומית עלתה.

(2) במסגרת המלחמה ביוקר המחיה הממשלה הפחיתה מכסים על מוצרים מיובאים רבים.

כתוצאה משני שינויים אלה :

א. יהיה פיחות בערך של המטבע המקומי.

ב. יהיה ייסוף בערך של המטבע המקומי.

ג. עודף היבוא לא ישתנה.

ד. יתכן שלא יהיה שינוי בשער החליפין.

ה. כל התשובות לעיל אינן נכונות.

שאלה 3

התייחסו לשיווי משקל חלקי בשוק המט"ח. הניחו כי במקביל חלו שני שינויים במשק:

(1) הריבית המקומית עלתה.

(2) במסגרת המלחמה ביוקר המחיה הממשלה הפחיתה מכסים על מוצרים מיובאים רבים.

כתוצאה משני שינויים אלה:

- א. יהיה פיחות בערך של המטבע המקומי.
- ב. יהיה ייסוף בערך של המטבע המקומי.
- ג. עודף היבוא לא ישתנה. אם $\uparrow CF$ אז \uparrow היבוא.
- ד. יתכן שלא יהיה שינוי בשער החליפין.
- ה. כל התשובות לעיל אינן נכונות.

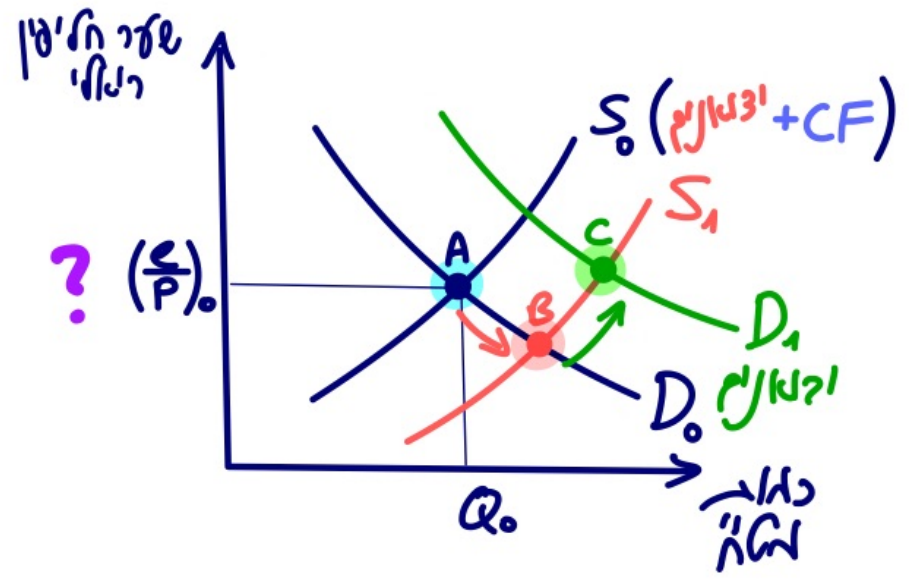
לא יזדע דה יקרה לשאר החליפין!
 אם $\uparrow CF$ אז \uparrow היבוא.

$\uparrow r$ $\uparrow CF$ \uparrow לכן היצע המט"ח גדל

לכנס \downarrow יבוא \uparrow לכן היקוש המט"ח גדל

לכן לא ניתן לזעזע דה יקרה לשאר!

ההיצע גדל זורם לשאר \downarrow \uparrow לשאר?
 הדיקוש גדל זורם לשאר \uparrow \uparrow לשאר?



25.8.2022

שאלה 3

במשק התרחשו שני אירועים (בלבד) במקביל – הריבית המקומית עלתה והתוצר ירד.
כתוצאה מכך (נתחו במסגרת שיווי משקל חלקי בשוק מט"ח):

- א. יהיה ייסוף בשער המטבע המקומי.
- ב. עודף היבוא יקטן.
- ג. לא ניתן לקבוע מה יקרה ליצוא.
- ד. יהיה פיחות בשער המטבע המקומי.
- ה. יתכן ששער החליפין לא ישתנה.

שאלה 3

במשק התרחשו שני אירועים (בלבד) במקביל – הריבית המקומית עלתה והתוצר ירד.

כתוצאה מכך (נתחו במסגרת שיווי משקל חלקי בשוק מט"ח):

א. יהיה ייסוף בשער המטבע המקומי.

ב. עודף היבוא יקטן **א גרוע!**

ג. לא ניתן לקבוע מה יקרה ליצוא.

ד. יהיה פיחות בשער המטבע המקומי.

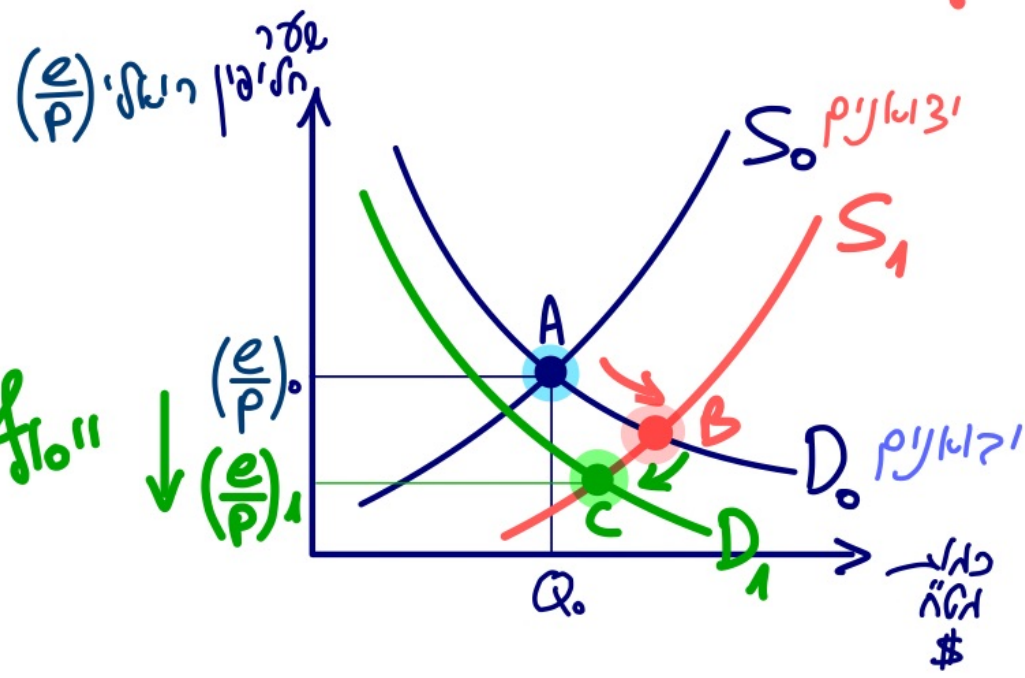
ה. יתכן ששער החליפין לא ישתנה.

א ירעה!



הכנסה ↓
 צריכה ↓
 זכיון וקנין ↓
 ואכילת הזיון
 חלטה ↓

המשק יאגר סאטורציה
 ואכן TCF ואכן
 היצר האטה גרוע.



זכיון / זכיון
 זכיון / זכיון

אכן סא נכון!

7.4.2022

שאלה 11

התנייחו לשיווי משקל חלקי בשוק המט"ח. הניחו כי במקביל עלתה הריבית העולמית, והממשלה העלתה מכסים על מוצרים מיובאים רבים. כתוצאה משתי התרחשויות אלה:

- א. יתכן שלא יהיה שינוי בשער החליפין.
- ב. יהיה פיחות בערך של המטבע המקומי.
- ג. יהיה ייסוף בערך של המטבע המקומי.
- ד. עודף היבוא לא ישתנה.
- ה. כל התשובות לעיל אינן נכונות.

התייחסו לשיווי משקל חלקי בשוק המטי"ח. הניחו כי במקביל עלתה הריבית העולמית, והממשלה העלתה מכסים על מוצרים מיובאים רבים. כתוצאה משתי התרחשויות אלה:

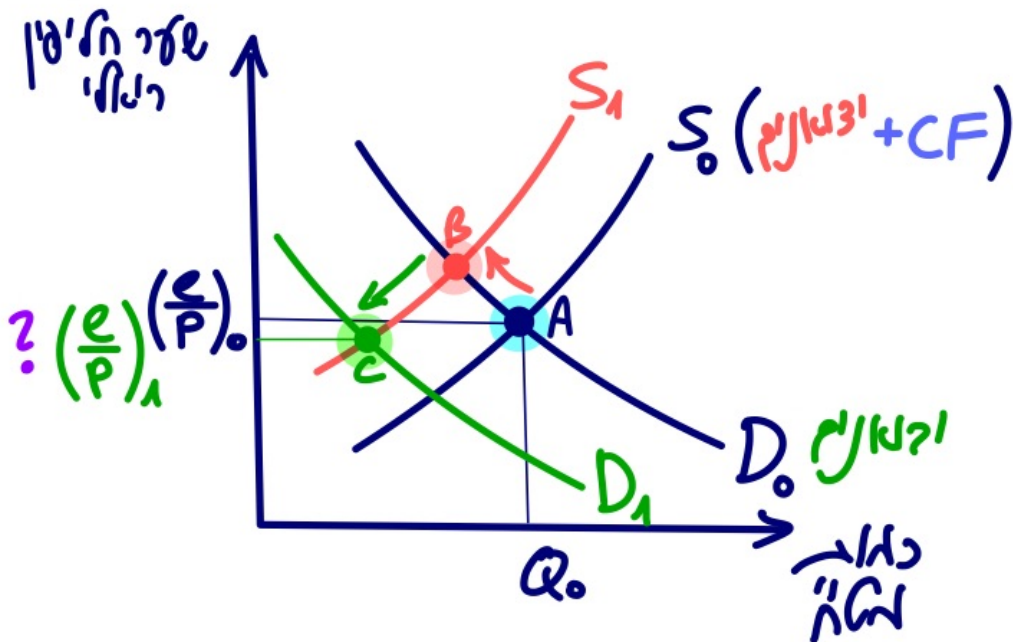
- א. יתכן שלא יהיה שינוי בשער החליפין. ✓
- ב. יהיה פיחות בערך של המטבע המקומי. ✗
- ג. יהיה ייסוף בערך של המטבע המקומי. ✗
- ד. עודף היבוא לא ישתנה. $\downarrow CF$ ולכן עוצף היבוא (השאלה $\downarrow CF$) ✗
- ה. כל התשובות לעיל אינן נכונות. ✗

לא יבוא לה יקרה לשני החליפין!
 $\downarrow CF$ ולכן עוצף היבוא (השאלה $\downarrow CF$)

(1) $\uparrow r^*_{ח}$ $\downarrow CF$ ולכן היבוא "הוא" \downarrow .

(2) מכס \uparrow ולכן יבוא \downarrow והיקום לאט"ה
 לא צד היבוא יק \downarrow .

אכן לא ניתן לצדג מה יקרה
 לשני החליפין!



1.11.2020

שאלה 4

במשק התרחשו שני אירועים (בלבד) במקביל – הריבית העולמית ירדה והועלו מכסים על מוצרים רבים. בעקבות כך (נתחו במסגרת שיווי משקל חלקי בשוק מט"ח):

- א. יהיה ייסוף בשער המטבע המקומי.
- ב. עודף היבוא יקטן.
- ג. היצוא יגדל.
- ד. יהיה פיחות בשער המטבע המקומי.
- ה. ייתכן ששער החליפין לא ישתנה.

שאלה 4

במשק התרחשו שני אירועים (בלבד) במקביל – הריבית העולמית ירדה והועלו מכסים על מוצרים רבים. בעקבות כך (נתחו במסגרת שיווי משקל חלקי בשוק מט"ח):

א. יהיה ייסוף בשער המטבע המקומי. ✓

ב. עודף היבוא יקטן. ✗

ג. היצוא יגדל. ✗ יקטן סין שלר האיטלין ↓

ד. יהיה פיחות בשער המטבע המקומי. ✗ "1010" ↓

ה. ייתכן ששער החליפין לא ישתנה. ✗ שלר האיטלין ↓

* חי"א"ר ↓ CF ↑ הוצר האט"ה ↑

לכס ↑ יבוא ↓ הינאשלאט"ה ↓

