

© Министерство образования Республики Беларусь
Учреждение образования «Республиканский институт контроля знаний»

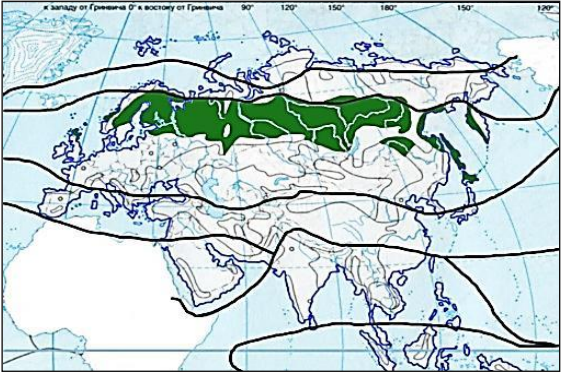
ДРТ–2020

Тематическое консультирование по географии

Раздел программы вступительных испытаний. Элемент содержания	Содержание задания. Ответ	Комментарий	Учебное издание
<p>Начальный курс географии. Мировое хозяйство и глобальные проблемы человечества.</p> <p>Стороны горизонта. Определение направлений</p>	<p>A1. Город Витебск относительно города Минска расположен по направлению на:</p> <ol style="list-style-type: none"> 1) юго-запад; 2) северо-запад; 3) северо-восток; 4) запад; 5) юго-восток. <p>Ответ: 3</p> 	<p>Город Витебск относительно города Минска расположен по направлению на <i>северо-восток</i> (3)</p>	<p>География. Физическая география : учеб. пособие для 6-го кл. учреждений общ. сред. образования с рус. яз. обучения / Е. Г. Кольмакова, В. В. Пикулик ; под ред. Е. Г. Кольмаковой. – Минск : Народная асвета, 2016. – § 1</p>
<p>Начальный курс географии. Мировое хозяйство и глобальные проблемы человечества.</p> <p>Виды географических карт по масштабу</p>	<p>A2. Топографическая карта масштаба 1 : 10 000 является:</p> <ol style="list-style-type: none"> 1) общегеографической крупномасштабной; 2) общегеографической мелкомасштабной; 3) общегеографической среднемасштабной; 4) тематической среднемасштабной; 5) тематической крупномасштабной. <p>Ответ: 1</p>	<p>По масштабу карты делят на три группы: крупномасштабные (масштаб от 1 : 10 000 до 1 : 200 000 включительно), среднемасштабные (масштаб от 1 : 200 000 до 1 : 1 000 000 включительно) и мелкомасштабные (мельче 1 : 1 000 000).</p> <p><i>Топографическая карта масштаба 1 : 10 000 является общегеографической крупномасштабной</i> (1)</p>	<p>География. Физическая география : учеб. пособие для 6-го кл. учреждений общ. сред. образования с рус. яз. обучения / Е. Г. Кольмакова, В. В. Пикулик ; под ред. Е. Г. Кольмаковой. – Минск : Народная асвета, 2016. – § 7</p>

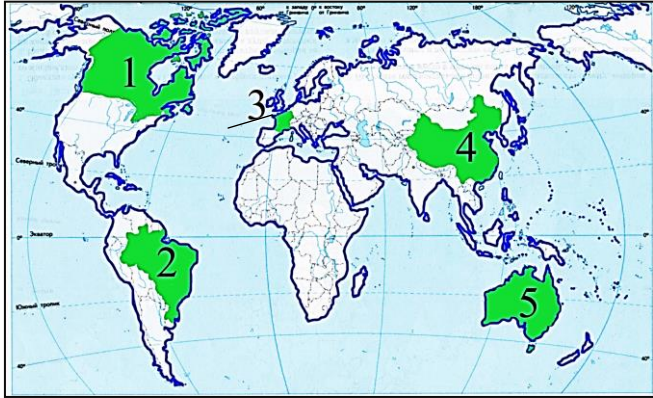
Раздел программы вступительных испытаний. Элемент содержания	Содержание задания. Ответ	Комментарий	Учебное издание										
<p>Начальный курс географии. Мировое хозяйство и глобальные проблемы человечества.</p> <p>Рельеф дна Мирового океана</p>	<p>A3. На рисунке стрелкой отмечено(-а; -ен): 1) ложе океана; 2) островная дуга; 3) глубоководный желоб; 4) материковая отмель (шельф); 5) срединно-океанический хребет.</p>  <p>Ответ: 4</p>	<p>1. Ложе океана – форма рельефа океанического дна, располагающаяся на глубинах от 4000 до 6000 м и занимающая большую часть Мирового океана.</p> <p>2. Островная дуга – линейно-вытянутое поднятие океанического дна с цепочкой островов вулканического происхождения.</p> <p>3. Глубоководный желоб – длинная узкая впадина океанического дна глубиной более 6000 м.</p> <p>4. Материковая отмель (шельф) – прилегающая к материку мелководная часть океанического дна.</p> <p>5. Срединно-океанический хребет – гигантское протяженное валообразное поднятие океанического дна</p>	<p>География. Физическая география : учеб. пособие для 6-го кл. учреждений общ. сред. образования с рус. яз. обучения / Е. Г. Кольмакова, В. В. Пикулик ; под ред. Е. Г. Кольмаковой. – Минск : Народная асвета, 2016. – § 13</p>										
<p>Начальный курс географии. Мировое хозяйство и глобальные проблемы человечества.</p> <p>Температура воздуха и ее измерение</p>	<p>A4. Используя данные таблицы наблюдений за погодой, укажите среднюю суточную температуру воздуха (°C): 1) 9; 2) 16; 3) 4; 4) 12; 5) 8.</p> <table border="1" data-bbox="376 1086 1019 1185"> <thead> <tr> <th>Время наблюдения</th> <th>6.00</th> <th>12.00</th> <th>18.00</th> <th>24.00</th> </tr> </thead> <tbody> <tr> <td>t °C</td> <td>-1</td> <td>+6</td> <td>+8</td> <td>+3</td> </tr> </tbody> </table> <p>Ответ: 3</p>	Время наблюдения	6.00	12.00	18.00	24.00	t °C	-1	+6	+8	+3	<p>Средняя температура воздуха – среднее арифметическое значение температур воздуха за определенный период (в данном примере – за сутки). Средняя суточная температура воздуха в данном примере равна 4°C (3)</p>	<p>География. Физическая география : учеб. пособие для 6-го кл. учреждений общ. сред. образования с рус. яз. обучения / Е. Г. Кольмакова, В. В. Пикулик ; под ред. Е. Г. Кольмаковой. – Минск : Народная асвета, 2016. – § 15</p>
Время наблюдения	6.00	12.00	18.00	24.00									
t °C	-1	+6	+8	+3									

Раздел программы вступительных испытаний. Элемент содержания	Содержание задания. Ответ	Комментарий	Учебное издание
<p>Начальный курс географии.</p> <p>Мировое хозяйство и глобальные проблемы человечества.</p> <p>Мировой океан и его части</p>	<p>A5. На картосхеме отмечен пролив:</p> <ol style="list-style-type: none"> 1) Дрейка; 2) Торресов; 3) Магелланов; 4) Берингов; 5) Малаккский. <p>Ответ: 2</p> 	<p>Рассмотрите карты атласа и найдите указанные в задании географические объекты. На карте отмечен <i>Торресов пролив (2)</i></p>	<p>Атлас. География. Материки и океаны : учеб. пособие для 7 класса учреждений общ. сред. образования с рус. яз. обучения / Е. Г. Кольмакова, П. С. Лопух, О. В. Сарычева. – Минск : РУП «Белкартография», 2017. – С. 10–11, 50</p>

Раздел программы вступительных испытаний. Элемент содержания	Содержание задания. Ответ	Комментарий	Учебное издание
<p>География материков и стран.</p> <p>Природные зоны Земли. Почвы</p>	<p>А6. Укажите тип почв, которые относятся к числу зональных в природной зоне, отмеченной на карте Евразии цветом:</p> <ol style="list-style-type: none"> 1) каштановые; 2) почвы сероземы; 3) подзолистые; 4) коричневые; 5) красно-желтые ферраллитные.  <p>Ответ: 3</p>	<p>На карте выделена природная зона хвойных лесов (тайги), для которой зональными являются <i>подзолистые почвы</i> (3).</p> <p>К числу зональных относятся: каштановые почвы (1) – в природной зоне степей, почвы сероземы (2) – в природной зоне полупустынь и пустынь; коричневые (4) – в природной зоне вечнозеленых жестколистных лесов и кустарников, красно-желтые ферраллитные (5) – в природной зоне влажных экваториальных лесов</p>	<p>География. Материки и океаны : учеб. пособие для 7-го кл. учреждений общ. сред. образования с рус. яз. обучения / Е. Г. Кольмакова, П. С. Лопух, О. В. Сарычева. – Минск : Адукацыя і выхаванне, 2017. – § 5;</p> <p>Атлас. География. Материки и океаны : учеб. пособие для 7 класса учреждений общ. сред. образования с рус. яз. обучения / Е. Г. Кольмакова, П. С. Лопух, О. В. Сарычева. – Минск : РУП «Белкартография», 2017. – С. 24–25</p>

Раздел программы вступительных испытаний. Элемент содержания	Содержание задания. Ответ	Комментарий	Учебное издание
<p>Начальный курс географии. Мировое хозяйство и глобальные проблемы человечества.</p> <p>Типология стран по форме правления</p>	<p>A7. Федеративным по форме политико-территориального устройства является государство:</p> <ol style="list-style-type: none"> 1) ЮАР; 2) Кыргызстан; 3) Франция; 4) Беларусь; 5) Мексика. <p>Ответ: 5</p>	<p>Из перечисленных государств федеративную форму правления имеет <i>Мексика</i> (5). ЮАР, Кыргызстан, Франция, Беларусь – унитарные государства</p>	<p>География. Страны и народы : учеб. пособие для 8-го кл. учреждений общ. сред. образования с рус. яз. обучения / П. С. Лопух, Н. Л. Стреха, О. В. Сарычева, А. Г. Шандроха. – Минск : Адукацыя і выхаванне, 2019. – § 46</p>
<p>Начальный курс географии. Мировое хозяйство и глобальные проблемы человечества.</p> <p>Современная политическая карта мира</p>	<p>A8. На карте цветом выделено государство:</p> <ol style="list-style-type: none"> 1) Таджикистан; 2) Туркменистан; 3) Азербайджан; 4) Армения; 5) Казахстан. <div data-bbox="427 863 976 1283" data-label="Image"> </div> <p>Ответ: 1</p>	<p>Найдите на карте атласа указанные в задании государства. В задании цветом на карте отмечено государство <i>Таджикистан</i> (1)</p>	<p>Атлас. География. Страны и народы : учеб. пособие для 8 класса учреждений общ. сред. образования с рус. яз. обучения / Г. З. Озем, Л. В. Фокеева, Л. В. Шкель. – Минск : РУП «Белкартография», 2019. – С. 8–9</p>


Раздел программы вступительных испытаний. Элемент содержания	Содержание задания. Ответ	Комментарий	Учебное издание
<p>Начальный курс географии. Мировое хозяйство и глобальные проблемы человечества.</p> <p>География населения мира</p>	<p>A9. В характеристике населения мира ВЕРНЫМ является утверждение:</p> <p>1) для стран с низким уровнем экономического развития характерны низкие темпы урбанизации; 2) большая часть населения Земли проживает в Европе; 3) представители монголоидной расы распространены преимущественно в Африке и Австралии; 4) сельское население численно преобладает над городским; 5) среди мировых религий по числу верующих лидирует христианство.</p> <p>Ответ: 5</p>	<p>1. Для стран с низким уровнем экономического развития характерны высокие темпы урбанизации. 2. Большая часть населения Земли проживает в Азии (около 60 %). 3. Представители монголоидной расы распространены на территориях с суровым континентальным климатом, в основном в странах Центральной и Юго-Восточной Азии, в Америке. 4. Доля городского населения постоянно увеличивается и в настоящее время составляет 54 %. 5. Среди мировых религий по числу верующих лидирует христианство</p>	<p>География. Страны и народы : учеб. пособие для 8-го кл. учреждений общ. сред. образования с рус. яз. обучения / П. С. Лопух, Н. Л. Стреха, О. В. Сарычева, А. Г. Шандроха. – Минск : Адукацыя і выхаванне, 2019. – § 7</p>

Раздел программы вступительных испытаний. Элемент содержания	Содержание задания. Ответ	Комментарий	Учебное издание
<p>Начальный курс географии. Мировое хозяйство и глобальные проблемы человечества.</p> <p>Международное географическое разделение труда. Мировое сельское хозяйство</p>	<p>A10. Государство, которое входит в тройку мировых лидеров по объемам валового сбора пшеницы, на карте отмечено цифрой: 1) 1; 2) 2; 3) 3; 4) 4; 5) 5.</p>  <p>Ответ: 4</p>	<p><i>Китай</i> (4) является мировым лидером по валовым сборам пшеницы</p>	<p>География. Мировое хозяйство и глобальные проблемы человечества : учеб. пособие для 11-го кл. учреждений общ. сред. образования с рус. яз. обучения / А. Н. Витченко [и др.]. – Минск : Адукацыя і выхаванне, 2016. – § 7</p>
<p>Начальный курс географии. Мировое хозяйство и глобальные проблемы человечества.</p> <p>Интернационализация и транснационализация мирового хозяйства</p>	<p>A11. Процесс перенесения части производств из одной страны в другую посредством капитала более развитых стран с целью организации филиалов и установления контроля над зарубежными компаниями, – это: 1) международная торговля; 2) транснационализация; 3) научно-техническая революция (НТР); 4) финансовая деятельность; 5) специализация.</p> <p>Ответ: 2</p>	<p>Процесс перенесения части производств из одной страны в другую посредством капитала более развитых стран с целью организации филиалов и установления контроля над зарубежными компаниями, – это <i>транснационализация</i> (2)</p>	<p>География. Мировое хозяйство и глобальные проблемы человечества : учеб. пособие для 11-го кл. учреждений общ. сред. образования с рус. яз. обучения / А. Н. Витченко [и др.]. – Минск : Адукацыя і выхаванне, 2016. – § 3</p>

Раздел программы вступительных испытаний. Элемент содержания	Содержание задания. Ответ	Комментарий	Учебное издание
<p>Начальный курс географии. Мировое хозяйство и глобальные проблемы человечества.</p> <p>География сельского хозяйства мира</p>	<p>A12. В характеристике мирового сельского хозяйства ВЕРНЫМ является утверждение:</p> <p>1) в странах с низким уровнем экономического развития удельный вес сельского хозяйства в структуре ВВП низкий;</p> <p>2) большая часть валовой продукции мирового сельского хозяйства приходится на растениеводство;</p> <p>3) среди зерновых культур по валовым сборам лидирует рис;</p> <p>4) молочное скотоводство получило распространение в лесной и лесостепной зонах умеренного пояса;</p> <p>5) в тройку мировых лидеров по поголовью свиней входят страны Европы.</p> <p>Ответ: 4</p>	<p>1. Чем ниже уровень экономического развития страны, тем выше удельный вес сельского хозяйства в структуре занятости населения и в ВВП страны.</p> <p>2. Около 60 % валовой продукции мирового сельского хозяйства приходится на животноводство.</p> <p>3. Среди зерновых культур по валовым сборам лидирует кукуруза.</p> <p>4. <i>Молочное скотоводство получило распространение в лесной и лесостепной зонах умеренного пояса.</i></p> <p>5. В тройку мировых лидеров по поголовью свиней входят Китай, США, Бразилия</p>	<p>География. Мировое хозяйство и глобальные проблемы человечества : учеб. пособие для 11-го кл. учреждений общ. сред. образования с рус. яз. обучения / А. Н. Витченко [и др.]. – Минск : Адукацыя і выхаванне, 2016. – § 7</p>

Раздел программы вступительных испытаний. Элемент содержания	Содержание задания. Ответ	Комментарий	Учебное издание
<p>Начальный курс географии. Мировое хозяйство и глобальные проблемы человечества.</p> <p>География промышленности</p>	<p>A13. В характеристике промышленности мира ВЕРНЫМ является утверждение:</p> <p>1) в структуре потребления первичных энергоносителей наибольшая доля принадлежит нефти;</p> <p>2) среди регионов наибольшими объемами производства стали выделяется Африка;</p> <p>3) в структуре цветной металлургии по объемам производства ведущее место принадлежит медной промышленности;</p> <p>4) в общем объеме производства автомобилей наибольшую долю составляют грузовые автомобили;</p> <p>5) среди натуральных тканей ведущее место по объемам производства принадлежит шелковым тканям.</p> <p>Ответ: 1</p>	<p><i>1. В структуре потребления первичных энергоносителей наибольшая доля (41 %) принадлежит нефти (доля угля – 25 %, природного газа – 20 %).</i></p> <p>2. Среди регионов наибольшими объемами производства стали выделяется Азия (более 67 %).</p> <p>3. В структуре цветной металлургии по объемам производства ведущее место принадлежит алюминиевой промышленности.</p> <p>4. В общем объеме производства автомобилей наибольшую долю (75 %) составляют легковые автомобили.</p> <p>5. Из натуральных тканей ведущее место по объемам производства принадлежит хлопчатобумажным тканям</p>	<p>География. Страны и народы : учеб. пособие для 8-го кл. учреждений общ. сред. образования с рус. яз. обучения / П. С. Лопух, Н. Л. Стреха, О. В. Сарычева, А. Г. Шандроха. – Минск : Адукацыя і выхаванне, 2019. – § 9</p>

Раздел программы вступительных испытаний. Элемент содержания	Содержание задания. Ответ	Комментарий	Учебное издание
<p>Начальный курс географии. Мировое хозяйство и глобальные проблемы человечества. География мировой сферы услуг</p>	<p>A14. В характеристике мировой сферы услуг ВЕРНЫМ является утверждение: 1) доля сферы услуг в структуре валового продукта развитых и развивающихся стран примерно одинакова; 2) в структуре грузооборота ведущее место принадлежит воздушному транспорту; 3) самым динамичным регионом, отличающимся ростом грузо- и пассажирооборота на железнодорожном транспорте, является Азия; 4) крупнейший морской порт по грузообороту – Владивосток; 5) Япония входит в первую тройку стран по количеству туристских прибытий.</p> <p>Ответ: 3</p>	<p>1. Доля сферы услуг в структуре валового продукта в развитых странах составляет 75 %, в развивающихся – 50 %. 2. В структуре грузооборота ведущее место принадлежит водному транспорту, на долю которого приходится 62 % грузоперевозок. <i>3. Самым динамичным регионом, отличающимся ростом грузо- и пассажирооборота на железнодорожном транспорте, является Азия.</i> 4. Крупнейшие морские порты по грузообороту – Шанхай, Сингапур, Тяньцзинь. 5. В первую тройку стран по количеству туристских прибытий входят Франция, США, Испания</p>	<p>География. Мировое хозяйство и глобальные проблемы человечества : учеб. пособие для 11-го кл. учреждений общ. сред. образования с рус. яз. обучения / А. Н. Витченко [и др.]. – Минск : Адукацыя і выхаванне, 2016. – § 14</p>

Раздел программы вступительных испытаний. Элемент содержания	Содержание задания. Ответ	Комментарий	Учебное издание
<p>География материков и стран.</p> <p>Африка. Климат. Почвы. Растительный и животный мир</p>	<p>A15. В характеристике природной зоны Африки, выделенной на карте цветом, ОШИБОЧНЫМ является утверждение:</p> <p>1) занимает бассейн реки Конго и побережье Гвинейского залива;</p> <p>2) выпадает более 2000 мм осадков в год;</p> <p>3) формируются красные и красно-бурые почвы;</p> <p>4) произрастают многоярусные леса с обилием лиан и эпифитов;</p> <p>5) обитают мартишки, шимпанзе, гориллы.</p> <p>Ответ: 3</p> 	<p>На карте Африки выделена природная зона влажных экваториальных лесов, в характеристике которой ошибочным является утверждение под номером 3 – <i>формируются красные и красно-бурые почвы.</i></p> <p>Влажные экваториальные леса растут на красно-желтых ферраллитных почвах</p>	<p>География. Материки и океаны : учеб. пособие для 7-го кл. учреждений общ. сред. образования с рус. яз. обучения / Е. Г. Кольмакова, П. С. Лопух, О. В. Сарычева. – Минск : Адукацыя і выхаванне, 2017. – § 12</p>

Раздел программы вступительных испытаний. Элемент содержания	Содержание задания. Ответ	Комментарий	Учебное издание
<p>География материков и стран.</p> <p>Характеристика населения и хозяйства ЮАР</p>	<p>A16. В характеристике Южно-Африканской Республики (ЮАР) ВЕРНЫМ является утверждение:</p> <p>1) по площади территории является самым крупным государством континента;</p> <p>2) расположена в умеренном климатическом поясе;</p> <p>3) по численности сельское население преобладает над городским;</p> <p>4) основу энергетики составляет угольная промышленность;</p> <p>5) в структуре сельского хозяйства ведущая роль принадлежит растениеводству.</p> <p>Ответ: 4</p>	<p>1. ЮАР по площади территории среди стран континента занимает 9-е место.</p> <p>2. Страна расположена в субтропическом и тропическом климатических поясах.</p> <p>3. Доля городского населения составляет 65 %.</p> <p>4. <i>Основу энергетики составляет угольная промышленность.</i></p> <p>5. Ведущая роль в сельском хозяйстве принадлежит животноводству</p>	<p>География. Страны и народы : учеб. пособие для 8-го кл. учреждений общ. сред. образования с рус. яз. обучения / П. С. Лопух, Н. Л. Стреха, О. В. Сарычева, А. Г. Шандроха. – Минск : Адукацыя і выхаванне, 2019. – § 55</p>
<p>География материков и стран.</p> <p>Физико-географическая характеристика Австралии</p>	<p>A17. В характеристике природы Австралии ОШИБОЧНЫМ является утверждение:</p> <p>1) среди материков выделяется наибольшей средней абсолютной высотой рельефа;</p> <p>2) на востоке к платформе примыкает складчатый пояс;</p> <p>3) имеются большие запасы руд черных и цветных металлов;</p> <p>4) бóльшая часть материка относится к области внутреннего стока;</p> <p>5) центральные части материка (в тропическом и субтропическом географических поясах) занимают пустыни и полупустыни.</p> <p>Ответ: 1</p>	<p>В характеристике природы Австралии ошибочным является утверждение под номером 1 – <i>среди материков выделяется наибольшей средней абсолютной высотой рельефа.</i></p> <p>Австралия – самый низкий континент (средняя абсолютная высота составляет 350 м)</p>	<p>География. Материки и океаны : учеб. пособие для 7-го кл. учреждений общ. сред. образования с рус. яз. обучения / Е. Г. Кольмакова, П. С. Лопух, О. В. Сарычева. – Минск : Адукацыя і выхаванне, 2017. – § 13</p>

Раздел программы вступительных испытаний. Элемент содержания	Содержание задания. Ответ	Комментарий	Учебное издание
<p>География материков и стран.</p> <p>Характеристика населения и хозяйства Австралийского Союза</p>	<p>A18. В характеристике социально-экономического развития Австралийского Союза ВЕРНЫМ является утверждение:</p> <p>1) столица является самым крупным городом страны;</p> <p>2) наибольшая доля населения имеет азиатское происхождение;</p> <p>3) в структуре ВВП наименьшая доля принадлежит сфере услуг;</p> <p>4) крупнейшие металлургические комбинаты расположены на юге и юго-западе страны;</p> <p>5) бóльшая часть посевных площадей занята под хлопчатник.</p> <p>Ответ: 4</p>	<p>1. Самый крупный город страны – Сидней.</p> <p>2. Около 90 % населения имеет европейское происхождение: это потомки выходцев из Англии и Ирландии.</p> <p>3. В структуре ВВП наименьшая доля (3 %) принадлежит сельскому хозяйству.</p> <p>4. <i>Крупнейшие металлургические комбинаты расположены на юге и юго-западе страны вблизи месторождений железной руды.</i></p> <p>5. Бóльшая часть (3/4) посевных площадей занята под пшеницу</p>	<p>География. Страны и народы : учеб. пособие для 8-го кл. учреждений общ. сред. образования с рус. яз. обучения / П. С. Лопух, Н. Л. Стреха, О. В. Сарычева, А. Г. Шандроха. – Минск : Адукацыя і выхаванне, 2019. – § 56</p>

Раздел программы вступительных испытаний. Элемент содержания	Содержание задания. Ответ	Комментарий	Учебное издание
<p>География материков и стран.</p> <p>Физико-географическая характеристика Антарктиды</p>	<p>A19. В характеристике природы Антарктиды ВЕРНЫМ является утверждение:</p> <p>1) материк образовался в результате распада древней Лавразии;</p> <p>2) наиболее близко среди материков к Антарктиде расположена Австралия;</p> <p>3) в основании Восточной Антарктиды лежит молодая платформа;</p> <p>4) над центральной частью материка формируется область постоянного низкого атмосферного давления;</p> <p>5) подледное озеро Восток является крупнейшим водоемом материка.</p> <p>Ответ: 5</p>	<p>1. Материк образовался в результате распада древней Гондваны.</p> <p>2. Ближе всех материков к Антарктиде находится Южная Америка (около 800 км).</p> <p>3. В основании Восточной Антарктиды лежит древняя Антарктическая платформа.</p> <p>4. Над материком формируется огромная область постоянного высокого атмосферного давления – Антарктический антициклон.</p> <p>5. <i>В Антарктиде под ледниковым щитом на глубине около 3700 м расположено крупнейшее подледное озеро Восток</i></p>	<p>География. Материки и океаны : учеб. пособие для 7-го кл. учреждений общ. сред. образования с рус. яз. обучения / Е. Г. Кольмакова, П. С. Лопух, О. В. Сарычева. – Минск : Адукацыя і выхаванне, 2017. – § 17</p>
<p>География материков и стран.</p> <p>Внутренние воды Южной Америки</p>	<p>A20. На карте Южной Америки выделена река:</p> <p>1) Амазонка;</p> <p>2) Парана;</p> <p>3) Оранжевая;</p> <p>4) Колорадо;</p> <p>5) Миссисипи.</p> <p>Ответ: 2</p> 	<p>Найдите на карте атласа указанные в задании реки. Из перечисленных рек в Южной Америке протекают Амазонка и Парана. На карте выделена река <i>Парана</i> (2)</p>	<p>Атлас. География. Материки и океаны : учеб. пособие для 7 класса учреждений общ. сред. образования с рус. яз. обучения / Е. Г. Кольмакова, П. С. Лопух, О. В. Сарычева. – Минск : РУП «Белкартография», 2017. – С. 10–11</p>

Раздел программы вступительных испытаний. Элемент содержания	Содержание задания. Ответ	Комментарий	Учебное издание
<p>География материков и стран.</p> <p>Население и хозяйство Бразилии</p>	<p>A21. В характеристике социально-экономического развития Бразилии ОШИБОЧНЫМ является утверждение:</p> <p>1) страна занимает около половины площади континента;</p> <p>2) государственным является португальский язык;</p> <p>3) крупнейшим месторождением бокситов является Тромбетас;</p> <p>4) бóльшая часть электроэнергии вырабатывается на ТЭС;</p> <p>5) Бразилия – традиционный производитель и экспортер кофе.</p> <p>Ответ: 4</p>	<p>В характеристике социально-экономического развития Бразилии ошибочным является утверждение под номером 4 – <i>бóльшая часть электроэнергии вырабатывается на ТЭС.</i></p> <p>В электроэнергетике Бразилии преобладают ГЭС, на долю которых приходится около 90 % всей вырабатываемой электроэнергии</p>	<p>География. Страны и народы : учеб. пособие для 8-го кл. учреждений общ. сред. образования с рус. яз. обучения / П. С. Лопух, Н. Л. Стреха, О. В. Сарычева, А. Г. Шандроха. – Минск : Адукацыя і выхаванне, 2019. – § 52</p>

Раздел программы вступительных испытаний. Элемент содержания	Содержание задания. Ответ	Комментарий	Учебное издание
<p>География материков и стран.</p> <p>Физико-географическая характеристика Северной Америки.</p> <p>Климат</p>	<p>A22. Предложенная климатограмма соответствует климату в пункте, отмеченном на карте Северной Америки точкой с цифрой:</p> <p>1) 1; 2) 2; 3) 3; 4) 4; 5) 5.</p> <div style="display: flex; justify-content: space-around; align-items: center;">   </div> <p>Ответ: 5</p>	<p>Предложенная климатограмма соответствует климату в пункте 5, который находится в пределах тропического климатического пояса, где формируется климат береговых пустынь с малым количеством осадков, жарким летом и теплой зимой</p>	<p>География. Материки и океаны : учеб. пособие для 7-го кл. учреждений общ. сред. образования с рус. яз. обучения / Е. Г. Кольмакова, П. С. Лопух, О. В. Сарычева. – Минск : Адукацыя і выхаванне, 2017. – § 25;</p> <p>Атлас. География. Материки и океаны : учеб. пособие для 7 класса учреждений общ. сред. образования с рус. яз. обучения / Е. Г. Кольмакова, П. С. Лопух, О. В. Сарычева. – Минск : РУП «Белкартография», 2017. – С. 72</p>

Раздел программы вступительных испытаний. Элемент содержания	Содержание задания. Ответ	Комментарий	Учебное издание
<p>География материков и стран.</p> <p>Комплексная географическая характеристика Мексики</p>	<p>A23. В характеристике Мексики ВЕРНЫМ является утверждение:</p> <p>1) бóльшая часть территории занята равнинами;</p> <p>2) для страны характерна естественная убыль населения;</p> <p>3) в структуре ВВП ведущая роль принадлежит сельскому хозяйству;</p> <p>4) в структуре промышленности одна из ведущих позиций принадлежит нефтехимии;</p> <p>5) страна является мировым лидером по валовому сбору кукурузы.</p> <p>Ответ: 4</p>	<p>1. Бóльшую часть территории Мексики занимают нагорья и внутренние плоскогорья, около трети территории государства занята равнинами.</p> <p>2. Для страны характерны высокие темпы естественного прироста населения. Коэффициент рождаемости составляет 19 ‰, а коэффициент смертности – 6 ‰.</p> <p>3. В структуре ВВП на долю сельского хозяйства приходится 4 %, промышленности – 33 %, сферы услуг – 63 %.</p> <p><i>4. Главные отрасли обрабатывающей промышленности – нефтеперерабатывающая и нефтехимическая, машиностроение и металлургия.</i></p> <p>5. Мировыми лидерами по объемам валового сбора кукурузы являются: США, Китай, Бразилия</p>	<p>География. Страны и народы : учеб. пособие для 8-го кл. учреждений общ. сред. образования с рус. яз. обучения / П. С. Лопух, Н. Л. Стреха, О. В. Сарычева, А. Г. Шандроха. – Минск : Адукацыя і выхаванне, 2019. – § 49</p>

Раздел программы вступительных испытаний. Элемент содержания	Содержание задания. Ответ	Комментарий	Учебное издание
<p>География материков и стран.</p> <p>Физико-географическая характеристика Евразии</p>	<p>A24. В характеристике природы Евразии ВЕРНЫМ является утверждение:</p> <p>1) горы Карпаты расположены в пределах древнего складчатого пояса;</p> <p>2) на восточное побережье материка обильные осадки приносит летний муссон;</p> <p>3) большинство рек бассейна внутреннего стока имеют преимущественно дождевое питание;</p> <p>4) в умеренном географическом поясе наибольшую площадь занимают степи;</p> <p>5) высотная поясность наиболее полно представлена в Альпах.</p> <p>Ответ: 2</p>	<p>1. Горы Карпаты расположены в пределах молодого Альпийско-Гималайского складчатого пояса.</p> <p>2. <i>На восточное побережье материка обильные осадки приносит летний муссон.</i></p> <p>3. Для рек бассейна внутреннего стока характерно преимущественно подземное питание, в верховьях в горах – снежоледниковое.</p> <p>4. В умеренном географическом поясе наибольшую площадь занимают лесные зоны.</p> <p>5. Наиболее полно высотная поясность представлена в Гималаях</p>	<p>География. Материки и океаны : учеб. пособие для 7-го кл. учреждений общ. сред. образования с рус. яз. обучения / Е. Г. Кольмакова, П. С. Лопух, О. В. Сарычева. – Минск : Адукацыя і выхаванне, 2017. – § 30</p>

Раздел программы вступительных испытаний. Элемент содержания	Содержание задания. Ответ	Комментарий	Учебное издание
<p>География материков и стран.</p> <p>Комплексная географическая характеристика Франции</p>	<p>A25. В характеристике социально-экономического развития Франции ОШИБОЧНЫМ является утверждение:</p> <p>1) характерен низкий естественный прирост населения;</p> <p>2) хозяйство страны имеет постиндустриальную отраслевую структуру;</p> <p>3) бóльшая часть электроэнергии вырабатывается на АЭС;</p> <p>4) металлургия развивается исключительно на использовании собственного сырья;</p> <p>5) в структуре сельского хозяйства соотношение растениеводства и животноводства примерно равное.</p> <p>Ответ: 4</p>	<p>В характеристике социально-экономического развития Франции ошибочным является утверждение под номером 4 – <i>металлургия развивается исключительно на использовании собственного сырья.</i></p> <p>Металлургия страны использует преимущественно импортное сырье, что обусловило сдвиг производства в портовые города</p>	<p>География. Страны и народы : учеб. пособие для 8-го кл. учреждений общ. сред. образования с рус. яз. обучения / П. С. Лопух, Н. Л. Стреха, О. В. Сарычева, А. Г. Шандроха. – Минск : Адукацыя і выхаванне, 2019. – § 33</p>

Раздел программы вступительных испытаний. Элемент содержания	Содержание задания. Ответ	Комментарий	Учебное издание
<p>География материков и стран.</p> <p>Комплексная географическая характеристика Польши</p>	<p>A26. Для социально-экономического развития Польши характерен(-ны; -на; -но):</p> <p>1) сложный этнический состав населения;</p> <p>2) более высокий уровень урбанизации в сравнении с государствами, с которыми граничит;</p> <p>3) ведущие позиции транспортного машиностроения в структуре машиностроения;</p> <p>4) специализация растениеводства исключительно на возделывании кормовых культур;</p> <p>5) ведущее место автомобильного транспорта в грузообороте страны.</p> <p>Ответ: 3</p>	<p>1. Особенностью Польши является однородный этнический состав населения: более 90 % жителей страны – поляки.</p> <p>2. По уровню урбанизации (62 %) страна уступает большинству европейских государств (в том числе Беларуси).</p> <p>3. <i>В машиностроении ведущие позиции принадлежат транспортному машиностроению, выпускающему легковые и грузовые автомобили, морские суда, локомотивы и вагоны.</i></p> <p>4. В растениеводстве ведущее место занимает производство зерновых культур – пшеницы и ржи. Велики площади, занятые под ячмень и овес, кормовые культуры, картофель, рапс, сахарную свеклу.</p> <p>5. По грузообороту ведущее место занимает железнодорожный транспорт</p>	<p>География. Страны и народы : учеб. пособие для 8-го кл. учреждений общ. сред. образования с рус. яз. обучения / П. С. Лопух, Н. Л. Стреха, О. В. Сарычева, А. Г. Шандроха. – Минск : Адукацыя і выхаванне, 2019. – § 35</p>

Раздел программы вступительных испытаний. Элемент содержания	Содержание задания. Ответ	Комментарий	Учебное издание
<p>География материков и стран.</p> <p>Комплексная географическая характеристика Индии</p>	<p>A27. В характеристике социально-экономического развития Индии ВЕРНЫМ является утверждение:</p> <p>1) бóльшая часть трудоспособного населения занята в сельском хозяйстве;</p> <p>2) по производству электроэнергии на душу населения занимает лидирующую позицию в мире;</p> <p>3) черная металлургия базируется исключительно на привозном сырье;</p> <p>4) в сельском хозяйстве доминирует животноводство;</p> <p>5) одной из главных технических культур является лен.</p> <p>Ответ: 1</p>	<p><i>1. В сельском хозяйстве Индии занято более 60 % трудоспособного населения.</i></p> <p>2. По производству электроэнергии на душу населения страна находится на одном из последних мест в мире.</p> <p>3. Черная металлургия базируется на собственном сырье.</p> <p>4. Более 80 % сельскохозяйственной продукции производит растениеводство.</p> <p>5. Главные технические культуры – хлопчатник, джут, чайный куст, сахарный тростник, масличные (арахис)</p>	<p>География. Страны и народы : учеб. пособие для 8-го кл. учреждений общ. сред. образования с рус. яз. обучения / П. С. Лопух, Н. Л. Стреха, О. В. Сарычева, А. Г. Шандроха. – Минск : Адукацыя і выхаванне, 2019. – § 43</p>
<p>География материков и стран.</p> <p>Россия. Географическая номенклатура</p>	<p>A28. Укажите ряд, в котором все предложенные географические объекты расположены в пределах России:</p> <p>1) река Дунай – река Енисей – река Волга;</p> <p>2) Боденское озеро – озеро Онежское – Каспийское море;</p> <p>3) Уральские горы – горы Алтай – хребет Джугджур;</p> <p>4) Восточно-Европейская равнина – Среднесибирское плоскогорье – горы Альпы;</p> <p>5) Туранская низменность – горы Карпаты – Ошмянская возвышенность.</p> <p>Ответ: 3</p>	<p>Найдите на карте атласа указанные в задании географические объекты. Ряд, в котором все перечисленные объекты расположены в пределах России, – под номером 3: <i>Уральские горы – горы Алтай – хребет Джугджур</i></p>	<p>Атлас. География. Материки и океаны : учеб. пособие для 7 класса учреждений общ. сред. образования с рус. яз. обучения / Е. Г. Кольмакова, П. С. Лопух, О. В. Сарычева. – Минск : РУП «Белкартография», 2017. – С. 77–78</p>

Раздел программы вступительных испытаний. Элемент содержания	Содержание задания. Ответ	Комментарий	Учебное издание
<p>География материков и стран.</p> <p>Комплексная географическая характеристика России</p>	<p>A29. В характеристике социально-экономического развития России ВЕРНЫМ является утверждение:</p> <p>1) удельный вес мужчин в общей численности населения выше, чем женщин;</p> <p>2) в возрастной структуре населения наибольшая доля людей моложе трудоспособного возраста;</p> <p>3) основные угольные бассейны сосредоточены в европейской части страны;</p> <p>4) одна из главных металлургических баз страны – Уральская;</p> <p>5) в структуре ВВП наибольшая доля принадлежит сельскому хозяйству.</p> <p>Ответ: 4</p>	<p>1. Удельный вес женщин в общей численности населения России выше, чем мужчин, и составляет 53 %.</p> <p>2. В возрастной структуре населения удельный вес людей моложе трудоспособного возраста составляет 18 % (с тенденцией уменьшения), а населения старше трудоспособного возраста – более 20 % (с тенденцией возрастания).</p> <p>3. Основные угольные бассейны, как и нефтегазоносные, находятся в Сибири и на Дальнем Востоке.</p> <p>4. <i>Основное производство чугуна, стали, проката сосредоточено на предприятиях трех главных металлургических баз России – Уральской, Центральной и Сибирской.</i></p> <p>5. В структуре ВВП удельный вес сельского хозяйства составляет 4 %</p>	<p>География. Страны и народы : учеб. пособие для 8-го кл. учреждений общ. сред. образования с рус. яз. обучения / П. С. Лопух, Н. Л. Стреха, О. В. Сарычева, А. Г. Шандроха. – Минск : Адукацыя і выхаванне, 2019. – § 39</p>

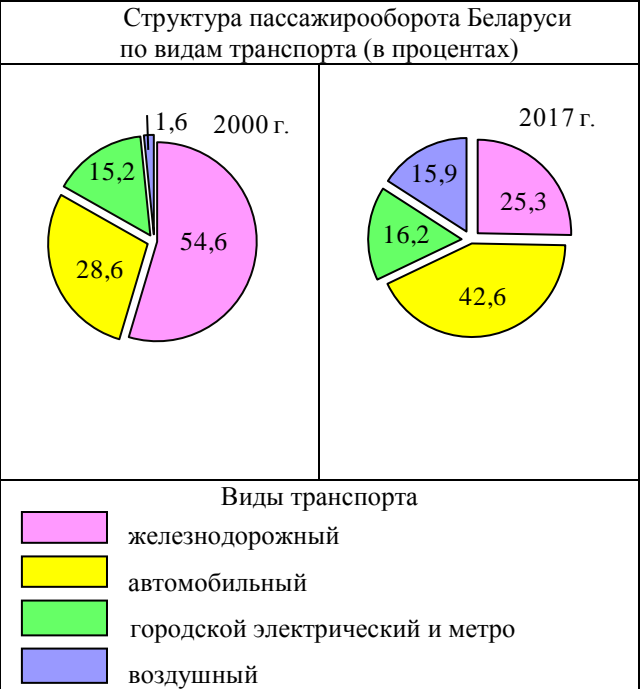
Раздел программы вступительных испытаний. Элемент содержания	Содержание задания. Ответ	Комментарий	Учебное издание
<p>География Беларуси.</p> <p>Географическое положение Республики Беларусь. Величина и конфигурация территории</p>	<p>А30. Относительно географического положения Беларуси ВЕРНЫМ является утверждение:</p> <p>1) крайний восточный пункт страны расположен в Оршанском районе;</p> <p>2) с запада на восток Беларусь простирается на 450 км;</p> <p>3) глубина территории составляет 100–120 км;</p> <p>4) через территорию страны проходят два трансъевропейских транспортных коридора;</p> <p>5) наиболее протяженным является участок государственной границы с Польшей.</p> <p>Ответ: 4</p>	<p>1. Крайний восточный пункт страны расположен недалеко от райцентра – п. г. т. Хотимск.</p> <p>2. С запада на восток Беларусь простирается на 650 км.</p> <p>3. Глубина территории Беларуси составляет 200–220 км.</p> <p>4. <i>Из десяти трансъевропейских транспортных коридоров два проходят через нашу страну: № II Берлин – Москва и № IX Хельсинки – Александруполис с ответвлением Гомель – Калининград.</i></p> <p>5. Самый протяженный участок государственной границы Беларуси – с Россией</p>	<p>География Беларуси : учеб. пособие. для 9-го кл. учреждений общ. сред. образования с рус. яз. обучения / М. Н. Брилевский, А. В. Климович. – Минск : Адукацыя і выхаванне, 2019. – § 1;</p> <p>Атлас. География Беларуси : учеб. пособие для 10 класса учреждений общ. сред. образования с рус. яз. обучения / научный редактор П. С. Лопух. – Минск : РУП «Белкартография», 2016. – С. 6–7</p>

Раздел программы вступительных испытаний. Элемент содержания	Содержание задания. Ответ	Комментарий	Учебное издание
<p>География Беларуси.</p> <p>Геологическое строение. Рельеф</p>	<p>А31. ВЕРНОЙ для Беларуси является следующая характеристика:</p> <p>1) максимальная глубина залегания кристаллического фундамента отмечается в пределах переходных тектонических структур – седловин;</p> <p>2) в пределах Припятского прогиба глубина залегания фундамента наибольшая;</p> <p>3) месторождения строительного камня приурочены к четвертичным отложениям;</p> <p>4) самая низкая точка рельефа расположена в пределах Приднепровской низменности;</p> <p>5) возвышенности занимают около половины территории страны.</p> <p>Ответ: 2</p>	<p>1. Максимальная глубина залегания кристаллического фундамента отмечается в пределах отрицательных тектонических структур, положительные структуры характеризуются близким к поверхности залеганием пород кристаллического фундамента, переходные – имеют промежуточное значение.</p> <p><i>2. В пределах Припятского прогиба глубина залегания фундамента наибольшая (1000–6000 м).</i></p> <p>3. Месторождения строительного камня связаны с породами кристаллического фундамента.</p> <p>4. Самая низкая точка рельефа расположена в пределах Неманской низменности (абсолютная высота – 80 м).</p> <p>5. Возвышенности занимают немногим более 20 % территории страны</p>	<p>География Беларуси : учеб. пособие. для 9-го кл. учреждений общ. сред. образования с рус. яз. обучения / М. Н. Брилевский, А. В. Климович. – Минск : Адукацыя і выхаванне, 2019. – § 5;</p> <p>Атлас. География Беларуси : учеб. пособие для 10 класса учреждений общ. сред. образования с рус. яз. обучения / научный редактор П. С. Лопух. – Минск : РУП «Белкартография», 2016. – С. 9</p>

Раздел программы вступительных испытаний. Элемент содержания	Содержание задания. Ответ	Комментарий	Учебное издание
География Беларуси. Климат и климатические ресурсы	<p>А32. Для климата Беларуси характерно(-а):</p> <ol style="list-style-type: none"> 1) преобладание зимой рассеянной солнечной радиации; 2) воздействие на климат в течение года преимущественно тропических воздушных масс; 3) выпадение максимального годового количества осадков на Центральноберезинской равнине; 4) формирование зимой снегового покрова максимальной высоты на юго-западе; 5) наибольшая продолжительность вегетационного периода на северо-востоке страны. <p>Ответ: 1</p>	<ol style="list-style-type: none"> 1. Доля рассеянной солнечной радиации зимой составляет 70–80 %. 2. Климат Беларуси в течение года формируется под влиянием умеренных воздушных масс. 3. Самое увлажненное место страны – Новогрудская возвышенность. Здесь выпадает более 750 мм осадков в год. 4. Высота снежного покрова увеличивается с юго-запада на северо-восток с 15 до 35 см. 5. Наибольшая продолжительность вегетационного периода на юго-западе страны (возрастает в направлении с северо-востока на юго-запад) 	География Беларуси : учеб. пособие. для 9-го кл. учреждений общ. сред. образования с рус. яз. обучения / М. Н. Брилевский, А. В. Климович. – Минск : Адукацыя і выхаванне, 2019. – § 9
География Беларуси. Поверхностные и подземные воды	<p>А33. По происхождению озерных котловин в Беларуси преобладают озера:</p> <ol style="list-style-type: none"> 1) ледниковые; 2) тектонические; 3) карстовые; 4) остаточные; 5) старичные. <p>Ответ: 5</p>	На территории Беларуси более 10 тыс. озер. По происхождению озерных котловин самые распространенные (около 9 тыс.) – старичные озера (5)	География Беларуси : учеб. пособие. для 9-го кл. учреждений общ. сред. образования с рус. яз. обучения / М. Н. Брилевский, А. В. Климович. – Минск : Адукацыя і выхаванне, 2019. – § 10

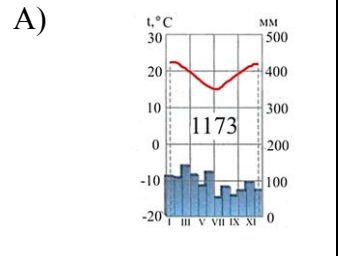
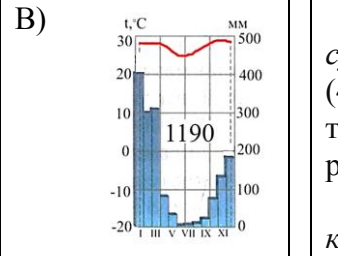
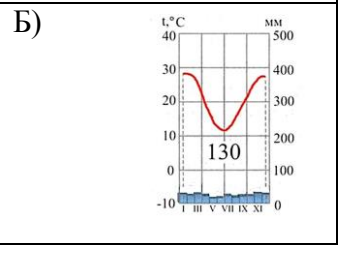
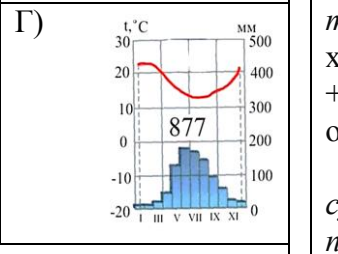
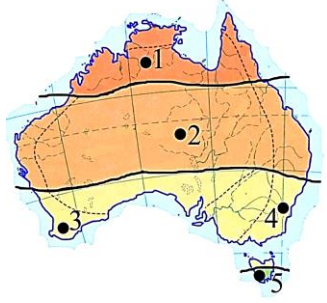
Раздел программы вступительных испытаний. Элемент содержания	Содержание задания. Ответ	Комментарий	Учебное издание
География Беларуси. Растительность	А34. Самая распространенная порода в лесах Беларуси: 1) береза; 2) ель; 3) сосна; 4) дуб; 5) ольха черная. Ответ: 3	Самая распространенная порода в лесах Беларуси – <i>сосна</i> (3), которая занимает более половины площади лесов	География Беларуси : учеб. пособие. для 9-го кл. учреждений общ. сред. образования с рус. яз. обучения / М.Н. Брилевский, А. В. Климович. – Минск : Адукацыя і выхаванне, 2019. – § 12
География Беларуси. Население	А35. Для населения Беларуси характерна(-о): 1) наибольшая доля населения моложе трудоспособного возраста (0–14 лет) в возрастной структуре; 2) снижение доли населения старше трудоспособного возраста в возрастной структуре; 3) наибольшая доля средних городов среди городских поселений; 4) занятость большей части трудоспособного населения в сельском хозяйстве; 5) увеличение людности (величины населенных пунктов по количеству жителей) сельских населенных пунктов в направлении с севера на юг. Ответ: 5	1. В Беларуси доля населения моложе трудоспособного возраста (0–14 лет) составляет 17,7 %, доля трудоспособного населения – наибольшая (57,2 %). 2. Доля населения старше трудоспособного возраста постоянно увеличивается (по данным на 2018 г. составляет 25,1 %). 3. Среди городских поселений по количеству преобладают малые города (65 % городских поселений). 4. В сельском хозяйстве Беларуси занято 7–10 % трудоспособного населения. 5. <i>Людность (величина населенных пунктов по количеству жителей) сельских населенных пунктов увеличивается в направлении с севера на юг</i>	География Беларуси : учеб. пособие. для 9-го кл. учреждений общ. сред. образования с рус. яз. обучения / М. Н. Брилевский, А. В. Климович. – Минск : Адукацыя і выхаванне, 2019. – § 25

Раздел программы вступительных испытаний. Элемент содержания	Содержание задания. Ответ	Комментарий	Учебное издание
<p>География Беларуси.</p> <p>Сельское хозяйство</p>	<p>А36. Для сельского хозяйства Беларуси характерна(-ы; -о):</p> <p>1) наибольшая доля луговых угодий в структуре сельскохозяйственных угодий страны;</p> <p>2) большие, по сравнению с зерновыми культурами, площади посевов технических культур;</p> <p>3) возделывание сахарной свёклы преимущественно в северных районах страны;</p> <p>4) преимущественно мясная специализация скотоводства вокруг крупных городов;</p> <p>5) наличие крупных птицефабрик промышленного типа во всех областях страны.</p> <p>Ответ: 5</p>	<p>1. В структуре сельскохозяйственных угодий Беларуси преобладают пахотные земли, на долю которых приходится 67 % сельскохозяйственных угодий. Луга и пастбища занимают 31 % сельскохозяйственных угодий.</p> <p>2. Технические культуры, по сравнению с зерновыми, занимают небольшие площади.</p> <p>3. Посевы сахарной свёклы сконцентрированы в основном в Брестской, Гродненской и Минской областях.</p> <p>4. Вокруг крупных городов хозяйства по разведению крупного рогатого скота специализируются на производстве молока.</p> <p>5. <i>Крупные птицефабрики промышленного типа представлены во всех областях страны</i></p>	<p>География Беларуси : учеб. пособие. для 9-го кл. учреждений общ. сред. образования с рус. яз. обучения / М. Н. Брилевский, А. В. Климович. – Минск : Адукацыя і выхаванне, 2019. – § 28</p>
<p>География Беларуси.</p> <p>Промышленность</p>	<p>А37. Промышленный центр, в котором находится предприятие по производству азотных удобрений:</p> <p>1) Гомель;</p> <p>2) Гродно;</p> <p>3) Речица;</p> <p>4) Солигорск;</p> <p>5) Бобруйск.</p> <p>Ответ: 2</p>	<p>Промышленный центр, в котором находится предприятие по производству азотных удобрений, – это <i>Гродно</i> (2)</p>	<p>География Беларуси : учеб. пособие. для 9-го кл. учреждений общ. сред. образования с рус. яз. обучения / М. Н. Брилевский, А. В. Климович. – Минск : Адукацыя і выхаванне, 2019. – § 35</p>

Раздел программы вступительных испытаний. Элемент содержания	Содержание задания. Ответ	Комментарий	Учебное издание
География Беларуси. Транспорт	<p>А38. Проанализируйте диаграммы и укажите ОШИБОЧНЫЙ вывод:</p> <p>Структура пассажирооборота Беларуси по видам транспорта (в процентах)</p>  <p>Виды транспорта</p> <ul style="list-style-type: none"> железнодорожный автомобильный городской электрический и метро воздушный <p>1) отмечается значительное снижение доли железнодорожного транспорта; 2) отмечается увеличение доли автомобильного транспорта; 3) доля городского электрического транспорта и метро наименьшая; 4) отмечается значительное увеличение доли воздушного транспорта; 5) в структуре пассажирооборота (2017 г.) наибольшая доля принадлежит автомобильному транспорту.</p> <p>Ответ: 3</p>	<p>Среди предложенных выводов ошибочный под номером 3 – <i>доля городского электрического транспорта и метро наименьшая</i></p>	<p>География Беларуси : учеб. пособие. для 9-го кл. учреждений общ. сред. образования с рус. яз. обучения / М. Н. Брилевский, А. В. Климович. – Минск : Адукацыя і выхаванне, 2019. – § 42</p>

Раздел программы вступительных испытаний. Элемент содержания	Содержание задания. Ответ	Комментарий	Учебное издание				
<p>География материков и стран.</p> <p>Исследование материков и океанов</p>	<p>В1. Установите соответствие:</p> <table border="1" data-bbox="392 359 1019 1109"> <thead> <tr> <th data-bbox="392 359 810 422">Исследование</th> <th data-bbox="810 359 1019 422">Исследователь</th> </tr> </thead> <tbody> <tr> <td data-bbox="392 422 810 1109"> <p>А) поиски в 1492 году морского пути в Индию, открытие Америки</p> <p>Б) изучение и описание немецким географом и путешественником особенностей природы Южноамериканского континента</p> <p>В) изучение природы Южной и Центральной Африки в XIX веке: исследование пустыни Калахари, реки Замбези и ряда озер (см. рис.)</p> <p>Г) исследование озера Байкал уроженцем Беларуси</p> </td> <td data-bbox="810 422 1019 1109"> <p>1) Александр Гумбольдт</p> <p>2) Давид Ливингстон</p> <p>3) Бенедикт Дыбовский</p> <p>4) Афанасий Никитин</p> <p>5) Христофор Колумб</p> </td> </tr> </tbody> </table>  <p><i>Ответ запишите в виде сочетания букв и цифр, соблюдая алфавитную последовательность букв. Помните, что не все данные правого столбца могут быть использованы для ответа. Например: А2Б1В4Г5.</i></p> <p>Ответ: А5Б1В2Г3</p>	Исследование	Исследователь	<p>А) поиски в 1492 году морского пути в Индию, открытие Америки</p> <p>Б) изучение и описание немецким географом и путешественником особенностей природы Южноамериканского континента</p> <p>В) изучение природы Южной и Центральной Африки в XIX веке: исследование пустыни Калахари, реки Замбези и ряда озер (см. рис.)</p> <p>Г) исследование озера Байкал уроженцем Беларуси</p>	<p>1) Александр Гумбольдт</p> <p>2) Давид Ливингстон</p> <p>3) Бенедикт Дыбовский</p> <p>4) Афанасий Никитин</p> <p>5) Христофор Колумб</p>	<p>А. Отправился на поиски морского пути в Индию, в 1492 году открыл Америку – <i>Христофор Колумб</i> (5).</p> <p>Б. Немецкий географ и путешественник, который изучал и описывал особенности Южноамериканского континента, – <i>Александр Гумбольдт</i> (1).</p> <p>В. Изучением природы Южной и Центральной Африки в XIX веке: исследование пустыни Калахари, реки Замбези и ряда озер занимался <i>Давид Ливингстон</i> (2).</p> <p>Г. Уроженец Беларуси, который занимался исследованием озера Байкал, – <i>Бенедикт Дыбовский</i> (3)</p>	<p>География. Материки и океаны : учеб. пособие для 7-го кл. учреждений общ. сред. образования с рус. яз. обучения / Е. Г. Кольмакова, П. С. Лопух, О. В. Сарычева. – Минск : Адукацыя і выхаванне, 2017. – § 8, 18; 28;</p> <p>Атлас. География. Материки и океаны : учеб. пособие для 7 класса учреждений общ. сред. образования с рус. яз. обучения / Е. Г. Кольмакова, П. С. Лопух, О. В. Сарычева. – Минск : РУП «Белкартография», 2017. – С. 6–7, 42, 60, 76</p>
Исследование	Исследователь						
<p>А) поиски в 1492 году морского пути в Индию, открытие Америки</p> <p>Б) изучение и описание немецким географом и путешественником особенностей природы Южноамериканского континента</p> <p>В) изучение природы Южной и Центральной Африки в XIX веке: исследование пустыни Калахари, реки Замбези и ряда озер (см. рис.)</p> <p>Г) исследование озера Байкал уроженцем Беларуси</p>	<p>1) Александр Гумбольдт</p> <p>2) Давид Ливингстон</p> <p>3) Бенедикт Дыбовский</p> <p>4) Афанасий Никитин</p> <p>5) Христофор Колумб</p>						


Раздел программы вступительных испытаний. Элемент содержания	Содержание задания. Ответ	Комментарий	Учебное издание
<p>Начальный курс географии. Мировое хозяйство и глобальные проблемы человечества.</p> <p>Географическая номенклатура</p>	<p>В2. Расположите последовательно с запада на восток (от нулевого меридиана) следующие географические объекты:</p> <p>1) полуостров Юкатан; 2) пустыня Гоби; 3) Гавайские острова; 4) озеро Чад; 5) горы Кавказ.</p> <p><i>Ответ запишите цифрами, соблюдая полученную последовательность. Например: 21453.</i></p> <p>Ответ: 45231</p>	<p>Рассмотрите карты атласа и найдите указанные в задании географические объекты (на картосхеме отмечены цифрами)</p> 	<p>Атлас. География. Материки и океаны : учеб. пособие для 7 класса учреждений общ. сред. образования с рус. яз. обучения / Е. Г. Кольмакова, П. С. Лопух, О. В. Сарычева. – Минск : РУП «Белкартография», 2017. – С. 10–11</p>

Раздел программы вступительных испытаний. Элемент содержания	Содержание задания. Ответ	Комментарий	Учебное издание
<p>География материков и стран.</p> <p>Климатические пояса и области на Земле. Климат Австралии</p>	<p>В3. Установите соответствие между климатограммой климатического пояса (области) и пунктом, отмеченным на карте Австралии точкой с цифрой:</p> <div style="display: flex; flex-wrap: wrap;"> <div style="width: 50%;"> <p>А) </p> </div> <div style="width: 50%;"> <p>В) </p> </div> <div style="width: 50%;"> <p>Б) </p> </div> <div style="width: 50%;"> <p>Г) </p> </div> </div> <p>Ответ запишите в виде сочетания букв и цифр, соблюдая алфавитную последовательность букв. Помните, что не все данные, указанные на карте, могут быть использованы для ответа. Например: А2Б1В4Г5</p> <p>Ответ: А4Б2В1Г3</p> <div style="text-align: center;">  </div>	<p>Точки на карте расположены в пределах субэкваториального (1), тропического (2), субтропического (3, 4) и умеренного (5) климатических поясов.</p> <p>А. Климатограмма соответствует <i>субтропическому влажному типу климата</i> (4), который отличается положительными температурами воздуха в течение года и равномерным увлажнением.</p> <p>Б. Климатограмма соответствует <i>континентальной (пустынной) области тропического пояса</i> (2), для которой характерны летние температуры воздуха до +24... +32 °С, зимние – до +12... +16 °С, осадков выпадает 100–250 мм в год.</p> <p>В. Климатограмма соответствует <i>субэкваториальному климатическому поясу</i> (1), климат которого отличается четко выраженной сезонностью распределения осадков с летним максимумом и высокими температурами воздуха в течение всего года.</p> <p>Г. Климатограмма соответствует <i>субтропическому средиземноморскому типу климата</i> (3) с температурами воздуха летом +23... +26 °С, зимой +12... +14 °С и зимним максимумом осадков</p>	<p>География. Материки и океаны : учеб. пособие для 7-го кл. учреждений общ. сред. образования с рус. яз. обучения / Е. Г. Кольмакова, П. С. Лопух, О. В. Сарычева. – Минск : Адукацыя і выхаванне, 2017. – § 27; Атлас. География. Материки и океаны : учеб. пособие для 7 класса учреждений общ. сред. образования с рус. яз. обучения / Е. Г. Кольмакова, П. С. Лопух, О. В. Сарычева. – Минск : РУП «Белкартография», 2017. – С. 52</p>

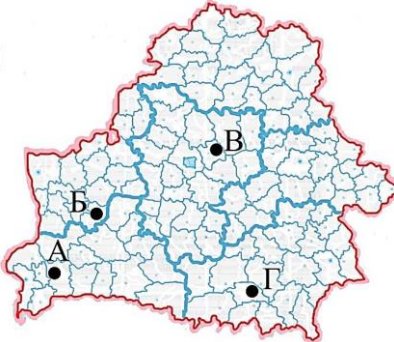
Раздел программы вступительных испытаний. Элемент содержания	Содержание задания. Ответ	Комментарий	Учебное издание
<p>География материков и стран.</p> <p>Природные зоны Южной Америки</p>	<p>В4. Высокотравная влажная саванна в бассейне реки Ориноко – это <i>Дополните предложение и запишите ответ в виде слова в той форме, в которой оно должно быть употреблено в предложении.</i></p> <p>Ответ: льянос</p>	<p>Высокотравная влажная саванна в бассейне реки Ориноко – это <i>льянос</i></p>	<p>География. Материки и океаны : учеб. пособие для 7-го кл. учреждений общ. сред. образования с рус. яз. обучения / Е. Г. Кольмакова, П. С. Лопух, О. В. Сарычева. – Минск : Адукацыя і выхаванне, 2017. – § 22</p>
<p>География материков и стран.</p> <p>Комплексная географическая характеристика Японии</p>	<p>В5. Постиндустриальное государство, бóльшая часть (2/3) территории которого занята лесами. Его особенностью является бедность минерально-сырьевыми ресурсами и вхождение в тройку мировых лидеров по производству чугуна и стали. Столица данного государства – <i>В бланк ответов запишите столицу государства. Например: Минск.</i></p> <p>Ответ: Токио</p>	<p>Постиндустриальное государство, бóльшая часть (2/3) территории которого занята лесами. Его особенностью является бедность минерально-сырьевыми ресурсами и вхождение в тройку мировых лидеров по производству чугуна и стали. Это Япония. Столица данного государства – <i>Токио</i></p>	<p>География. Страны и народы : учеб. пособие для 8-го кл. учреждений общ. сред. образования с рус. яз. обучения / П. С. Лопух, Н. Л. Стреха, О. В. Сарычева, А. Г. Шандроха. – Минск : Адукацыя і выхаванне, 2019. – § 41</p>

Раздел программы вступительных испытаний. Элемент содержания	Содержание задания. Ответ	Комментарий	Учебное издание												
<p>Начальный курс географии. Мировое хозяйство и глобальные проблемы человечества. Воды суши. Географическая номенклатура</p>	<p>В6. Установите соответствие:</p> <table border="1" data-bbox="387 359 1021 619"> <thead> <tr> <th>Река</th> <th>Принадлежность к бассейну</th> </tr> </thead> <tbody> <tr> <td>А) Обь</td> <td>1) Тихий океан</td> </tr> <tr> <td>Б) Конго</td> <td>2) Индийский океан</td> </tr> <tr> <td>В) Муррей</td> <td>3) Атлантический океан</td> </tr> <tr> <td>Г) Янцзы</td> <td>4) Северный Ледовитый океан</td> </tr> <tr> <td></td> <td>5) бассейн внутреннего стока</td> </tr> </tbody> </table> <p><i>Ответ запишите в виде сочетания букв и цифр, соблюдая алфавитную последовательность букв левого столбца. Помните, что не все данные правого столбца могут быть при этом использованы. Например: А2Б1В4Г5.</i></p> <p>Ответ: А4Б3В2Г1</p>	Река	Принадлежность к бассейну	А) Обь	1) Тихий океан	Б) Конго	2) Индийский океан	В) Муррей	3) Атлантический океан	Г) Янцзы	4) Северный Ледовитый океан		5) бассейн внутреннего стока	<p>Найдите на картах атласа указанные в задании реки. А. Река Обь расположена в Евразии, относится к бассейну <i>Северного Ледовитого океана</i> (4). Б. Река Конго расположена в Африке, относится к бассейну <i>Атлантического океана</i> (3). В. Река Муррей расположена в Австралии, относится к бассейну <i>Индийского океана</i> (2). Г. Река Янцзы расположена в Евразии, относится к бассейну <i>Тихого океана</i> (1)</p>	<p>Атлас. География. Материки и океаны : учеб. пособие для 7 класса учреждений общ. сред. образования с рус. яз. обучения / Е. Г. Кольмакова, П. С. Лопух, О. В. Сарычева. – Минск : РУП «Белкартография», 2017. – С. 10–11</p>
Река	Принадлежность к бассейну														
А) Обь	1) Тихий океан														
Б) Конго	2) Индийский океан														
В) Муррей	3) Атлантический океан														
Г) Янцзы	4) Северный Ледовитый океан														
	5) бассейн внутреннего стока														

Раздел программы вступительных испытаний. Элемент содержания	Содержание задания. Ответ	Комментарий	Учебное издание					
<p>Начальный курс географии. Мировое хозяйство и глобальные проблемы человечества.</p> <p>Мировое хозяйство. Комплексная географическая характеристика стран</p>	<p>В7. Установите соответствие:</p> <table border="1" data-bbox="392 359 1003 845"> <thead> <tr> <th data-bbox="392 359 1003 399">Характеристика государства</th> </tr> </thead> <tbody> <tr> <td data-bbox="392 399 1003 510">А) унитарное государство с наибольшими объемами производства легковых автомобилей в мире</td> </tr> <tr> <td data-bbox="392 510 1003 622">Б) федеративное государство, входящее в тройку мировых лидеров по производству калийных удобрений</td> </tr> <tr> <td data-bbox="392 622 1003 734">В) унитарное государство, омывается водами двух океанов, обладает крупными запасами руд цветных и черных металлов</td> </tr> <tr> <td data-bbox="392 734 1003 845">Г) наибольшее по площади территории государство на материке, входящее в тройку мировых лидеров по добыче бокситов</td> </tr> </tbody> </table> <p data-bbox="392 845 1003 885" style="text-align: center;">Государство</p>  <p data-bbox="369 1204 1019 1388">Ответ запишите в виде сочетания букв и цифр, соблюдая алфавитную последовательность букв. Помните, что не все данные, указанные на карте, могут быть при этом использованы. Например: А2Б1В4Г5.</p> <p data-bbox="369 1428 638 1460">Ответ: А4Б3В5Г2</p>	Характеристика государства	А) унитарное государство с наибольшими объемами производства легковых автомобилей в мире	Б) федеративное государство, входящее в тройку мировых лидеров по производству калийных удобрений	В) унитарное государство, омывается водами двух океанов, обладает крупными запасами руд цветных и черных металлов	Г) наибольшее по площади территории государство на материке, входящее в тройку мировых лидеров по добыче бокситов	<p>А. Унитарное государство с наибольшими объемами производства легковых автомобилей в мире – это <i>Китай</i> (4).</p> <p>Б. Федеративное государство, входящее в тройку мировых лидеров по производству калийных удобрений, – это <i>Россия</i> (3).</p> <p>В. Унитарное государство, омывается водами двух океанов, обладает крупными запасами руд цветных и черных металлов – это <i>ЮАР</i> (5).</p> <p>Г. Наибольшее по площади территории государство на материке, входящее в тройку мировых лидеров по добыче бокситов, – это <i>Бразилия</i> (2).</p> <p>Характеристика США (1) в задании отсутствует</p>	<p>География. Мировое хозяйство и глобальные проблемы человечества : учеб. пособие для 11-го кл. учреждений общ. сред. образования с рус. яз. обучения / А. Н. Витченко [и др.]. – Минск : Адукацыя і выхаванне, 2016. – § 10–12;</p> <p>География. Страны и народы : учеб. пособие для 8-го кл. учреждений общ. сред. образования с рус. яз. обучения / П. С. Лопух, Н. Л. Стреха, О. В. Сарычева, А. Г. Шандроха. – Минск : Адукацыя і выхаванне, 2019. – § 55</p>
Характеристика государства								
А) унитарное государство с наибольшими объемами производства легковых автомобилей в мире								
Б) федеративное государство, входящее в тройку мировых лидеров по производству калийных удобрений								
В) унитарное государство, омывается водами двух океанов, обладает крупными запасами руд цветных и черных металлов								
Г) наибольшее по площади территории государство на материке, входящее в тройку мировых лидеров по добыче бокситов								

Раздел программы вступительных испытаний. Элемент содержания	Содержание задания. Ответ	Комментарий	Учебное издание
<p>География Беларуси.</p> <p>Природоохранные территории</p>	<p>В8. Национальный парк Беларуси, территория которого выделена на карте, – это ... национальный парк.</p>  <p><i>В бланк ответов запишите название национального парка. Например: Йеллоустонский.</i></p> <p>Ответ: Припятский</p>	<p>Национальный парк Беларуси, территория которого выделена на карте, – это <i>Припятский</i> национальный парк</p>	<p>География Беларуси : учеб. пособие. для 9-го кл. учреждений общ. сред. образования с рус. яз. обучения / М. Н. Брилевский, А. В. Климович. – Минск : Адукацыя і выхаванне, 2019. – § 17;</p> <p>Атлас. География Беларуси : учеб. пособие для 10 класса учреждений общ. сред. образования с рус. яз. обучения / научный редактор П. С. Лопух. – Минск : РУП «Белкартография», 2016. – С. 25</p>

Раздел программы вступительных испытаний. Элемент содержания	Содержание задания. Ответ	Комментарий	Учебное издание
<p>География Беларуси.</p> <p>Природное районирование Беларуси. Западно-Белорусская провинция</p>	<p>В9. Вставьте в приведенном тексте на места пропусков слова из предложенного списка, подходящие по смыслу.</p> <div style="border: 1px solid black; padding: 5px;"> <p>Западно-Белорусская провинция на западе простирается до границы с государством (А) _____. Особенностью тектонического строения является расположение большей ее части в пределах (Б) _____. Для провинции характерно наличие участков с абсолютными высотами более (В) _____ метров. Западно-Белорусская провинция преимущественно относится к бассейну реки (Г) _____</p> <p style="text-align: center;">Список слов</p> <ol style="list-style-type: none"> 1) Неман 2) Латвия 3) Припять 4) Полесская седловина 5) 300 6) 500 7) Польша 8) Белорусская антеклиза </div> <p><i>Выбирайте слова последовательно, мысленно вставляя их на места пропусков в нужной форме. Помните, что не все слова могут быть использованы для ответа. Каждое слово может быть использовано только один раз. Ответ запишите в виде сочетания букв и цифр, соблюдая алфавитную последовательность букв. Например: А2Б1В4Г5.</i></p> <p>Ответ: А7Б8В5Г1</p>	<p>Западно-Белорусская провинция на западе простирается до границы с государством (А) <i>Польша</i> (7). Особенностью тектонического строения является расположение большей ее части в пределах (Б) <i>Белорусской антеклизы</i> (8). Для провинции характерно наличие участков с абсолютными высотами более (В) <i>300</i> (5) метров. Западно-Белорусская провинция преимущественно относится к бассейну реки (Г) <i>Неман</i> (1)</p>	<p>География Беларуси : учеб. пособие. для 9-го кл. учреждений общ. сред. образования с рус. яз. обучения / М. Н. Брилевский, А. В. Климович. – Минск : Адукацыя і выхаванне, 2019. – § 20</p>

Раздел программы вступительных испытаний. Элемент содержания	Содержание задания. Ответ	Комментарий	Учебное издание
География Беларуси. Города	<p>В10. Установите соответствие между промышленным центром, отмеченным на картосхеме точкой с буквой, и его названием:</p> <ol style="list-style-type: none"> 1) Кобрин; 2) Кричев; 3) Мозырь; 4) Слоним; 5) Жодино. <p><i>Ответ запишите в виде сочетания букв и цифр, соблюдая алфавитную последовательность букв. Помните, что не все названия городов могут быть при этом использованы. Например: А2Б1В4Г5.</i></p> <p>Ответ: А1Б4В5Г3</p> 	<p>Найдите на карте атласа указанные в задании города, обозначенные на контурной карте буквами:</p> <p>А – Кобрин (1); Б – Слоним (4); В – Жодино (5); Г – Мозырь (3).</p> <p>Город Кричев (2) на карте не отмечен</p>	<p>Атлас. География Беларуси : учеб. пособие для 10 класса учреждений общ. сред. образования с рус. яз. обучения / научный редактор П. С. Лопух. – Минск : РУП «Белкартография», 2016. – С. 4–5</p>

Раздел программы вступительных испытаний. Элемент содержания	Содержание задания. Ответ	Комментарий	Учебное издание
<p>Начальный курс географии. Мировое хозяйство и глобальные проблемы человечества.</p> <p>Естественное и механическое движение населения</p>	<p>В11. Численность населения Литвы – 2,9 млн человек (2016 г.). На сколько уменьшилась численность жителей страны за год за счет естественной убыли населения, если коэффициент рождаемости составил 11 ‰, а коэффициент смертности – 14 ‰?</p> <p><i>Ответ запишите цифрами в виде целого числа. Единицы измерения не указывайте. Например: 4500.</i></p> <p>Ответ: 8700</p>	<p>Естественный прирост населения – превышение количества рожденных над количеством умерших за год в расчете на 1000 жителей. Если смертность превышает рождаемость, то происходит естественная убыль населения.</p> <p>Коэффициент смертности населения Литвы (14 ‰) превышает коэффициент рождаемости (11 ‰), а коэффициент естественной убыли составляет 3 ‰.</p> <p>Численность населения страны за год уменьшилась на 8700 человек: $2\,900\,000 : 1000 \cdot 3 = 8700$</p>	<p>География. Страны и народы : учеб. пособие для 8-го кл. учреждений общ. сред. образования с рус. яз. обучения / П. С. Лопух, Н. Л. Стреха, О. В. Сарычева, А. Г. Шандроха. – Минск : Адукацыя і выхаванне, 2019. – § 5</p>
<p>Начальный курс географии. Мировое хозяйство и глобальные проблемы человечества.</p> <p>Изменение температуры воздуха с высотой</p>	<p>В12. Определите абсолютную высоту горы в метрах, если температура воздуха у ее подножия, расположенного на высоте 447 м над уровнем моря, составляет +4 °С, а на ее вершине равна –5 °С.</p> <p><i>Ответ запишите цифрами в виде целого числа. Единицы измерения не указывайте. Например: 3000.</i></p> <p>Ответ: 1947</p>	<p>С высотой температура воздуха понижается в среднем на 0,6 °С на каждые 100 м.</p> <p>С поднятием вверх от подножия горы до ее вершины температура воздуха понизится на 9 °С: $(4 - (-5) = 9)$.</p> <p>Относительная высота горы равна 1500 м: $(9 \cdot 100 : 0,6 = 1500)$.</p> <p>Абсолютная высота горы равна 1947 м: $(1500 + 447 = 1947)$</p>	<p>География. Физическая география : учеб. пособие для 6-го кл. учреждений общ. сред. образования с рус. яз. обучения / Е. Г. Кольмакова, В. В. Пикулик ; под ред. Е. Г. Кольмаковой. – Минск : Народная асвета, 2016. – § 15</p>