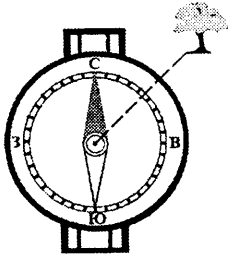


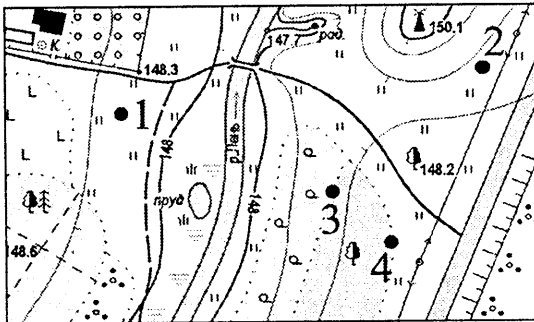
Часть А

А1. Азимут направления на отдельно стоящее дерево составляет:



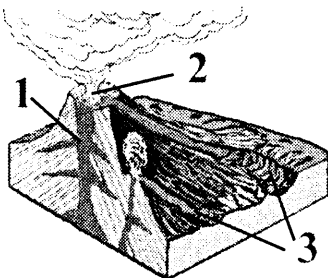
- 1) 45°;
- 2) 135°;
- 3) 315°;
- 4) 225°.

А2. Туристы устроили привал на границе лиственного леса и луга. Место привала на плане местности отмечено точкой с цифрой:



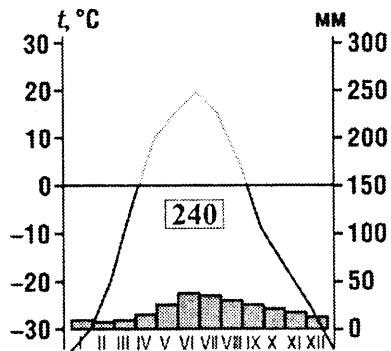
- 1) 1;
- 2) 2;
- 3) 3;
- 4) 4.

А3. Цифрой 3 на рисунке обозначена(-ен; -о):



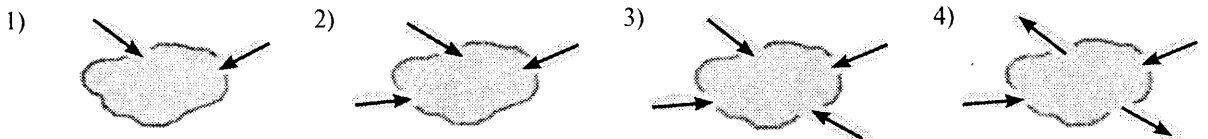
- 1) магма;
- 2) лава;
- 3) кратер;
- 4) жерло.

А4. Определите климат Евразии, которому соответствует климатограмма:

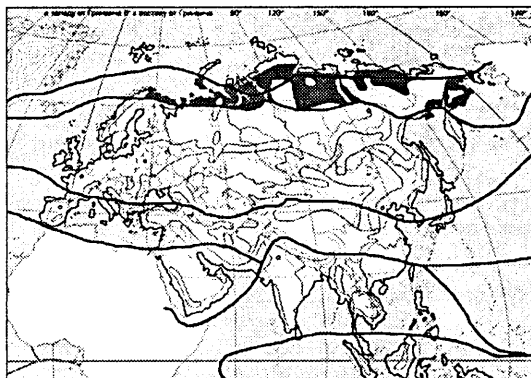


- 1) арктический;
- 2) умеренный морской;
- 3) умеренный резко континентальный;
- 4) субтропический континентальный.

А5. Сточное озеро изображено на рисунке:



**А6.** На карте цветом выделена природная зона:



- 1) тундра и лесотундра;
- 2) тайга;
- 3) смешанные и широколиственные леса;
- 4) жестколистные вечнозеленые леса и кустарники.

**А7.** Для населения мира характерна(-ен; -ы; -о):

- 1) наибольшая доля представителей смешанных и переходных расовых групп в структуре населения Африки;
- 2) медленный рост численности населения в большинстве развивающихся стран;
- 3) более высокие темпы роста городского населения в развивающихся странах по сравнению с развитыми;
- 4) второе место по численности представителей у алтайской языковой семьи.

**А8.** Унитарными по форме политико-территориального устройства являются государства:

- 1) ЮАР, Канада;
- 2) Эстония, Мексика;
- 3) Туркменистан, Польша;
- 4) Австралийский Союз, Куба.

**А9.** В состав БРИКС входят государства:

- 1) Ливия, Индия;
- 2) Россия, Бразилия;
- 3) Венесуэла, Италия;
- 4) Испания, Канада.

**А10.** В тройку крупнейших стран мира по размерам валового сбора риса входят:

- 1) США, Мексика;
- 2) Китай, Индия;
- 3) Бразилия, Япония;
- 4) Саудовская Аравия, Египет.

**А11.** География лесной промышленности мира характеризуется:

- 1) преобладанием лиственных пород деревьев в северном лесном поясе;
- 2) лидерством Юго-Западной Азии по площади лесов;
- 3) низкой водоемкостью целлюлозно-бумажного производства;
- 4) наличием производств с использованием вторичного сырья.

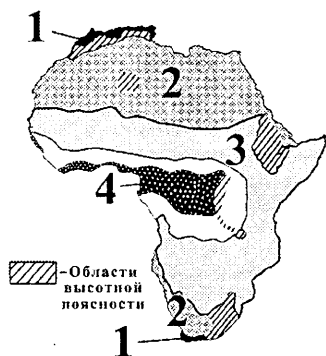
**А12.** В характеристике мирового сельского хозяйства ВЕРНЫМ является утверждение:

- 1) Австралии принадлежит наибольшая доля среди регионов мира в общей площади обрабатываемых земель;
- 2) ячмень является главной зерновой культурой;
- 3) сахарный тростник возделывают преимущественно в умеренных широтах;
- 4) свиноводство развито в странах с интенсивным картофелеводством и свеклопроизводством.

**А13.** Для автомобильного транспорта в транспортной системе мира характерен(-на; -но):

- 1) низкий уровень затрат на топливо;
- 2) низкая себестоимость перевозок;
- 3) наибольшая среди регионов мира плотность автомобильной сети в странах Западной Европы;
- 4) лидерство Германии по общей протяженности автомобильных дорог.

**А14.** Определите ВЕРНОЕ утверждение относительно природной зоны Африки, обозначенной на карте цифрой 3:



- 1) выпадает до 300 мм осадков в год;
- 2) распространены коричневые почвы;
- 3) типичными представителями флоры являются масличная пальма, баобаб, слоновая трава;
- 4) обитают собака динго, вомбат, страус эму.

**А15.** Для социально-экономического развития ЮАР характерна:

- 1) монархическая форма государственного правления;
- 2) занятость большей части трудоспособного населения в промышленности;
- 3) ведущая роль черной металлургии в структуре обрабатывающей промышленности;
- 4) ведущая роль свиноводства в структуре животноводства.

**A16.** Для Австралии характерно:

- 1) отсутствие прогибов фундамента в пределах платформы;
- 2) влияние юго-восточного пассата на климат восточного побережья;
- 3) преимущественно снеговое питание реки Дарлинг;
- 4) распространение природной зоны полупустынь и пустынь на юго-западном побережье материка.

**A17.** В характеристике социально-экономического развития Австралийского Союза **ВЕРНЫМ** является утверждение:

- 1) среди верующего населения преобладают протестанты и католики;
- 2) отсутствуют месторождения горючих полезных ископаемых;
- 3) страна является мировым лидером по поголовью крупного рогатого скота;
- 4) в структуре импорта преобладают железные руды.

**A18.** В характеристике природы Антарктиды **ВЕРНЫМ** является утверждение:

- 1) по площади территории превосходит Австралию;
- 2) в основании большей части материка лежит молодая платформа;
- 3) вся территория материка расположена в пределах антарктического климатического пояса;
- 4) отсутствуют высшие растения.

**A19.** Укажите эндемика Южной Америки:

1)



2)



3)



4)



**A20.** Для социально-экономического развития стран Южной Америки характерны(-а; -о):

- 1) замедленные темпы роста населения;
- 2) федеративная форма политико-территориального устройства в Венесуэле;
- 3) отсутствие на континенте запасов урановых руд;
- 4) наибольшее в мире поголовье крупного рогатого скота в Аргентине.

**A21.** В характеристике природы Северной Америки **ВЕРНЫМ** является утверждение:

- 1) древний ледник покрывал всю территорию материка;
- 2) предгорья Аппалачей богаты каменным углем;
- 3) наибольшее количество осадков выпадает в центральных районах материка;
- 4) наибольшим по площади является озеро Онтарио.

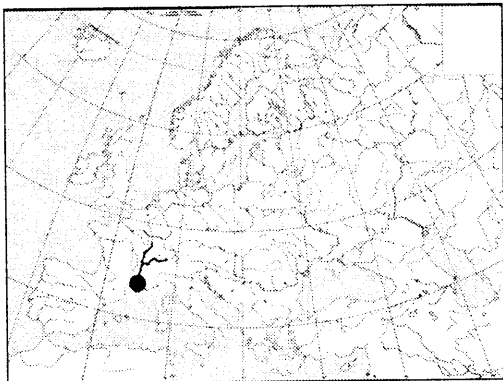
**A22.** Для социально-экономического развития США в **ОТЛИЧИЕ** от Канады характерна(-о):

- 1) однородность религиозного состава населения;
- 2) федеративная форма политико-территориального устройства;
- 3) производство наибольшей доли электроэнергии на АЭС;
- 4) наличие нескольких специализированных животноводческо-растениеводческих районов (поясов).

**A23.** **ВЕРНЫМ** в характеристике природы Евразии является утверждение:

- 1) горы Пиренеи расположены в пределах древнего складчатого пояса;
- 2) зимний муссон приносит осадки на восточное побережье материка;
- 3) реки бассейна внутреннего стока имеют преимущественно дождевое питание;
- 4) на юге Европы распространены карстовые озера.

**A24.** На карте Европы точкой отмечено устье реки:



- 1) Дон;
- 2) Рона;
- 3) Висла;
- 4) Прут.

**A25.** Для социально-экономического развития стран Южной Европы характерна(-ен; -ы; -о):

- 1) более высокая плотность населения в Италии, чем в Ватикане;
- 2) низкий уровень развития гидроэнергетики в Испании;
- 3) высокие темпы развития электроники и электротехники;
- 4) производство зерновых культур преимущественно для экспорта.

**A26.** Для социально-экономического развития государств Балтии характерно(-а):

- 1) преобладание численности сельского населения над численностью городского;
- 2) создание наибольшей доли ВВП в сфере услуг;
- 3) развитие преимущественно металлоемкого машиностроения;
- 4) специализация зернового хозяйства исключительно на возделывании кукурузы.

**A27.** Для социально-экономического развития Индии характерна(-о):

- 1) занятость большей части населения в сфере услуг;
- 2) использование преимущественно собственного сырья в черной металлургии;
- 3) отсутствие в структуре машиностроения космической промышленности;
- 4) наибольшее в мире поголовье овец и коз.

**A28.** Укажите ряд, в котором верно расположены в направлении с запада на восток географические объекты России:

- 1) Онежское озеро — озеро Байкал — Красноярское водохранилище;
- 2) река Амур — река Волга — река Лена;
- 3) горы Сихотэ-Алинь — Валдайская возвышенность — Уральские горы;
- 4) Приволжская возвышенность — Западно-Сибирская равнина — Тунгусское плато.

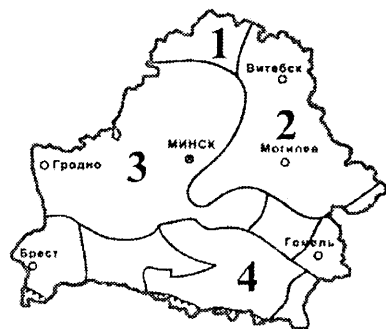
**A29.** В характеристике социально-экономического развития России ОШИБОЧНЫМ является утверждение:

- 1) естественный прирост населения отрицательный;
- 2) основу машиностроения составляет станкостроение;
- 3) страна занимает первое место в мире по производству ржи;
- 4) крупный порт на Баренцевом море — Мурманск.

**A30.** Относительно географического положения Беларуси ВЕРНЫМ является утверждение:

- 1) крайний западный пункт расположен в Лидском районе;
- 2) территория страны с севера на юг простирается на 750 км;
- 3) расположение в центре Европы не является преимуществом экономико-географического положения;
- 4) географический центр расположен в Пуховичском районе.

**A31.** Городокская возвышенность расположена в пределах тектонической структуры, отмеченной на карте цифрой:



- 1) 1;
- 2) 2;
- 3) 3;
- 4) 4.

**A32.** Для климата Беларуси характерна(-о):

- 1) большая продолжительность дня летом на юге страны по сравнению с севером;
- 2) понижение средней температуры воздуха в январе в направлении с юго-запада на северо-восток;
- 3) наибольшая относительная влажность воздуха летом;
- 4) выпадение наибольшего годового количества осадков на Полоцкой низменности.

**A33.** К бассейну Балтийского моря относится река:

- 1) Друть;
- 2) Птичь;
- 3) Виляя;
- 4) Ясельда.

**A34.** В характеристике растительного мира Беларуси ВЕРНЫМ является утверждение:

- 1) на большей части лесопокрытой площади произрастает клен;
- 2) водная растительность занимает наибольшую площадь среди основных типов растительности;
- 3) внепойменные луга преобладают в общей площади лугов;
- 4) в общей площади болот наибольшую долю составляют верховые болота.

**A35.** В характеристике населения Беларуси ВЕРНЫМ является утверждение:

- 1) в возрастной структуре наименьшую долю составляет население младшего возраста (0—15 лет);
- 2) отсутствуют районы с достаточно неблагоприятной демографической ситуацией в сельской местности;
- 3) среди городских поселений преобладают средние по численности населения города;
- 4) наибольшая среди областей численность населения отмечается в Гомельской области.

**A36.** Для промышленности Беларуси характерно:

- 1) наличие в стране природной сырьевой базы для развития цветной металлургии;
- 2) отсутствие предприятий по производству газетной бумаги в Могилевской области;
- 3) наличие предприятий по производству цемента во всех областях страны;
- 4) производство молочных консервов в Витебской области.

**A37.** Для сельского хозяйства Беларуси характерна(-ен):

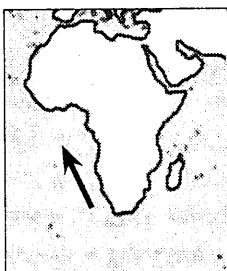
- 1) наибольшая доля пашни в структуре сельскохозяйственных угодий страны;
- 2) наименьшая доля тритикале в структуре посевов зерновых культур;
- 3) наибольший удельный вес мяса птицы в структуре производства мяса;
- 4) ведущая роль овцеводства в структуре животноводства.

**A38.** В характеристике транспорта Беларуси **ВЕРНЫМ** является утверждение:

- 1) внешнеэкономические связи со странами Европы осуществляются преимущественно воздушным транспортом;
- 2) в общей протяженности автомобильных дорог наибольшую долю составляют дороги, не имеющие твердого покрытия;
- 3) ветвь нефтепровода «Дружба» проходит через Оршу;
- 4) отсутствуют речные порты с механизированными причалами.

## Часть В

**B1.** Назовите течение Мирового океана, отмеченное на картосхеме стрелкой.



В ответ запишите название течения. Например: Калифорнийское.

**B2.** Расположите последовательно с севера на юг следующие географические объекты:

- 1) горы Саяны;
- 2) пустыня Намиб;
- 3) Карибское море;
- 4) Берингов пролив.

Ответ запишите цифрами, соблюдая полученную последовательность. Например: 4231.

**B3.** Установите соответствие между природными зонами, отмеченными на карте цветом и буквами, и их характеристиками:

Природная зона	Характеристика
	<ol style="list-style-type: none"> <li>1) среди мхов и лишайников встречаются осока, пушица, полярные маки</li> <li>2) произрастают пальмы, деревья с ценной древесиной (махагони), гевея</li> <li>3) почвы преимущественно подзолистые, в низинах — торфяно-болотные</li> <li>4) преобладает травянистая растительность с рощами акаций и мимоз на красно-коричневых почвах</li> </ol>

Ответ запишите в виде сочетания букв и цифр, соблюдая алфавитную последовательность букв. Например: A2B1B4Г3.

**B4.** Наибольшее количество водяного пара, которое может вместить воздух при данной температуре, — это ... влажность воздуха.

Дополните предложение и запишите ответ в виде слова или нескольких слов.

**B5.** Постиндустриальное государство с республиканской формой правления, испытывающее острый дефицит собственных топливных ресурсов. Наличие крупных запасов урановых руд позволяет развивать атомную энергетику. Выделяется на мировом уровне большими объемами производства сахарной свеклы. Столица данного государства — ...

Запишите столицу государства. Например: Минск.

**B6.** Установите соответствие:

Экономический и политический центр	Регион
<ol style="list-style-type: none"> <li>A) Мумбаи</li> <li>Б) Лиссабон</li> <li>В) Ла-Плата</li> <li>Г) Лос-Анджелес</li> </ol>	<ol style="list-style-type: none"> <li>1) Западная Европа</li> <li>2) Южная Америка</li> <li>3) Южная Европа</li> <li>4) Северная Америка</li> <li>5) Южная Азия</li> </ol>

Ответ запишите в виде сочетания букв и цифр, соблюдая алфавитную последовательность букв левого столбца. Помните, что не все данные правого столбца могут быть при этом использованы. Например: A2Б1B4Г5.

**В7.** Установите соответствие:

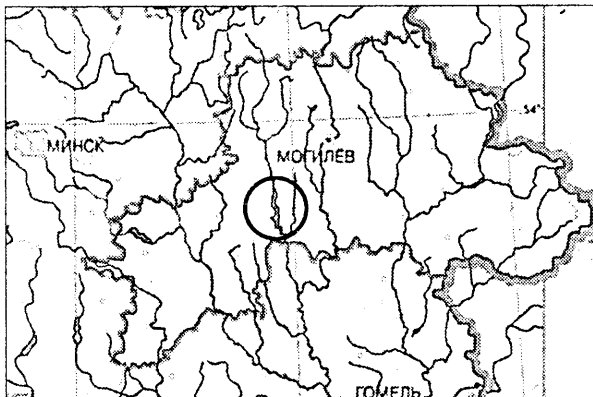
Характеристика государства	Государство
А) монархия, одна из главных нефтедобывающих стран	1) Япония
Б) монархия, одна из ведущих стран по тоннажу спускаемых на воду морских судов	2) Саудовская Аравия
В) унитарная республика, одна из крупнейших стран по производству хлопка-волокна	3) Китай
Г) федеративная республика, одна из ведущих стран по протяженности железных дорог	4) Россия
	5) Германия

Ответ запишите в виде сочетания букв и цифр, соблюдая алфавитную последовательность букв левого столбца. Помните, что не все данные правого столбца могут быть при этом использованы. Например: А2Б1В4Г5.

**В8.** В Беларуси к девонским отложениям Припятского прогиба приурочены Мозырское, Старобинское и Давыдовское месторождения ...

Дополните предложение и запишите ответ в виде слова или нескольких слов.

**В9.** Запишите название водохранилища, показанного на карте внутри круга.



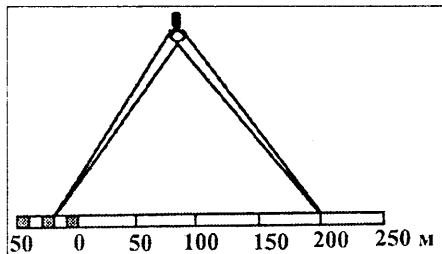
В ответ запишите название водохранилища. Например: Заславское.

**В10.** Установите соответствие:

Характеристика города	Город
А) крупный железнодорожный узел (6 направлений), центр по производству моющих средств	1) Жлобин
Б) расположен на реке Днепр, центр по производству искусственного меха	2) Могилев
В) второй по численности населения город страны, центр по производству фосфорных удобрений	3) Гомель
Г) родина исследователя Арктики О. Ю. Шмидта	4) Бобруйск
	5) Барановичи

Ответ запишите в виде сочетания букв и цифр, соблюдая алфавитную последовательность букв левого столбца. Помните, что не все данные правого столбца могут быть при этом использованы. Например: А2Б1В4Г5.

**В11.** Расстояние между объектами, измеренное на карте с помощью циркуля-измерителя, на местности равно 220 м. Определите численный масштаб карты.



В ответ запишите знаменатель масштаба данной карты. Например: 10 000.

**В12.** Определите температуру воздуха на вершине горы с абсолютной высотой 2620 м, если у ее подножия, расположенного на высоте 720 м над уровнем моря, температура составляет +7,7 °С.

Ответ запишите в виде целого числа. Знак «+» (если число положительное) или «-» (если число отрицательное) пишите в отдельной клеточке. Единицы измерения не указывайте. Например: +15.