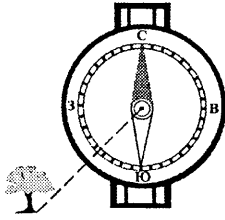


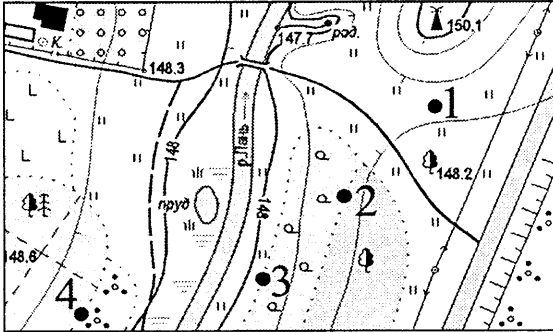
Часть А

A1. Азимут направления на отдельно стоящее дерево составляет:



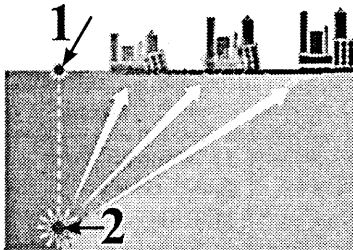
- 1) 45°;
- 2) 135°;
- 3) 315°;
- 4) 225°.

A2. Туристы устроили привал на границе лиственного леса и редкого леса. Место привала на плане местности отмечено точкой с цифрой:



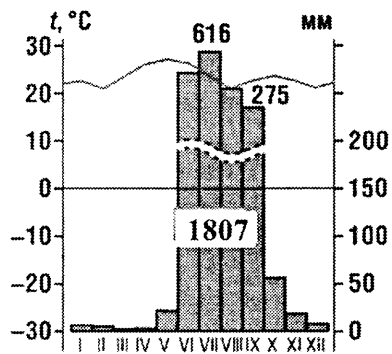
- 1) 1;
- 2) 2;
- 3) 3;
- 4) 4.

A3. Цифрой 1 на рисунке обозначен:



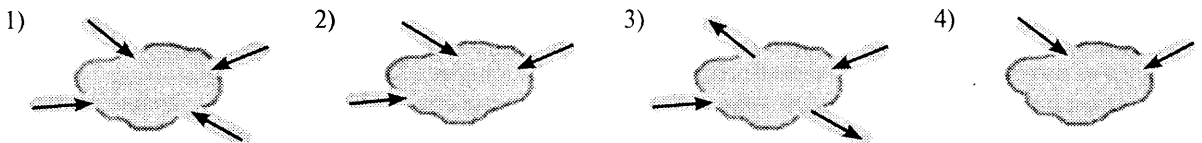
- 1) сброс;
- 2) кратер;
- 3) очаг землетрясения;
- 4) эпицентр землетрясения.

A4. Определите климат Евразии, которому соответствует климатограмма:

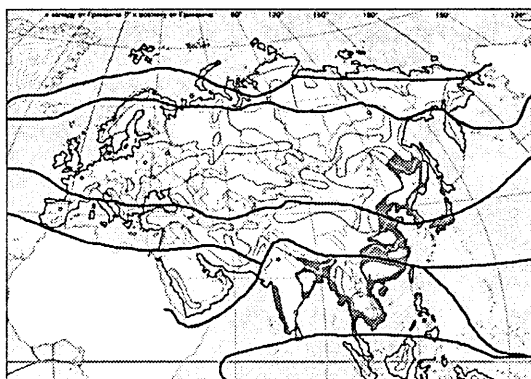


- 1) экваториальный;
- 2) субэкваториальный муссонный;
- 3) субтропический континентальный;
- 4) субтропический средиземноморский.

A5. Сточное озеро изображено на рисунке:



A6. На карте цветом выделена природная зона:



- 1) лесостепи и степи;
- 2) смешанные и широколиственные леса;
- 3) переменно-влажные (в том числе муссонные) леса;
- 4) жестколистные вечнозеленые леса и кустарники.

A7. Для населения мира характерна(-о; -ы):

- 1) наибольшая доля представителей негроидной расы в структуре населения Южной Америки;
- 2) высокая доля детей (около 40—50 %) в структуре населения стран Африки;
- 3) отсутствие высокоурбанизированных государств в Азии;
- 4) низкая плотность и равномерное размещение населения в Африке.

A8. Унитарными по форме политико-территориального устройства являются государства:

- 1) Германия, Япония;
- 2) Литва, Кыргызстан;
- 3) Финляндия, Испания;
- 4) Аргентина, Норвегия.

A9. В состав БРИКС входят государства:

- 1) Россия, Швеция;
- 2) Франция, Индия;
- 3) ЮАР, Китай;
- 4) Польша, Великобритания.

A10. В тройку крупнейших стран мира по размерам валового сбора кукурузы входят:

- 1) Аргентина, Индия;
- 2) Россия, Италия;
- 3) Франция, Канада;
- 4) США, Бразилия.

A11. География нефтяной промышленности мира характеризуется:

- 1) отсутствием запасов нефти в шельфовой зоне Мирового океана;
- 2) преобладанием экспортных потоков нефти в страны Африки;
- 3) несовпадением районов добычи и основного потребления нефти;
- 4) размещением нефтеперерабатывающих заводов исключительно в районах добычи сырья.

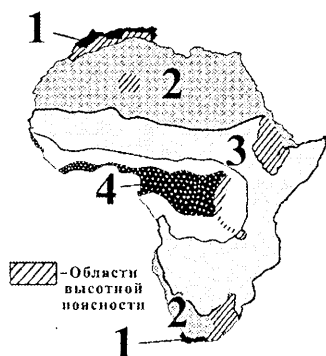
A12. В характеристике мирового сельского хозяйства **ВЕРНЫМ** является утверждение:

- 1) Азии принадлежит наибольшая доля среди регионов мира в общей площади обрабатываемых земель;
- 2) более половины пахотных земель используется для возделывания технических культур;
- 3) в производстве сахара наименьшая доля приходится на тростниковый сахар;
- 4) свиноводство не получило развития в странах Латинской Америки.

A13. Для железнодорожного транспорта в транспортной системе мира характерна:

- 1) регулярность движения;
- 2) высокая себестоимость перевозки грузов;
- 3) наибольшая среди регионов мира густота железных дорог в Азии;
- 4) наибольшая общая длина железных дорог в Канаде.

A14. Определите **ВЕРНОЕ** утверждение относительно природной зоны Южного полушария Африки, обозначенной на карте цифрой 2:



- 1) выпадение осадков в течение года равномерное;
- 2) формируются красные и желтые ферралитные почвы;
- 3) произрастают дикие арбузы, алоэ, вельвичия;
- 4) типичными представителями животного мира являются страус эму, киви, волнистые попугаи.

A15. Для социально-экономического развития ЮАР характерна(-о):

- 1) монархическая форма государственного правления;
- 2) занятость наибольшей доли трудоспособного населения в сфере услуг;
- 3) отсутствие цветной металлургии в структуре обрабатывающей промышленности;
- 4) возделывание ячменя и ржи как главных зерновых культур.

A16. Для Австралии характерна(-о):

- 1) наибольшая по сравнению с другими материками средняя абсолютная высота рельефа;
- 2) господство тропических воздушных масс на северном побережье зимой;
- 3) преимущественно снеговое питание реки Муррей;
- 4) распространение смешанных лесов умеренного пояса на юго-западном побережье материка.

A17. В характеристике социально-экономического развития Австралийского Союза **ВЕРНЫМ** является утверждение:


- 1) самым крупным городом страны является столица;
- 2) черная металлургия развивается преимущественно за счет импорта сырья;
- 3) большая часть территории саванн и редколесий используется для пастбищ;
- 4) в структуре экспорта отсутствует продукция животноводства.

A18. В характеристике природы Антарктиды **ВЕРНЫМ** является утверждение:


- 1) граница Антарктики проходит в пределах 70—80° ю. ш.;
- 2) на западе платформу окаймляют древние горы — Антарктические Анды;
- 3) над центром материка формируется область постоянного высокого давления;
- 4) наибольшее разнообразие животного мира отмечается в центральной части материка.

A19. Укажите эндемика Южной Америки:

1)



2)



3)



4)



A20. Для социально-экономического развития стран Южной Америки характерна(-о):

- 1) высокая рождаемость населения;
- 2) преобладание государств с федеративной формой политико-территориального устройства;
- 3) наличие незначительных запасов бокситов в Бразилии;
- 4) преобладание продукции обрабатывающей промышленности в структуре экспорта.

A21. В характеристике природы Северной Америки **ВЕРНЫМ** является утверждение:

- 1) древний складчатый пояс находится к западу от Северо-Американской платформы;
- 2) на Примексиканской низменности сконцентрированы месторождения руд цветных металлов;
- 3) на материке зарегистрирован абсолютный максимум температуры воздуха для Западного полушария;
- 4) река Маккензи судоходна в течение года.

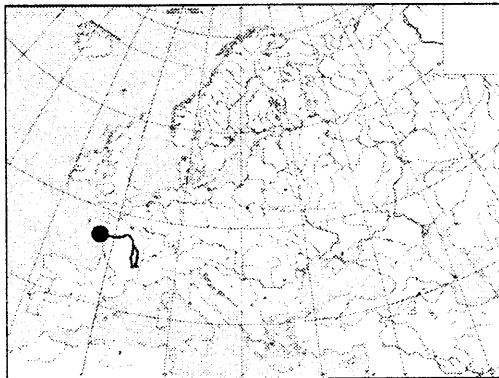
A22. Для социально-экономического развития США в **ОТЛИЧИЕ** от Канады характерно(-ен):

- 1) проживание большей части населения в сельских поселениях;
- 2) отсутствие зависимых территорий;
- 3) вхождение в тройку мировых лидеров по объему добываемой нефти;
- 4) экспорт пшеницы.

A23. **ВЕРНЫМ** в характеристике природы Евразии является утверждение:

- 1) горы Карпаты расположены в пределах древнего складчатого пояса;
- 2) в субтропическом климатическом поясе зимой господствуют тропические воздушные массы;
- 3) самой протяженной рекой континента является река Янцзы;
- 4) самое мощное горное оледенение Европы сформировалось в горах Пиренеях.

A24. На карте Европы точкой отмечено устье реки:

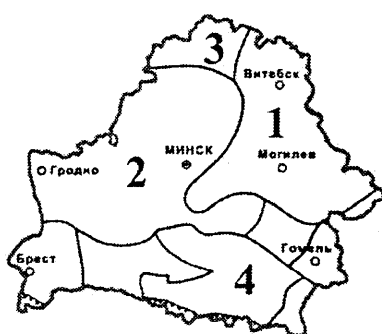


- 1) По;
- 2) Рейн;
- 3) Дунай;
- 4) Луара.

A25. Для социально-экономического развития стран Южной Европы характерна(-о):

- 1) общая численность населения региона менее 100 млн человек;
- 2) производство основной части электроэнергии на АЭС;
- 3) размещение крупных нефтеперерабатывающих предприятий в портовых городах;
- 4) возделывание бахчевых культур преимущественно для экспорта.

- A26.** Для социально-экономического развития государств Балтии характерно(-а):
- 1) превышение показателя рождаемости над показателем смертности;
 - 2) занятость большей части трудоспособного населения в сельском хозяйстве;
 - 3) использование в Эстонии преимущественно местного сырья для развития энергетики;
 - 4) использование около половины посевных площадей под возделывание овощей.
- A27.** Для социально-экономического развития Индии характерна(-о; -ен):
- 1) высокая доля пожилых людей в возрастной структуре населения;
 - 2) отсутствие атомной энергетики в структуре производства электроэнергии;
 - 3) высокий уровень развития электроники и информационных технологий;
 - 4) наибольшая доля агропромышленного комплекса в структуре экспорта.
- A28.** Укажите ряд, в котором верно расположены в направлении с запада на восток географические объекты России:
- 1) река Дон — река Амур — река Енисей;
 - 2) Кольский полуостров — полуостров Таймыр — Чукотский полуостров;
 - 3) хребет Джугджур — горы Алтай — горы Саяны;
 - 4) Среднесибирское плоскогорье — Прикаспийская низменность — вулкан Ключевская Сопка.
- A29.** В характеристике социально-экономического развития России ОШИБОЧНЫМ является утверждение:
- 1) зона очагового заселения составляет 2/3 территории;
 - 2) самым крупным центром по производству легковых автомобилей является город Набережные Челны;
 - 3) ведущим направлением животноводства является скотоводство;
 - 4) крупный порт на Белом море — Архангельск.
- A30.** Относительно географического положения Беларуси ВЕРНЫМ является утверждение:
- 1) территория страны простирается от 45° с. ш. до 55° с. ш.;
 - 2) с Литвой граничат Брестская и Гродненская области;
 - 3) транзитность является одним из преимуществ экономико-географического положения;
 - 4) государственную границу с Польшей пересекает река Вилия.
- A31.** Свенцянские гряды расположены в пределах тектонической структуры, отмеченной на карте цифрой:



- 1) 1;
- 2) 2;
- 3) 3;
- 4) 4.

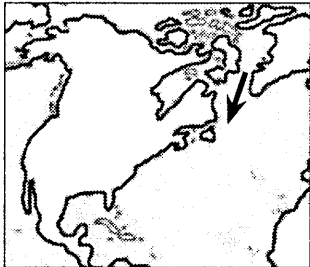
- A32.** Для климата Беларуси характерна(-ен; -о):
- 1) большая продолжительность дня зимой на севере страны по сравнению с югом;
 - 2) абсолютный минимум температуры воздуха -30°C ;
 - 3) наибольшее количество дней с туманами с октября по март;
 - 4) выпадение наибольшего годового количества осадков на Неманской низменности.
- A33.** К бассейну Балтийского моря относится река:
- 1) Сож;
 - 2) Друть;
 - 3) Дисна;
 - 4) Припять.
- A34.** В характеристике растительного мира Беларуси ВЕРНЫМ является утверждение:
- 1) ельники чаще встречаются на юге страны, чем на севере;
 - 2) в составе флоры отсутствуют полупустынные виды;
 - 3) суходольные луга распространены преимущественно на водоразделах;
 - 4) в общей площади болот наибольшую долю составляют переходные.
- A35.** В характеристике населения Беларуси ВЕРНЫМ является утверждение:
- 1) у мужчин более высокая продолжительность жизни, чем у женщин;
 - 2) в стране отсутствуют районы с неблагоприятной демографической ситуацией в сельской местности;
 - 3) в ряде областей отсутствуют многофункциональные города;
 - 4) наименьшая среди областей численность населения отмечается в Гродненской области.
- A36.** Для промышленности Беларуси характерна(-о):
- 1) наибольшая доля металлургии в структуре промышленности;
 - 2) размещение лесозаготовительных предприятий только в северных районах страны;
 - 3) наличие единственного предприятия по производству хрустальной посуды;
 - 4) размещение сахарных заводов в местах массового производства сырья.
- A37.** Для сельского хозяйства Беларуси характерна(-о):
- 1) наименьшая доля пашни в структуре сельскохозяйственных угодий;
 - 2) повсеместное выращивание овса с наибольшей концентрацией посевов на севере страны;
 - 3) преимущественно мясное направление скотоводства в хозяйствах возле больших городов;
 - 4) специализация птицеводства исключительно на разведении кур.

A38. В характеристике транспорта Беларуси ВЕРНЫМ является утверждение:

- 1) железнодорожные пути общего пользования полностью электрифицированы;
- 2) среди областей наиболее густой сетью автомобильных дорог с твердым покрытием выделяется Гродненская область;
- 3) ветвь нефтепровода «Дружба» проходит через Барановичи;
- 4) самый большой по грузообороту среди речных портов — Брестский речной порт.

Часть В

B1. Назовите течение Мирового океана, отмеченное на картосхеме стрелкой.



В ответ запишите название течения. Например: Калифорнийское.

B2. Расположите последовательно с севера на юг следующие географические объекты:

- 1) Драконовы горы;
- 2) пустыня Такла-Макан;
- 3) Белое море;
- 4) пролив Ла-Манш.

Ответ запишите цифрами, соблюдая полученную последовательность. Например: 4231.

B3. Установите соответствие между природными зонами, отмеченными на карте цветом и буквами, и их характеристиками:

Природная зона	Характеристика
	<ol style="list-style-type: none"> 1) распространены красноземы, желтоземы, красно-желтые ферралитные почвы 2) обитают белая куропатка, полярный волк, летом прилетают водоплавающие птицы 3) преобладающая травянистая растительность — место обитания пумы, грызунов, пресмыкающихся 4) типичными представителями животного мира являются виргинский олень, черный медведь барibal, древесный дикобраз

Ответ запишите в виде сочетания букв и цифр, соблюдая алфавитную последовательность букв. Например: A2B1B4Г3.

B4. Система мероприятий по улучшению земель и повышению их плодородия, которая включает орошение, обводнение, осушение земель, известкование почв, борьбу с эрозией, — это ...

Дополните предложение и запишите ответ в виде слова или нескольких слов.

B5. Постиндустриальное европейское государство с отрицательным естественным приростом населения, количество которого увеличивается за счет притока иммигрантов. Выделяется на мировом уровне объемами экспорта продукции основной химии, станков, автомобилей. Лидирует в регионе по поголовью свиней. Столица данного государства — Запишите столицу государства. Например: Минск.

B6. Установите соответствие:

Экономический и политический центр	Регион
<ol style="list-style-type: none"> А) Краков Б) Копенгаген В) Сан-Франциско Г) Рио-де-Жанейро 	<ol style="list-style-type: none"> 1) Северная Америка 2) Южная Америка 3) Северная Европа 4) Западная Европа 5) Восточная Европа

Ответ запишите в виде сочетания букв и цифр, соблюдая алфавитную последовательность букв левого столбца. Помните, что не все данные правого столбца могут быть при этом использованы. Например: A2B1B4Г5.

В7. Установите соответствие:

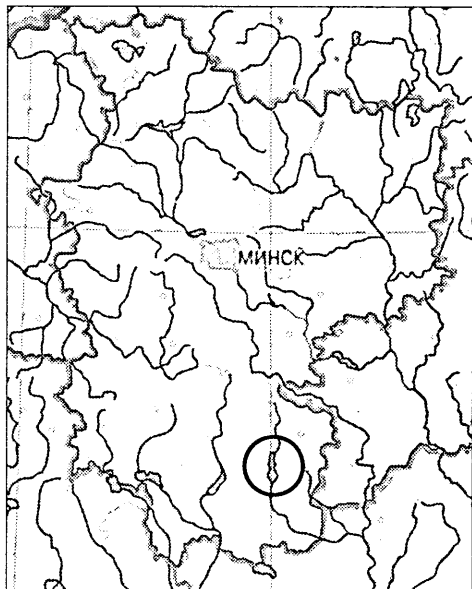
Характеристика государства	Государство
<p>А) федеративное государство, одно из ведущих по разведанным запасам железных руд</p> <p>Б) унитарная монархия, одна из ведущих стран по выплавке стали</p> <p>В) унитарная республика, одна из крупнейших стран по размерам валового сбора риса</p> <p>Г) унитарное государство на северо-востоке материка, основным предметом экспорта которого является хлопок</p>	<p>1) Индонезия</p> <p>2) Франция</p> <p>3) Япония</p> <p>4) Австралийский Союз</p> <p>5) Египет</p>

Ответ запишите в виде сочетания букв и цифр, соблюдая алфавитную последовательность букв левого столбца. Помните, что не все данные правого столбца могут быть при этом использованы. Например: А2Б1В4Г5.

В8. В Беларуси к меловым отложениям приурочены Мстиславское и Лобковичское месторождения ...

Дополните предложение и запишите ответ в виде слова или нескольких слов.

В9. Запишите название водохранилища, показанного на карте внутри круга.



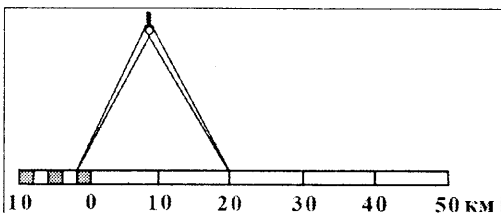
В ответ запишите название водохранилища. Например: Заславское.

В10. Установите соответствие:

Характеристика города	Город
<p>А) расположен на реке Щаре, центр по производству бумаги и картона</p> <p>Б) крупный железнодорожный узел (6 направлений), центр по производству металлорежущих инструментов</p> <p>В) расположен на реке Березине, центр по производству лекарственных средств и медицинских препаратов</p> <p>Г) известен дворцом Румянцевых — Паскевичей</p>	<p>1) Орша</p> <p>2) Добруш</p> <p>3) Слоним</p> <p>4) Гомель</p> <p>5) Борисов</p>

Ответ запишите в виде сочетания букв и цифр, соблюдая алфавитную последовательность букв левого столбца. Помните, что не все данные правого столбца могут быть при этом использованы. Например: А2Б1В4Г5.

В11. Расстояние между объектами, измеренное на карте с помощью циркуля-измерителя, на местности равно 22 км. Определите численный масштаб карты.



В ответ запишите знаменатель масштаба данной карты. Например: 2 000 000.

В12. Определите температуру воздуха на вершине горы с абсолютной высотой 2140 м, если у ее подножия, расположенного на высоте 440 м над уровнем моря, температура составляет +1,3 °С.

Ответ запишите в виде целого числа. Знак «+» (если число положительное) или «-» (если число отрицательное) пишите в отдельной клеточке. Единицы измерения не указывайте. Например: +15.