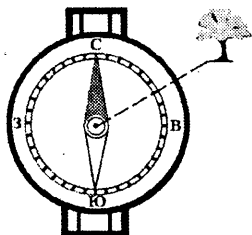


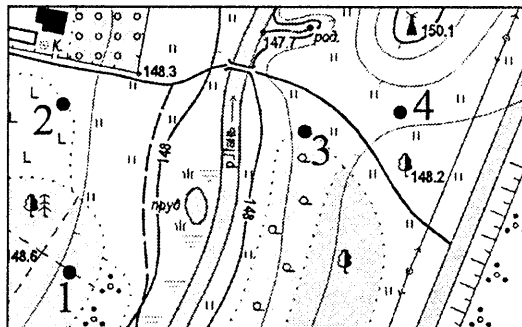
Часть А

А1. Азимут направления на отдельно стоящее дерево составляет:



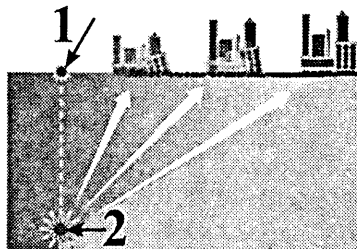
- 1) 60°;
- 2) 150°;
- 3) 210°;
- 4) 330°.

А2. Туристы устроили привал на границе редкого леса и луга. Место привала на плане местности отмечено точкой с цифрой:



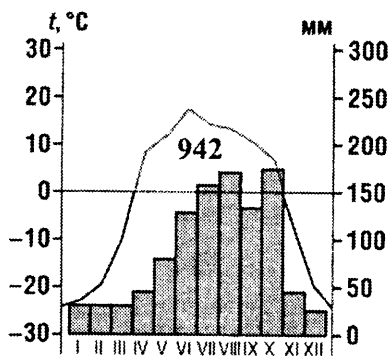
- 1) 1;
- 2) 2;
- 3) 3;
- 4) 4.

А3. Цифрой 2 на рисунке обозначен:



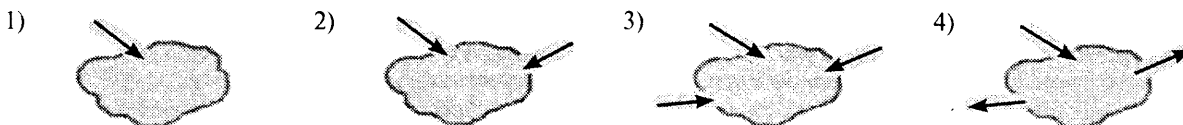
- 1) сброс;
- 2) кратер;
- 3) очаг землетрясения;
- 4) эпицентр землетрясения.

А4. Определите климат Евразии, которому соответствует климатограмма:

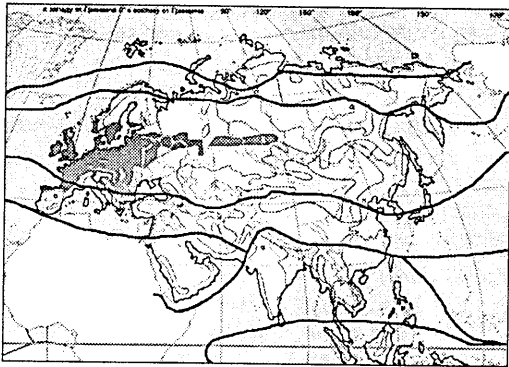


- 1) умеренный муссонный;
- 2) арктический;
- 3) умеренный резко континентальный;
- 4) субтропический средиземноморский.

А5. Сточное озеро изображено на рисунке:



**A6.** На карте цветом выделена природная зона:



- 1) тундра и лесотундра;
- 2) тайга;
- 3) смешанные и широколиственные леса;
- 4) жестколистные вечнозеленые леса и кустарники.

**A7.** Для населения мира характерна(-ен; -о):

- 1) наибольшая доля представителей европеоидной расы в структуре населения Австралии;
- 2) отрицательный естественный прирост населения в большинстве стран Азии;
- 3) отсутствие среднеурбанизированных государств в Африке;
- 4) увеличение численности населения Северной Америки исключительно за счет естественного прироста.

**A8.** Унитарными по форме политико-территориального устройства являются государства:

- 1) Мексика, Греция;
- 2) Эстония, Италия;
- 3) Индия, Португалия;
- 4) Бразилия, Норвегия.

**A9.** В состав БРИКС входят государства:

- 1) Испания, Египет;
- 2) ЮАР, Индонезия;
- 3) Бразилия, Индия;
- 4) Россия, Норвегия.

**A10.** В тройку ведущих стран мира по площади лесов входят:

- 1) Швеция, Польша;
- 2) Россия, Канада;
- 3) Беларусь, Мексика;
- 4) Австралийский Союз, Испания.

**A11.** География черной металлургии мира характеризуется:

- 1) ростом потребления железного лома в производстве стали;
- 2) низкой материалоемкостью производств;
- 3) отсутствием бескоксового производства металлов в развивающихся странах;
- 4) направлением экспортных потоков железной руды преимущественно в Южную Америку.

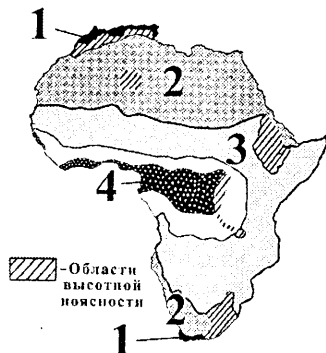
**A12.** В характеристике мирового сельского хозяйства ВЕРНЫМ является утверждение:

- 1) Северной Америке принадлежит наибольшая доля среди регионов мира в общей площади обрабатываемых земель;
- 2) потребление зерна на душу населения в развивающихся странах значительно выше, чем в развитых;
- 3) в производстве сахара наибольшая доля приходится на тростниковый сахар;
- 4) животноводство в полупустынных и пустынных районах специализируется на разведении свиней.

**A13.** Для железнодорожного транспорта в транспортной системе мира характерна:

- 1) наибольшая среди других видов транспорта зависимость от погодных условий;
- 2) низкая себестоимость перевозки грузов;
- 3) наибольшая среди регионов мира густота железных дорог в Латинской Америке;
- 4) наибольшая общая длина железных дорог в Бразилии.

**A14.** Определите ВЕРНОЕ утверждение относительно природной зоны Африки, обозначенной на карте цифрой 4:



- 1) выпадает 700—800 мм осадков в год;
- 2) распространены почвы — сероземы;
- 3) произрастают кофейное дерево, хлебное дерево, железное дерево;
- 4) типичными представителями фауны являются орангутан, тигр, гепард.

**A15.** Для социально-экономического развития ЮАР характерно(-а):

- 1) вхождение в состав Организации стран — экспортеров нефти (ОПЕК);
- 2) преобладание в структуре населения мулатов и метисов;
- 3) ведущая роль нефтедобывающей промышленности в структуре промышленного производства;
- 4) ведущая роль животноводства в структуре сельского хозяйства.

**A16.** Для Австралии характерно(-а):

- 1) наличие современного оледенения;
- 2) формирование пустынного тропического климата на восточном побережье;
- 3) принадлежность большей части материка к области внутреннего стока;
- 4) распространение утконоса и ехидны в природной зоне полупустынь и пустынь.


**A17.** В характеристике социально-экономического развития Австралийского Союза **ВЕРНЫМ** является утверждение:

- 1) в структуре населения преобладают выходцы из Азии;
- 2) по разведанным запасам железных руд страна входит в тройку мировых лидеров;
- 3) растениеводство занимает ведущее место в структуре сельского хозяйства;
- 4) в структуре экспорта отсутствует продукция горнодобывающей промышленности.

**A18.** В характеристике природы Антарктиды **ВЕРНЫМ** является утверждение:

- 1) Южный географический полюс совпадает с Южным магнитным полюсом;
- 2) максимальная мощность ледникового покрова достигает 3000 м;
- 3) абсолютный минимум температуры воздуха составляет  $-80^{\circ}\text{C}$ ;
- 4) животный мир в прибрежных водах богаче, чем на материке.

**A19.** Укажите эндемика Южной Америки:



**A20.** Для социально-экономического развития стран Южной Америки характерна(-о; -ен):

- 1) низкая доля грамотного населения;
- 2) наличие государств с монархической формой правления;
- 3) наличие незначительных запасов железных руд в Бразилии;
- 4) экспорт говядины из Аргентины.

**A21.** В характеристике природы Северной Америки **ВЕРНЫМ** является утверждение:

- 1) горы Аппалачи имеют крутые склоны и остроконечные вершины;
- 2) в шельфовой зоне Северного Ледовитого океана отсутствуют месторождения нефти;
- 3) наибольшее количество осадков на материке выпадает в пределах Великих равнин;
- 4) на материке расположен ледник Маласпина.

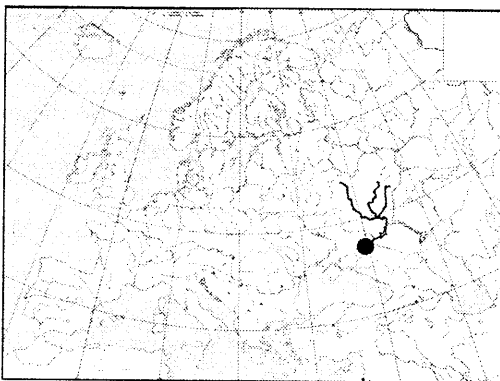
**A22.** Для социально-экономического развития США в **ОТЛИЧИЕ** от Канады характерна:

- 1) пестрота этнического состава населения;
- 2) унитарная форма административно-территориального устройства;
- 3) ведущая роль машиностроения в структуре обрабатывающей промышленности;
- 4) ведущая роль растениеводства в структуре сельского хозяйства.

**A23.** **ВЕРНЫМ** в характеристике природы Евразии является утверждение:

- 1) горы Алтай расположены в пределах молодого складчатого пояса;
- 2) над Арктикой формируется область высокого атмосферного давления;
- 3) самые мощные речные системы материка расположены в Европе;
- 4) южная граница многолетней мерзлоты в азиатской части континента достигает параллели  $35^{\circ}$  с. ш.

**A24.** На карте Европы точкой отмечено устье реки:



- 1) Дон;
- 2) Прут;
- 3) Дунай;
- 4) Одер.

**A25.** Для социально-экономического развития стран Южной Европы характерна(-о):

- 1) наибольшая численность населения в Греции;
- 2) производство основной части электроэнергии на ТЭС;
- 3) производство строительных материалов только для внутреннего рынка;
- 4) возделывание бобовых культур преимущественно для экспорта.

**A26.** Для социально-экономического развития государств Балтии характерна(-о):

- 1) естественная убыль населения;
- 2) занятость большей части трудоспособного населения в промышленности;
- 3) использование в Латвии преимущественно местного сырья для развития энергетики;
- 4) ведущая роль растениеводства в структуре сельского хозяйства.

**A27.** Для социально-экономического развития Индии характерно(-а):

- 1) преобладание буддистов среди верующих;
- 2) развитие энергетики преимущественно на основе угольного сырья;
- 3) отсутствие основной химии в структуре химической промышленности;
- 4) наибольшая доля продукции сельского хозяйства в структуре экспорта.

**A28.** Укажите ряд, в котором верно расположены в направлении с востока на запад географические объекты России:

- 1) река Лена — река Енисей — река Обь;
- 2) Братское водохранилище — озеро Байкал — озеро Ладожское;
- 3) горы Хибинны — Уральские горы — горы Кавказ;
- 4) Западно-Сибирская равнина — Среднесибирское плоскогорье — Восточно-Европейская равнина.

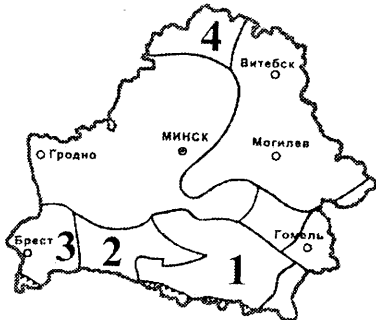
**A29.** В характеристике социально-экономического развития России ОШИБОЧНЫМ является утверждение:

- 1) доля городского населения составляет более 70 %;
- 2) одним из центров авиационной промышленности является город Саратов;
- 3) в европейской части страны выращивают лен-долгунец;
- 4) Мурманск — один из главных портов на Балтийском море.

**A30.** Относительно географического положения Беларуси ВЕРНЫМ является утверждение:

- 1) крайний северный пункт расположен в Верхнедвинском районе;
- 2) территория страны с запада на восток простирается на 560 км;
- 3) транзитность не является преимуществом экономико-географического положения;
- 4) географический центр расположен в Мядельском районе.

**A31.** Прибугская равнина расположена в пределах тектонической структуры, отмеченной на карте цифрой:



- 1) 1;
- 2) 2;
- 3) 3;
- 4) 4.

**A32.** Для климата Беларуси характерна(-о):

- 1) большая продолжительность дня летом на севере страны в сравнении с югом;
- 2) увеличение среднегодовых температур воздуха с юго-запада на северо-восток;
- 3) наименьшая относительная влажность воздуха осенью;
- 4) выпадение наибольшего годового количества осадков на Мозырской гряде.

**A33.** К бассейну Балтийского моря относится река:

- 1) Сож;
- 2) Ясельда;
- 3) Мухавец;
- 4) Припять.

**A34.** В характеристике растительного мира Беларуси ВЕРНЫМ является утверждение:

- 1) на большей части лесопокрытой площади преобладает дуб;
- 2) в составе флоры наиболее широко представлены степные виды;
- 3) наиболее широко пойменные луга представлены на Минской возвышенности;
- 4) в общей площади болот наибольшая доля принадлежит низинным.

**A35.** В характеристике населения Беларуси ВЕРНЫМ является утверждение:

- 1) в возрастной структуре наибольшую долю составляет население младшего возраста (0—15 лет);
- 2) на территории страны отсутствуют поселения со значительной численностью цыган;
- 3) многофункциональные города имеются в каждой области;
- 4) наибольшая среди областей численность населения отмечается в Витебской области.

**A36.** Для промышленности Беларуси характерно(-а):

- 1) отсутствие передельной металлургии;
- 2) отсутствие лесозаготовок в бассейне реки Птичь;
- 3) наличие собственного сырья для производства цемента;
- 4) концентрация наибольшего количества рыбхозов в Могилевской области.

**A37.** Для сельского хозяйства Беларуси характерна(-о):

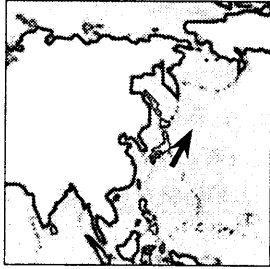
- 1) наибольшая доля сельскохозяйственных угодий, занятых под постоянными культурами;
- 2) выращивание пшеницы только в южных районах страны;
- 3) развитие на севере страны преимущественно мясо-молочного скотоводства;
- 4) развитие овцеводства в основном на крупных овцеводческих комплексах.

**A38.** В характеристике транспорта Беларуси **ВЕРНЫМ** является утверждение:

- 1) в грузообороте ведущая роль принадлежит железнодорожному транспорту;
- 2) среди областей наиболее густой сетью автомобильных дорог с твердым покрытием выделяется Витебская область;
- 3) ветвь нефтепровода «Дружба» проходит через Витебск;
- 4) большая часть перевозимых речным транспортом грузов приходится на Августовский канал.

## Часть В

**B1.** Назовите течение Мирового океана, отмеченное на картосхеме стрелкой.



*В ответ запишите название течения. Например: Калифорнийское.*

**B2.** Расположите последовательно с севера на юг следующие географические объекты:

- |                      |                       |
|----------------------|-----------------------|
| 1) горы Анды;        | 3) море Росса;        |
| 2) пустыня Кызылкум; | 4) Магелланов пролив. |

*Ответ запишите цифрами, соблюдая полученную последовательность. Например: 4231.*

**B3.** Установите соответствие между природными зонами, отмеченными на карте цветом и буквами, и их характеристиками:

Природная зона	Характеристика
	<ol style="list-style-type: none"> <li>1) формируются дерново-подзолистые и бурые лесные почвы</li> <li>2) обитают северные олени, полярные совы, песцы, лемминги</li> <li>3) на коричневых почвах произрастают гигантская и вечнозеленая секвойи, дугласия, желтая сосна</li> <li>4) на черноземах и каштановых почвах растут бizonья трава, астры, типчак</li> </ol>

*Ответ запишите в виде сочетания букв и цифр, соблюдая алфавитную последовательность букв. Например: А2Б1В4Г3.*

**B4.** Способность почвы обеспечивать растения питательными веществами, водой и воздухом — это ...

*Дополните предложение и запишите ответ в виде слова или нескольких слов.*

**B5.** Федеративное государство в Южном полушарии, второе по площади на материке, недра которого богаты нефтью, урановым сырьем, металлическими рудами, самородной серой. Выделяется среди стран региона крупными объемами производства шерсти, винограда, зерновых и говядины. Столица данного государства — ...

*Запишите столицу государства. Например: Минск.*

**B6.** Установите соответствие:

Экономический и политический центр	Регион
<ol style="list-style-type: none"> <li>А) Познань</li> <li>Б) Мумбаи</li> <li>В) Рейкьявик</li> <li>Г) Сан-Франциско</li> </ol>	<ol style="list-style-type: none"> <li>1) Северная Европа</li> <li>2) Северная Америка</li> <li>3) Южная Азия</li> <li>4) Восточная Европа</li> <li>5) Юго-Восточная Азия</li> </ol>

*Ответ запишите в виде сочетания букв и цифр, соблюдая алфавитную последовательность букв левого столбца. Помните, что не все данные правого столбца могут быть при этом использованы. Например: А2Б1В4Г5.*

В7. Установите соответствие:

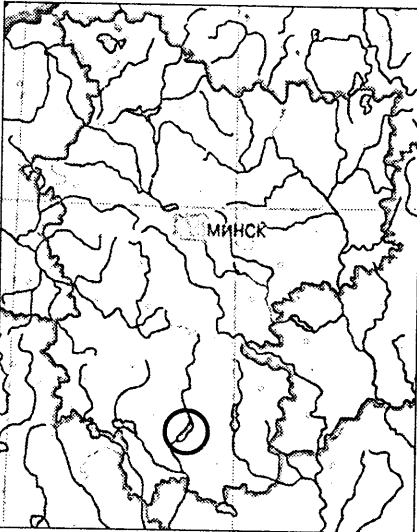
Характеристика государства	Государство
А) федеративная республика, одна из ведущих стран по разведанным запасам бокситов	1) Бразилия
Б) унитарная республика, одна из ведущих стран по размерам выплавки стали	2) Китай
В) федеративная республика, одна из крупнейших стран по производству хлопка-волокна	3) Индия
Г) федеративная республика, одна из ведущих стран по протяженности железных дорог	4) Германия
	5) Россия

Ответ запишите в виде сочетания букв и цифр, соблюдая алфавитную последовательность букв левого столбца. Помните, что не все данные правого столбца могут быть при этом использованы. Например: А2Б1В4Г5.

В8. В Беларуси к кристаллическому фундаменту в пределах Белорусской антеклизы приурочены Околовское и Новоселковское месторождения ...

Дополните предложение и запишите ответ в виде слова или нескольких слов.

В9. Запишите название водохранилища, показанного на карте внутри круга.



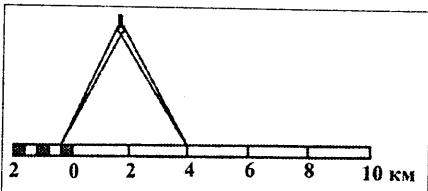
В ответ запишите название водохранилища. Например: Заславское.

В10. Установите соответствие:

Характеристика города	Город
А) среди областных центров наименьший по численности населения, центр по производству ковров	1) Несвиж
Б) расположен на реке Сож, центр по производству цемента	2) Брест
В) расположен на берегу реки Днепр, в нем находится метизный завод	3) Витебск
Г) дворцово-парковый комплекс внесен в список объектов Всемирного культурного наследия ЮНЕСКО	4) Кричев
	5) Речица

Ответ запишите в виде сочетания букв и цифр, соблюдая алфавитную последовательность букв левого столбца. Помните, что не все данные правого столбца могут быть при этом использованы. Например: А2Б1В4Г5.

В11. Расстояние между объектами, измеренное на карте с помощью циркуля-измерителя, на местности равно 8,4 км. Определите численный масштаб карты.



В ответ запишите знаменатель масштаба данной карты. Например: 2 000 000.

В12. Определите температуру воздуха на вершине горы с абсолютной высотой 2133 м, если у ее подножия, расположенного на высоте 233 м над уровнем моря, температура составляет +6,1 °С.

Ответ запишите в виде целого числа. Знак «+» (если число положительное) или «-» (если число отрицательное) пишете в отдельной клеточке. Единицы измерения не указывайте. Например: +15.