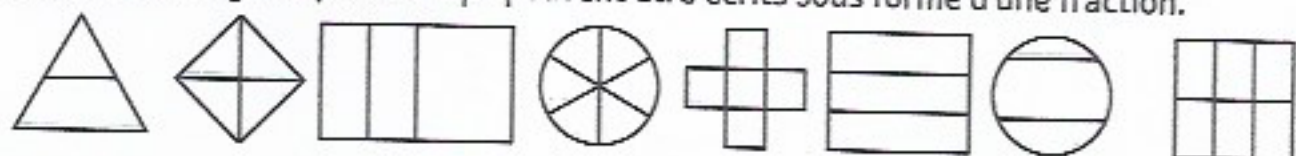


LIRE ET NOMMER DES FRACTIONS

① Colorie les partages équitables qui peuvent être écrits sous forme d'une fraction.



② Colorie d'une même couleur, la représentation de la fraction et son écriture en lettres.



ÉCRIRE DES FRACTIONS

③ Écris ces fractions en chiffres ou en lettres.

deux tiers → ...

trois quarts → ...

cinq sixièmes → ...

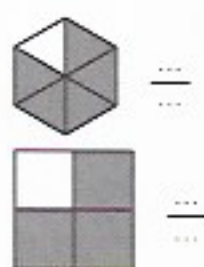
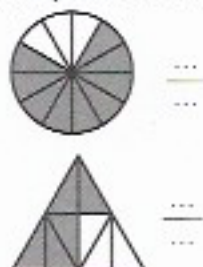
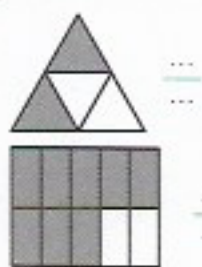
un demi → ...

quatre dixièmes → ...

deux cinquièmes → ...

$\frac{1}{4}$	→	
$\frac{9}{10}$	→	
$\frac{2}{6}$	→	
$\frac{3}{5}$	→	
$\frac{5}{8}$	→	
$\frac{6}{9}$	→	

④ Écris la fraction qui correspond à la partie coloriée.



REPRÉSENTER DES FRACTIONS

⑤ Trace une bande de la longueur que tu souhaites puis colorie la fraction demandée.

